

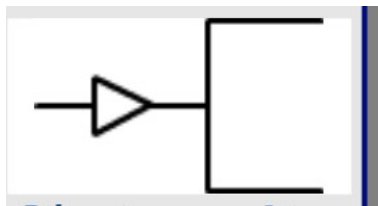
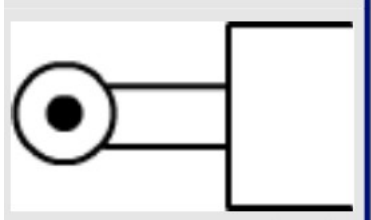
## FICHA 4 Pneumática

Nome:  
Apellidos:

Puntuación: \_\_\_/ 10 puntos

**EXERCICIO 1:**

Indica como se chaman os seguintes accionamentos:



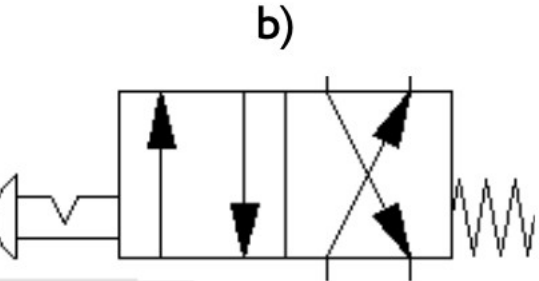
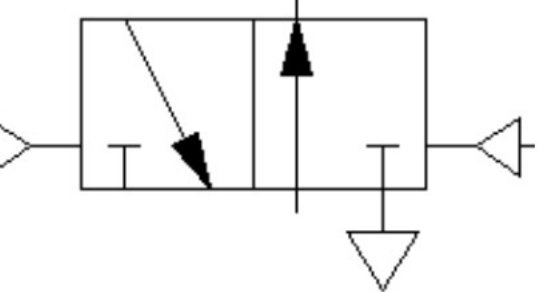
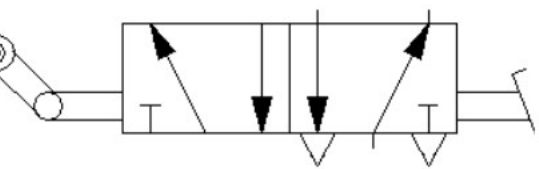
**EXERCICIO 2:**

Que tipo de compoñente é?

Símbolo	Nome

**EXERCICIO 3:**

Indica as características de cada válvula:

Símbolo válvula	Características
<p style="text-align: center;"><b>b)</b></p> 	<p>Vías:</p> <p>Posicións:</p> <p>Accionamento:</p> <p>Retorno:</p>
<p style="text-align: center;"><b>d)</b></p> 	<p>Vías:</p> <p>Posicións:</p> <p>Accionamento:</p> <p>Retorno:</p>
<p style="text-align: center;"><b>f)</b></p> 	<p>Vías:</p> <p>Posicións:</p> <p>Accionamento:</p> <p>Retorno:</p>

**EXERCICIO 4:**

Explica o funcionamento deste circuíto pneumático:

