

1 Los imperios bizantino y carolingio

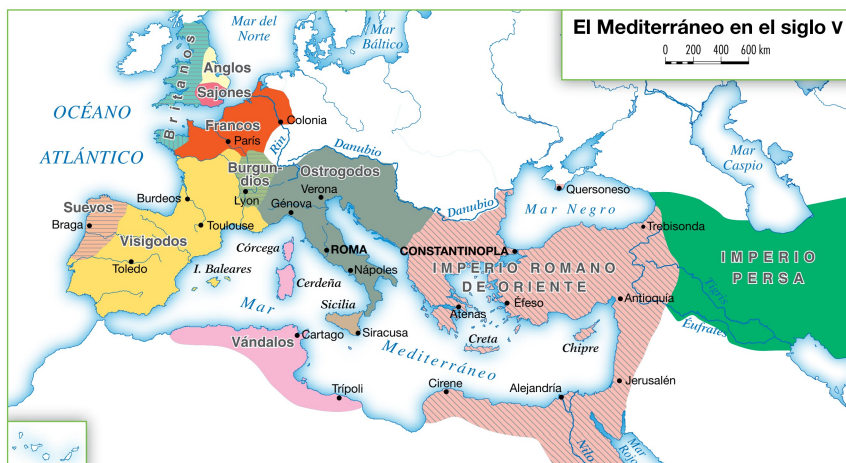
1 El fin del mundo antiguo

1.1 La ruptura de la unidad del imperio romano

Los romanos crearon un gran imperio en torno al mar Mediterráneo.

Bajo el emperador Trajano (98-177), sus fronteras llegaban en Europa hasta las islas Británicas y los ríos Rin y Danubio; en Asia hasta el río Tigris; y en África hasta el desierto del Sáhara.

En el año 395, el emperador **Teodosio dividió el imperio** en dos partes, para defenderlo mejor de las invasiones de los pueblos germánicos: el **imperio romano de Occidente**, con capital en Roma; y el **imperio romano de Oriente**, con capital en Constantinopla.



1.2 Los imperios de Oriente y de Occidente

Desde su división, cada parte del imperio siguió una evolución diferente:

- El **imperio romano de Oriente**, conocido después como **imperio bizantino**, sobrevivió a las invasiones germánicas y se mantuvo hasta 1453.
- El **imperio romano de Occidente** desapareció en el año 476, cuando Odoacro, jefe de uno de los pueblos germánicos, depuso al último emperador romano, Rómulo Augústulo.

Este hecho representa para los historiadores el final del mundo antiguo y el inicio de la **Edad Media**, un nuevo período histórico que se extiende hasta 1453 (toma de Constantinopla por los turcos) o 1492 (descubrimiento de América).

A partir del año 476, en los territorios del imperio romano de Occidente se establecieron diversos **reinos germánicos**. Entre ellos destacaron el reino franco, en la Galia, y el reino visigodo, en Hispania.

Tareas para progresar

▼ Comprender la realidad histórica

1 Calcula el tiempo que duraron los imperios romanos de Oriente y de Occidente, desde la división del emperador Teodosio hasta su desaparición:

.....

2 Escribe los nombres de las capitales del imperio romano de Occidente y del imperio bizantino o de Oriente.

.....

3 Contesta a las siguientes preguntas:

a) ¿Qué le ocurrió al imperio bizantino en 1453?

.....

b) ¿Qué originó la caída del imperio romano de Occidente?

.....

c) ¿Qué período histórico se extiende desde el año 476 hasta 1492?

.....

▼ Obtener información

4 La siguiente moneda muestra la imagen de Rómulo Augústulo. ¿Quién fue este personaje?



▼ Relacionar informaciones

5 Indica si las frases siguientes son verdaderas (V) o falsas (F):

a) El emperador Trajano dividió el imperio romano en dos partes.

b) El emperador Teodosio dividió el imperio romano en dos partes.

c) La capital del imperio romano de Occidente era Roma.

d) La capital del imperio romano de Occidente era Constantinopla.

e) El imperio romano de Oriente es conocido como imperio bizantino.

f) La Edad Media se inicia con la caída del imperio romano de Occidente.

g) La Edad Media se inicia con la caída del imperio romano de Oriente.

▼ Organizar la información

6 Completa este cuadro resumen:

FIN DEL MUNDO ANTIGUO	
El emperador Teodosio divide el imperio romano en:	
Imperio romano de	Imperio romano de
Capital	Capital
Fecha de su caída	Fecha de su caída

7 Completa las siguientes frases:

Con el final del mundo antiguo se inicia el período histórico de la Edad

Este período se extiende hasta (toma de Constantinopla por los turcos) o (descubrimiento de América).

2 El imperio bizantino

2.1 La evolución histórica

El imperio romano de Oriente logró sobrevivir a la caída de Roma. Con el tiempo, pasó a llamarse imperio bizantino. Esta denominación procede de Bizancio, una colonia griega situada en el mar Negro que fue reconstruida por Constantino en el año 330. La nueva ciudad era conocida como Constantinopla, la ciudad de Constantino, y fue la capital del imperio.

En sus inicios, el imperio bizantino comprendía los territorios de los Balcanes, Grecia, Asia Menor, Siria y Egipto. Pero desde entonces, su historia atravesó **períodos** de auge y de decadencia:

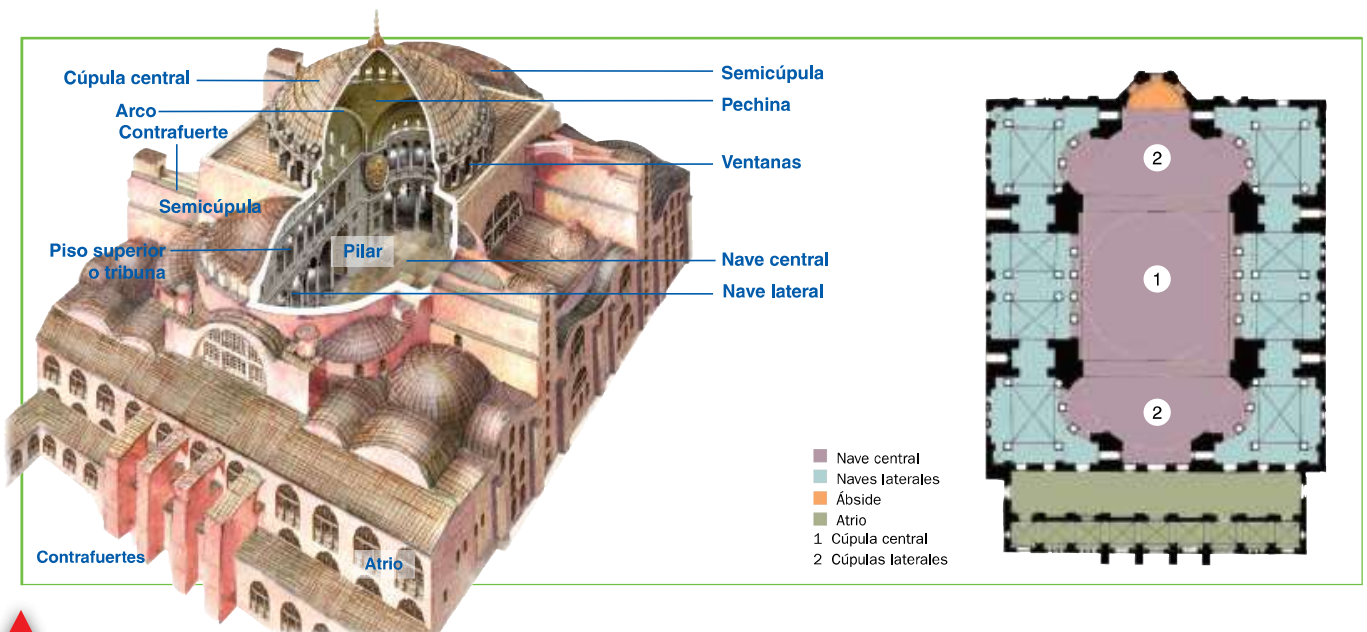
- En el **siglo VI**, durante el reinado de Justiniano I (527-565), el imperio alcanzó su mayor esplendor. Justiniano conquistó el norte de África, Sicilia, Italia y el sureste de Hispania.
- En el **siglo VII**, los musulmanes conquistaron Siria, Palestina y Egipto, y redujeron su territorio a Asia Menor, los Balcanes y algunas posesiones en Italia.
- Desde **mediados del siglo XI**, Bizancio entró en una profunda crisis, hasta que finalmente los turcos acabaron conquistando Constantinopla (1453) y pusieron fin al imperio.

2.2 El arte bizantino. La arquitectura

El arte bizantino tuvo una gran riqueza y expresó el poder de los emperadores y de la Iglesia. Sus manifestaciones principales fueron la arquitectura; los mosaicos, que decoraron el interior de las iglesias, y los iconos o imágenes sagradas, realizadas sobre tabla o metal.

La **arquitectura** utilizó **materiales pobres** como el ladrillo, recubierto a veces en el exterior con mármol y en el interior con ricos mosaicos. El **edificio principal** fue la **iglesia**, de planta rectangular y cubierta adintelada o de planta cuadrada, octogonal o de cruz griega y con cúpula. Los **ejemplos** más destacados son la basílica de Santa Sofía de Constantinopla, encargada por Justiniano, y la iglesia de San Vital, en Rávena; ambas son del siglo VI.

► Santa Sofía, iglesia encargada por Justiniano I en el siglo VI, tiene una nave central muy ancha, sobre la que se sitúa una gran cúpula sobre pechinas de 32 m de diámetro.



Tareas para progresar

▼ Comprender la realidad histórica

8 Contesta a estas preguntas:

a) ¿De dónde procede la denominación de imperio bizantino?

.....

b) ¿Con qué nombre se conocía la nueva ciudad reconstruida por el emperador Constantino?

.....

c) ¿En qué siglo alcanzó el imperio bizantino su mayor esplendor?

.....

▼ Producir textos

9 En la siguiente imagen aparece representado Justiniano. Explica, con tus propias palabras y sin cometer faltas de ortografía, quién fue este personaje histórico.



.....

.....

.....

.....

▼ Conocer manifestaciones artísticas

10 Con ayuda del texto y de la imagen de Santa Sofía, describe cómo era una iglesia bizantina.

.....

.....

.....

▼ Organizar la información

11 Completa este cuadro resumen sobre el arte bizantino:

Manifestaciones principales
Materiales utilizados en la arquitectura
Principales edificios

12 Completa las siguientes frases:

- Durante el reinado de el imperio bizantino alcanzó su mayor esplendor.
- Los musulmanes redujeron el territorio a
, los Balcanes y algunas posesiones en
- Los acabaron conquistando la ciudad de y pusieron fin al imperio.

3 El imperio carolingio

3.1 La evolución histórica

En el año 751, Pipino el Breve implantó una nueva dinastía franca, que alcanzó su máximo esplendor con su hijo Carlomagno, de quien proviene el nombre del imperio.

Carlomagno (742-814) se propuso restablecer la unidad del antiguo imperio romano de Occidente. Con este fin conquistó el norte de Italia, el centro de Europa y el norte de Alemania.

Tras estas conquistas, Carlomagno fue proclamado **emperador** por el papa León III, en el año **800**. El imperio solo duró hasta el año 843, cuando el hijo y sucesor de Carlomagno, Luis el Piadoso, lo dividió entre sus hijos.

3.2 Las actividades económicas

Las **actividades agrarias** fueron predominantes. Se practicaban en extensos **latifundios**, donde se cultivaban, sobre todo, cereales, que eran la base de la alimentación. Para su explotación, los latifundios se dividían en dos partes:

- La **reserva señorial**, cuyos productos eran para el propietario.
- Los **mansos**, o pequeñas parcelas trabajadas por campesinos, que no podían abandonar la tierra y debían pagar al dueño rentas y servicios.

La **artesanía** se realizaba en los latifundios, donde se fabricaban los artículos necesarios para la vida: tejidos, herramientas, etc. El **comercio** se limitaba a los artículos de lujo demandados por los más ricos.

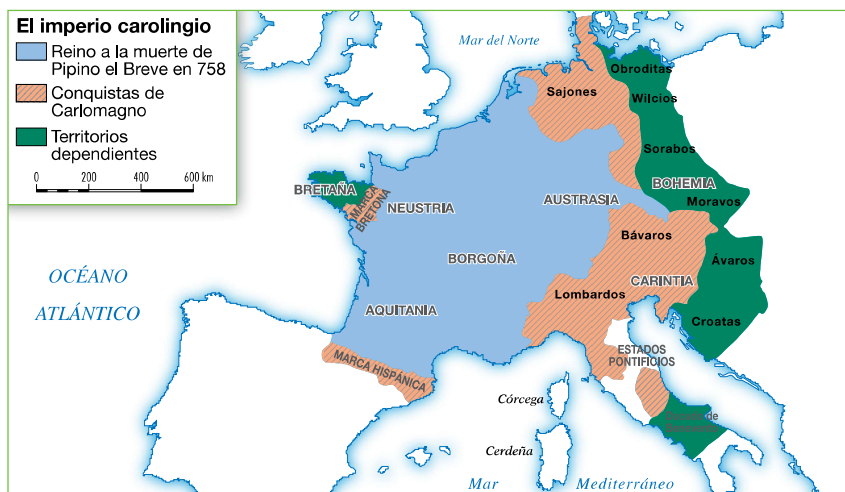
3.3 La sociedad carolingia

La sociedad carolingia se organizaba en tres grupos sociales:

- Los **nobles** y los **altos cargos eclesiásticos** poseían la mayor parte de las tierras y desempeñaban los puestos principales del gobierno y la administración.
- El **resto de las personas libres**: campesinos, artesanos y comerciantes.
- Los **siervos**, descendientes de antiguos esclavos, que estaban sujetos a la tierra; es decir, no podían abandonarla sin permiso.



Los grupos sociales.



Tareas para progresar

▼ Conocer elementos matemáticos

13 Calcula los años que duró el imperio carolingio.

.....

▼ Comprender la realidad histórica

14 Contesta a estas preguntas:

a) ¿De dónde procede el nombre de imperio carolingio?

.....

.....

b) ¿Cuál era el objetivo de Carlomagno?

.....

.....

▼ Relacionar informaciones

15 Escribe V (verdadera) o F (falsa) en cada frase:

a) En el imperio carolingio, las actividades agrarias eran predominantes.

b) La agricultura se realizaba en latifundios.

c) Los latifundios se dividían en tantas partes como propietarios tuviese.

d) La reserva señorial era una parte del latifundio.

e) Las tierras de los mansos eran trabajadas por campesinos.

f) Los tejidos y las herramientas eran proporcionados por el comercio.

g) Los siervos estaban sujetos a la tierra.

h) Los cereales no constituían la base de la alimentación.


▼ Obtener información

16 Ordena de forma cronológica, de más antiguo (A) a más reciente (C), los siguientes personajes históricos:

Carlomagno



Luis el Piadoso



Pipino el Breve



▼ Organizar la información

17 En el gráfico siguiente, coloca cada grupo social en su nivel correspondiente: a) siervos; b) emperador; c) campesinos, artesanos y comerciantes; d) nobles y altos cargos eclesiásticos.

