

# Examen 'Geometría plana 2 eso 5/5/2023

Nombre:

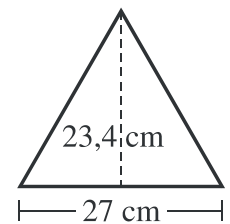
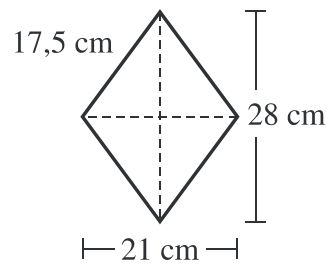
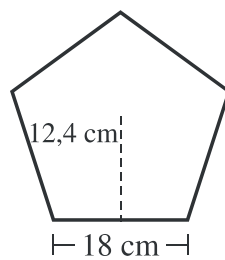
1 Calcula el area y perímetro de un triángulo rectángulo

a) De catetos  $a=2\text{cm}$  y  $b=3\text{cm}$

b) De hipotenusa  $13\text{cm}$  y un cateto  $12\text{cm}$

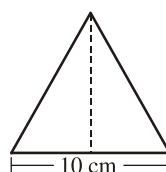
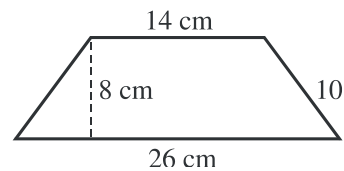
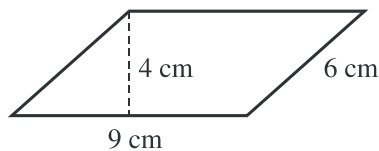
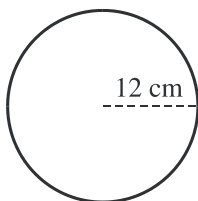
(2ptos)

2 Calcula el perímetro y el área de estas figuras:



(2ptos)

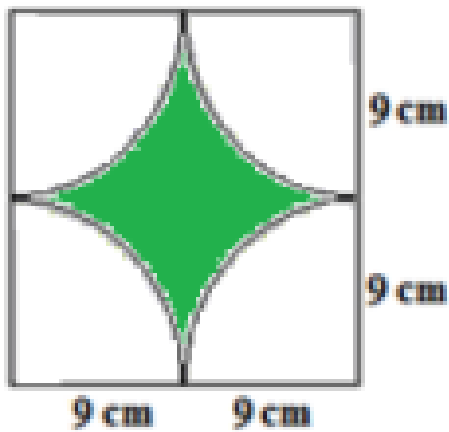

3.- Calcula el área y el perímetro de estas figuras:



(3Ptos)

Nombre:

4 Calcular la superficie de las zonas sombreadas:(2ptos)



5 Calcula el área y perímetro de

