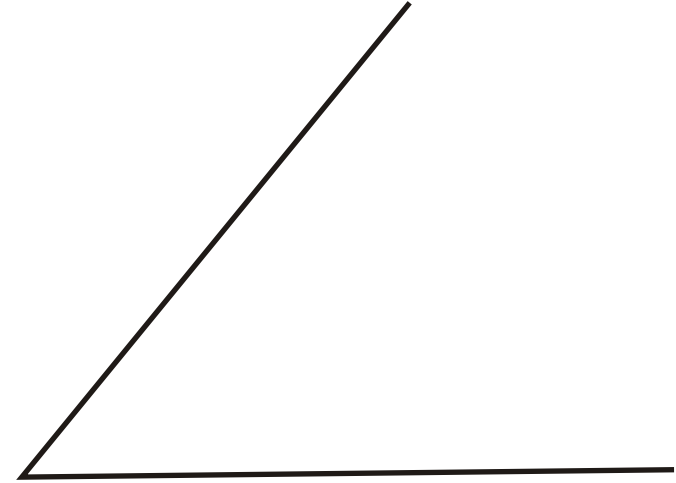
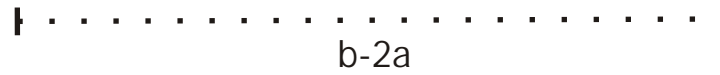
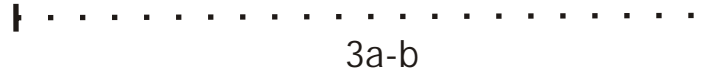
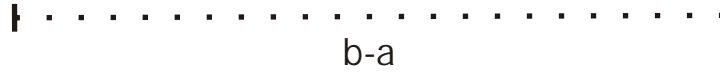
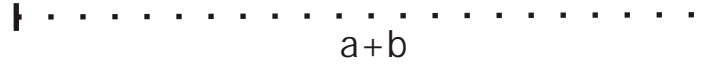


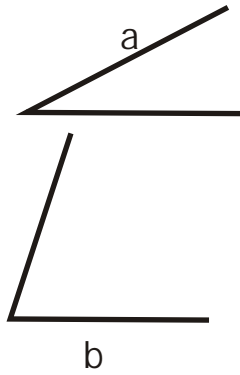
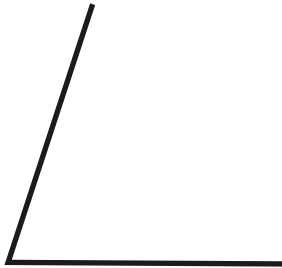
TRAZADOS GEOMÉTRICOS



1. Dividir el segmento en 5 partes iguales

2. Realizar las operaciones indicadas con los segmentos

3. Trazar la bisectriz del ángulo dado



6. Dibujar un ángulo igual al dado

4. Realizar las operaciones indicadas con los ángulos

5. Trazar la mediatriz del segmento dado