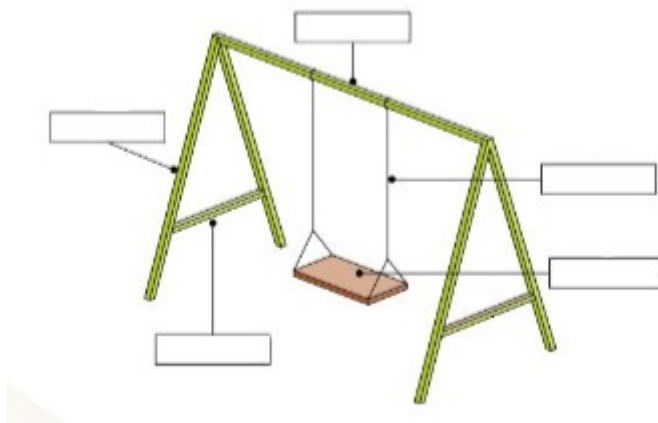


EJERCICIOS ESTRUCTURAS 1

1. Identifica los esfuerzos que intervienen en el siguiente columpio:



2. Identifica los esfuerzos a los que se ve sometido:

a) Sedal de la caña de pescar

b) Llave al abrir una cerradura

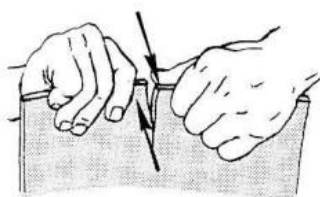
c) Rama que sostiene el caldero



d)


e) Caña de pescar

f)



g) Balón

h) La correa de paseo del perro



3. Indica qué tipo de estructura artificial predomina en las siguientes imágenes:

a)



b)



c)



d)



e)



f)



g)



h)



i)

