

Des vitamines pour le cerveau !

1 Que transporte Thomas dans son sac ?

a. Souligne les erreurs dans la liste de Marion et écris la liste correcte.



1 bouteille de jus de pomme,
1 banane, 1 barre de céréales,
2 poquets de biscuits,
3 croissants,
des fruits secs.

Dans son sac, Thomas transporte...


une bouteille de...

b. Écoute et vérifie.

2 Mots croisés. Complète avec le verbe **manger**.



3 Retrouve 9 objets utiles en classe. Utilise des couleurs pour les différencier.



4 Complète avec les formes du verbe **avoir** au présent.

- Tu as une barre de céréales ?
- Non, mais j'_____ des fruits secs.
Il _____ des fruits secs.
- Vous _____ cours d'anglais ?
- Non, nous _____ cours de français.
Elles _____ cours de français.
- On _____ cours en salle 10 ?
- Non, on _____ cours en salle 11.
Ils _____ cours en salle 11.

On compte jusqu'à un million !

5 Les chiffres et les nombres.

a. Complète la comptine.

Tu t'appelles Mathieu
 Tu comptes jusqu'à _____
 _____ t'appelle Benoît
 Tu _____ jusqu'à _____
 Tu _____ Vincent
 Tu _____ jusqu'à _____
 Tu _____ Odile
 Tu _____ jusqu'à _____
 Et qui compte _____ un _____ ?
 Marion ! Marion ! Marion !

b. Écoute et vérifie.

6 Tu sais compter jusqu'à combien ? Écoute et coche la case correspondante.

	10	20	30	40	50	60	70	80	90	100
1										
2										
3										
4										
5										
6	X									
7										
8										
9										
10										

7 Écoute ces numéros de téléphone et corrige-les.



- Laure : 06 26 79 63 93
- Mme Lanvin : _____
- M. Duval : _____
- David : _____

8 Écris ces nombres en chiffres.

1. deux cent soixante et un

261

2. mille six cent soixante et onze

3. quatre mille neuf cent quatre-vingt-un

4. un million douze mille six cent quatre-vingt-onze

9 Complète ce carré magique à l'aide des nombres suivants.

100 • 84 •
104 • ~~112~~ •
98 • 120 • 96
• 102 • 86

		500	500	500	500	500		
		=	=	=	=	=		
=	500	112	90	78	124		=	500
=	500	82		114		120	=	500
=	500	94	122		108	76	=	500
=	500	110		116		88	=	500
=	500		106	92	80		=	500
		=	=	=	=	=		
		500	500	500	500	500		


10 La France en chiffres. Écoute et entoure le nombre que tu entends.

- Population (nombre d'habitants) :
75 800 000 • 66 300 000 • 55 700 000
- Superficie :
640 679 km² • 280 231 km² • 880 156 km²
- Population de la région parisienne :
9 900 000 • 19 100 900 • 12 341 418



11 Quiz : les grandes dates de l'histoire ! Souligne la bonne réponse.

a. la Révolution française




1789 • 1299 • 1969

b. la découverte de l'Amérique



970 • 1050 • 1492

c. la découverte de la pénicilline



1945 • 2010 • 1928

d. l'invention de l'imprimerie



405 • 1440 • 1990

e. la première calculatrice mécanique



1944 • 1642 • 1370

f. les premiers pas sur la Lune



2005 • 1969 • 1990

g. la première ligne de métro du monde



1910 • 1863 • 1999

h. la fin de la Seconde Guerre mondiale



1941 • 1945 • 1947