

# 1. Atendendo aos documentos, conteste

- a) Identifique as figuras 1 e 2. (Documentos).
- b) Explique os tipos de réximes demográficos que pode distinguir na figura 1.
- c) Sinale catro causas que expliquen o último réxime demográfico representado na figura 1.

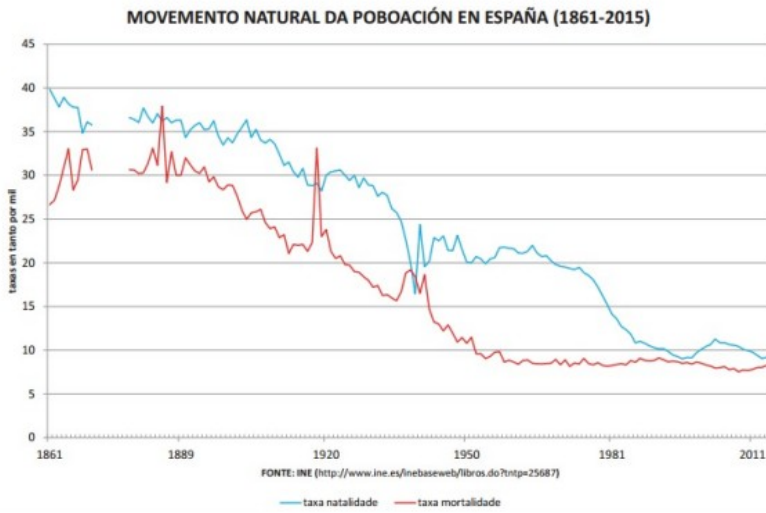


Figura 1 Fonte: INE



Figura 2 Fonte: <http://www.ign.es> España a través de los mapas

## 2. Análise de documento gráfico

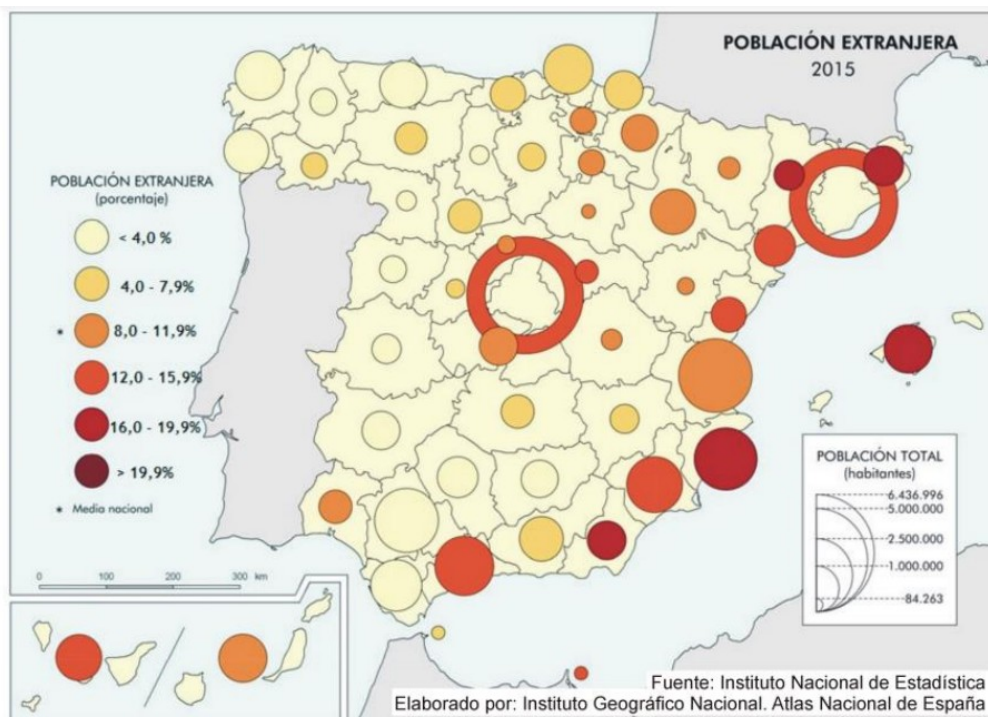


Figura 1

Atendendo ás figuras 1 e 2:

- Indique os tipos de documento das figuras 1 e 2 e analice a información recollida neles;
- Explique de forma razoada as diferenzas na estrutura demográfica á que responde cada pirámide representada na figura 2.
- Xustifique as consecuencias do modelo demográfico da pirámide máis recente.

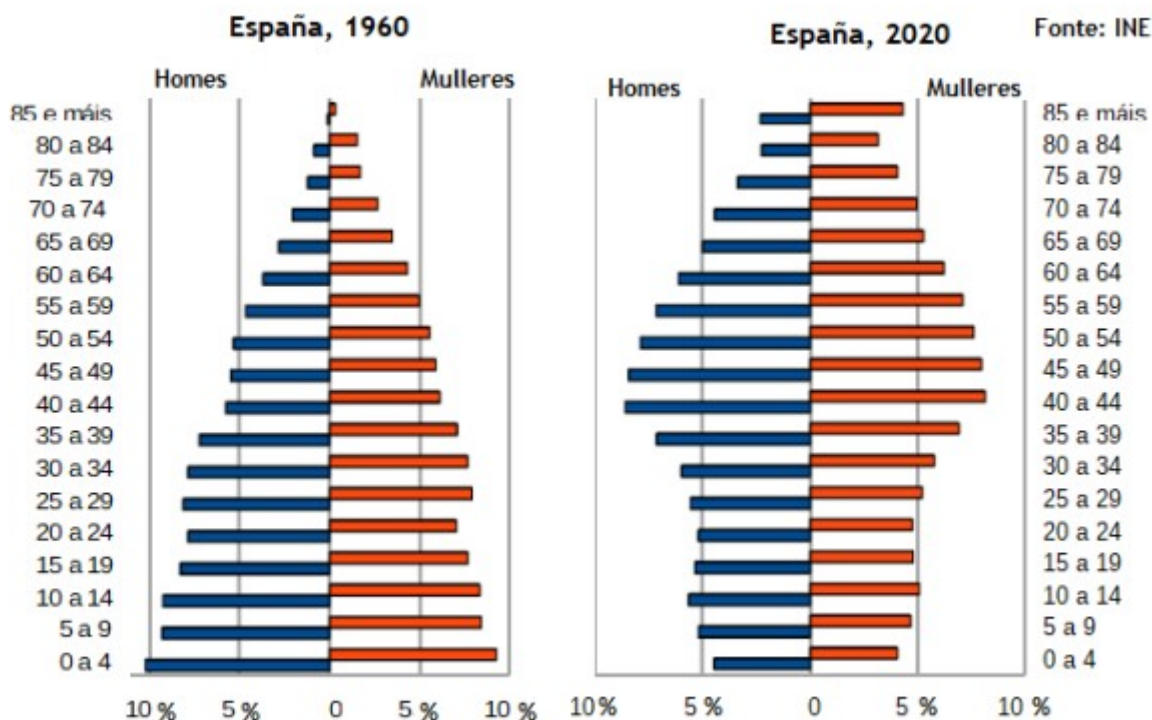
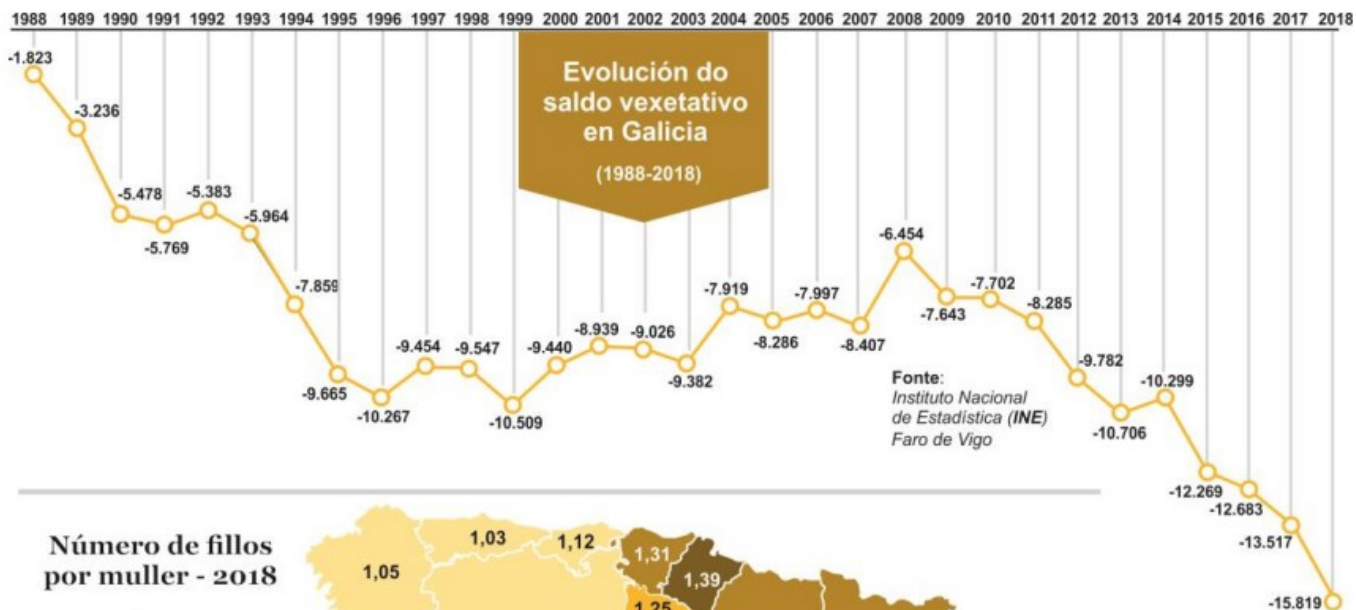


Figura 2

### 3. Análise de documento gráfico



#### Número de fillos por muller - 2018

Fonte: Instituto Nacional de Estadística (INE)

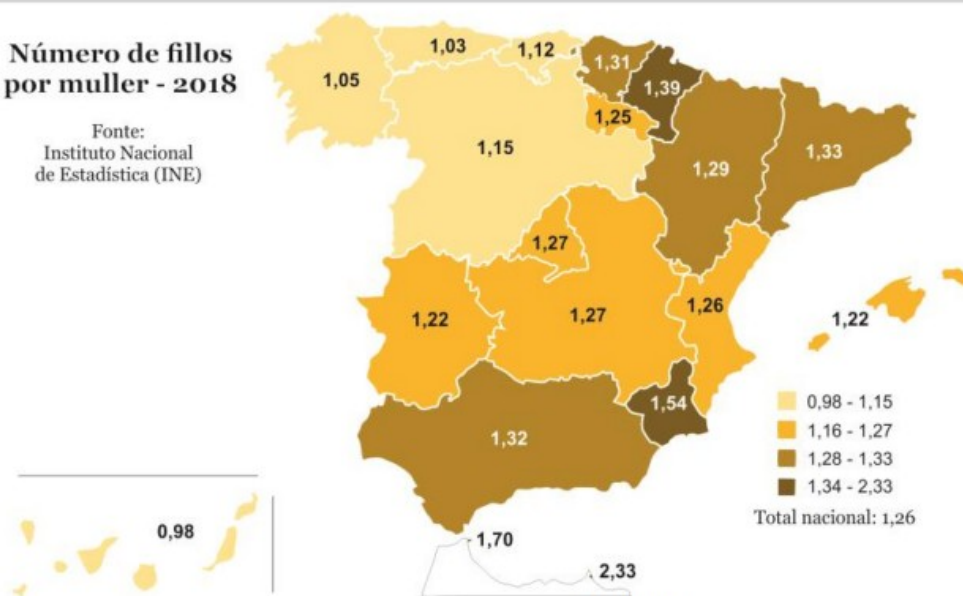


Figura 1

#### Atendendo á figura 1, conteste:

- Identifique os documentos da figura 1 e describa a información que aparece nos mesmos.
- Tendo en conta os documentos da figura 1, expoña a situación demográfica galega na actualidade explicando as causas que xustifican o seu saldo vexetativo.
- Comente as consecuencias que terán para Galicia os actuais saldo vexetativo e o número de fillos por muller.

#### 4. Documentos PAU 2025

2.1. Identifique o tipo de documento e analice o fenómeno da inmigración en canto a súa evolución dende os anos 90 hasta a actualidade, a súa procedencia e a distribución espacial.

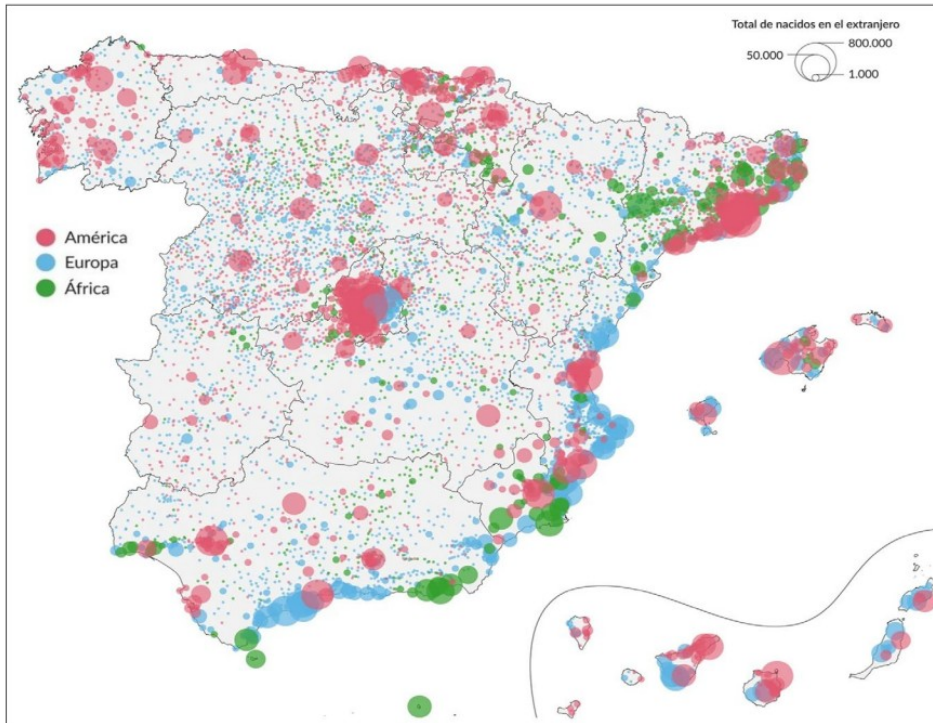


Figura 4. “A inmigración en España, lugar de residencia segundo o lugar de nacemento predominante”

Fonte: Álvaro Merino, El Orden Mundial (2024). Datos: INE (2022)

2.2. Explique as consecuencias demográficas, económicas e sociais da inmigración, así como a política migratoria española.