

1. Contesta.

a. Describe a política exterior de Xapón, Italia e Alemaña en dúas palabras.

Políticas exteriores agresivas e expansionistas.

b. Cales foron as tres premisas principais do programa político de Hitler dende 1933?

- panxermanismo (unificación dos territorios habitados por alemáns),
- rexeitamento ás fronteiras impostas no Tratado de Versalles,
- expansionismo territorial para asegurar as materias primas e o rearmamento.

c. Que é o eixe Berlín-Roma? Tratado bilateral entre Italia e Alemaña para fortalecer a súa relación E o pacto Antikomintern?

Pacto anticomunista firmado por Xapón e Alemaña contra a URSS, posteriormente se sumou Italia

2. Contesta as cuestións seguintes.

a. En que consistiu a política de contención? Consiste nunha política de cesión ante as pretensións e anexións alemáns por parte das potencias occidentais co obxectivo de evitar a guerra

Quen participou na Conferencia de Múnic? Hitler, Chamberlain, Mussolini e Daladier, por parte de Alemaña, Gran Bretaña, Italia e Francia; respectivamente.

Que se decidiu nesa conferencia?

Aceptáronse as esixencias territoriais de Hitler ata ese momento e entregáronlle toda Checoslovaquia (Hitler non debía facer máis demandas territoriais a partir dese momento).

b. Cal é o detonante da guerra? A invasión de Polonia.

Por que neste caso as potencias da Europa occidental si reaccionan?

Polonia asinara unha alianza defensiva con Francia e Gran Bretaña nun pacto de asistencia que garantizaba a súa independencia. (Polonia nacera do Tratado de Varsovia e era un punto clave).

3. Lee o texto e contesta.

TEXTOS HISTÓRICOS FUNDAMENTAIS

Protocolo secreto do pacto xermano-soviético

1. No caso dun reacondicionamento territorial e político nas áreas pertencentes aos Estados bálticos (Finlandia, Estonia, Letonia e Lituania), a fronteira norte de Lituania representará os límites da esfera de influencia de Alemaña e da URSS. [...]
2. No caso dun reacondicionamento territorial e político nas áreas pertencentes ao Estado polaco, as esferas de influencia de Alemaña e da URSS serán limitadas pola liña dos ríos Narew, Vístula e San. [...]
3. En relación co sueste europeo, a parte soviética chama a atención sobre o seu interese en Besarabia. A parte alemá declara o seu completo desinterese político nesas áreas.
4. Este protocolo deberá ser tratado por ambas as partes en estrito segredo.

Moscova, 23 de agosto de 1939. Polo Goberno do Reich alemán, J. von RIBBENTROP. Plenipotenciario do Goberno da URSS, V. MOLOTOV



3. Caricatura do pacto xermano-soviético.

a. Que é o Pacto de non agresión de 1939? Era un pacto no que a URSS e a Alemaña nazi acordaban non atacarse. Incluía un protocolo secreto.

Quen o firma? Quen son os líderes de Alemaña e a URSS nese momento?

- Por Alemaña firma Ribbentrop e pola URSS Molotov.
- Os líderes son Stalin e Hitler.

b. Que relación ten este pacto con Polonia? Que outros territorios se ven afectados?

No protocolo secreto ambos países se reparten Polonia.

Ademais, a URSS obtiña Finlandia e os Estados bálticos (parte de imperio ruso ata a 1ª GM).

c. Como o xustifica Alemaña?

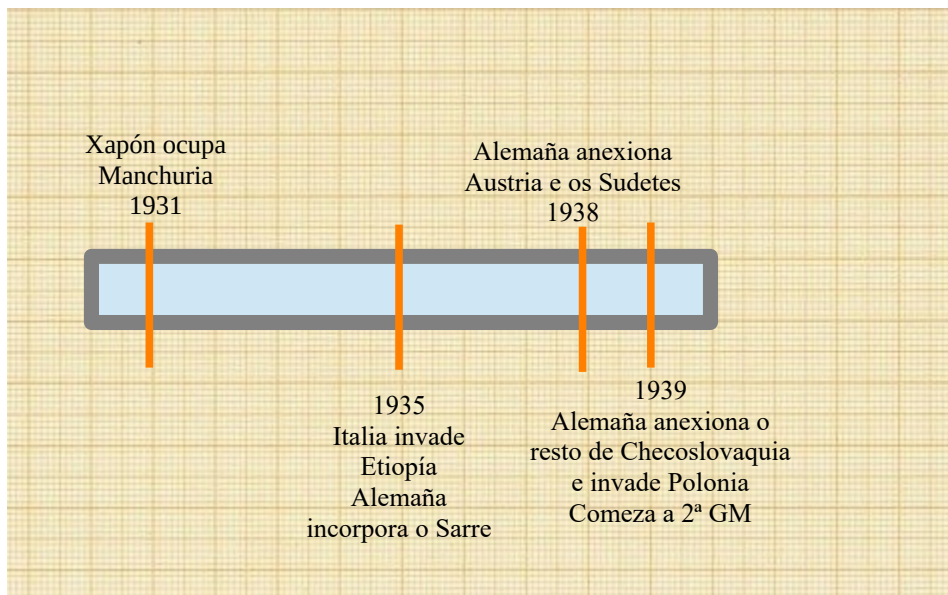
E a URSS?

Hitler quería evitar unha guerra en dúas fronteas, asegurándose a neutralidade da URSS.

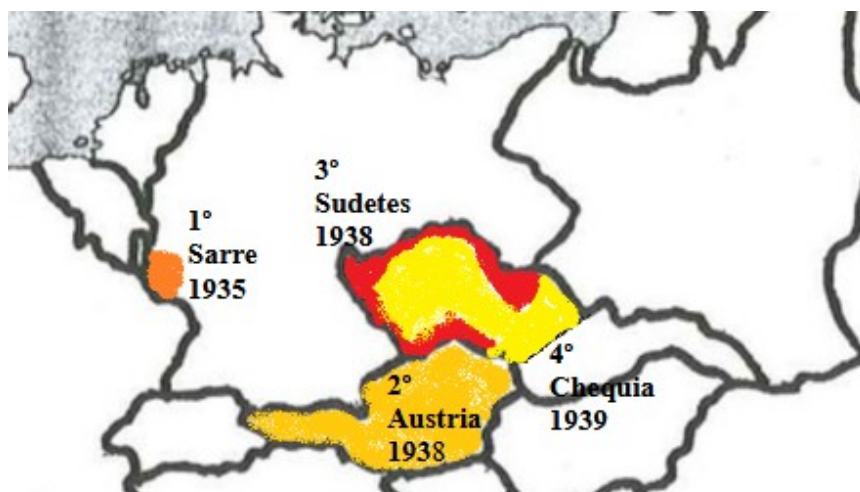
Stalin xustificou o acordo pola hostilidade das potencias occidentais cara á URSS e para evitar unha agresión alemá (durante moito tempo insistiu ás potencias occidentais que era necesario un pacto contra a Alemaña nazi).

4. a. Fai unha liña do tempo cos datos seguintes. Causas e detonantes

1931	Alemaña anexiona Austria (Anschluss)
1935	Alemaña invade Polonia-Comeza a 2ª GM.
1935	Alemania anexiona os Sudetes (Chec.)
1938	Italia invade Etiopía
1938	Xapón ocupa Manchuria
1939	Alemaña anexiona o resto de Checoslovaquia
1939	Alemaña incorpora o Sarre



b. Indica na seguinte mapa mudo as sucesivas incorporacións de Alemaña antes da guerra. Pinta as zonas e indica o ano e a orden de incorporación de cada territorio.



5. Completa o cadro sobre as fases da IIª GM poñendo os conceptos en orde cronolóxica.

Unha vez feito cos conceptos do bloque a) complétaos cos do bloque b).

A guerra antes da guerra (1931-39), A ofensiva do eixo (1939-41), A vitoria aliada (1942-45).

a) A guerra lostrego, Frente do Pacífico, A invasión da URSS, A expansión fascista, Frente Leste, Ofensiva final aliada, Fracaso da política de contención, Detonante da guerra, A entrada dos EEUU, Frente Sur.

b) Batalla de Kursk, Ocupación de Berlín, Pacto de non agresión Ruso-alemán, ...

Fases	Subfases (a)	Fitos (b)
A guerra antes da guerra (1931-39)	A expansión fascista	- Xapón ocupou Manchuria - Italia invadiu Etiopía - Alemaña incorpora o Sarre - Eixe Berlín-Roma-Toquio
	Fracaso da política de contención	- Alemaña invade Austria-Sudetes-Chequia
	Detonante da guerra	- Pacto de non agresión Ruso-alemán - Alemaña invade Polonia
A ofensiva do eixo (1939-41)	A guerra lostrego	- A retirada de Dunkerque - Francia ocupada e dividida - Batalla de Inglaterra - Ofensiva N de África (África Korps)
	A invasión da URSS	- O inverno ruso
	A entrada dos EEUU	- Pearl Harbor
A vitoria aliada (1942-45)	Frente Leste	- Batalla de Stalingrado (URSS) - Batalla de Kursk (URSS)
	Frente Sur	- Batalla de El Alamein (N de África) - Invasión de Italia por el sur
	Frente do Pacífico	- Batalla de Midway (Pacífico) - Batalla de Guadalcanal-"Saltos de ra"(Pacífico)
	Ofensiva final aliada	- Desembarco de Normandía - Ocupación de Berlín - Bombas atómicas (Hiroshima e Nagasaki)

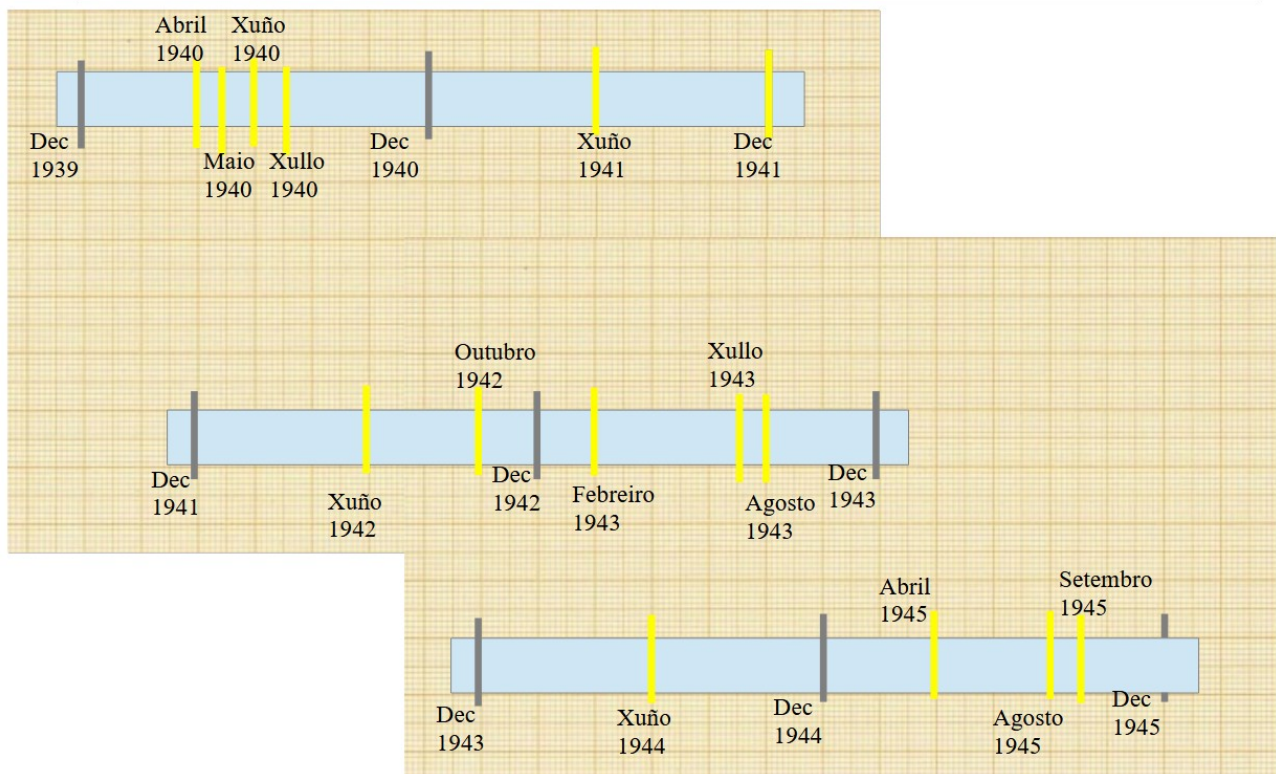
- Indica os dous bloques que se formaron na guerra e os seus principais protagonistas.

- O Eixe: Alemaña, Xapón e Italia

- Os aliados: Gran Bretaña, EEUU, URSS... e Francia

6. Ordena os feitos de cada bloque e fai as seguinte liñas do tempo.

abril de 1940	Alemaña ataca Dinamarca e Noruega
maio de 1940	Alemaña ataca os Países Baixos e Bélxica
xuño de 1940	Alemaña ocupa Francia - Vichy
xullo de 1940	Batalla de Inglaterra
xuño de 1941	Alemaña invade a URSS
decembro de 1941	Pearl Harbor – EEUU entra na guerra
xuño de 1942	Batalla de Midway
outubro de 1942	Batalla de El Alamein
febreiro de 1943	Batalla de Stalingrado
febreiro de 1943	batalla de Guadalcanal
xullo de 1943	invasión de Italia
agosto de 1943	Batalla de Kursk
xuño de 1944	desembarco de Normandía
abril de 1945	ocuparon Berlín
agosto de 1945	Hiroshima e Nagasaki
Setembro de 1945	Xapón asinou a rendición incondicional



7. a. Analiza o mapa e indica:



a. Que países forman parte do Eixe en Europa?

Alemaña e Italia

b. Que países son aliados ou teñen gobernos “fíteres”?

Finlandia, Francia de Vichy, Eslovaquia, Hungría, Romanía e Bulgaria.

c. Que países foron conquistados por Alemaña?

Noruega, Dinamarca, Países Baixos, Bélxica, Francia, Grecia, Iugoslavia, Polonia e parte occidental da URSS (Ucráina, Bielorrusia, países Bálticos).

d. Que países son aliados contra o Eixe?

Só o Reino Unido e a URSS.