

1. Contesta.

a. Describe a política exterior de Xapón, Italia e Alemaña en 2 palabras.

b. Cales foron as tres premisas principais do programa político de Hitler dende 1933?

c. Que é o eixe Berlín-Roma?

E o pacto Antikomintern?

2. Contesta as cuestións seguintes.

a. En que consistiu a política de contención?

Quen participou na Conferencia de Múnic? Que se decidiu nesa conferencia?

b. Cal é o detonante da guerra?

Por que neste caso as potencias da Europa occidental si reaccionan?

3. Lee o texto e contesta.

TEXTOS HISTÓRICOS FUNDAMENTAIS

Protocolo secreto do pacto xermano-soviético

1. No caso dun reacondicionamento territorial e político nas áreas pertencentes aos Estados bálticos (Finlandia, Estonia, Letonia e Lituania), a fronteira norte de Lituania representará os límites da esfera de influencia de Alemaña e da URSS. [...]
2. No caso dun reacondicionamento territorial e político nas áreas pertencentes ao Estado polaco, as esferas de influencia de Alemaña e da URSS serán limitadas pola liña dos ríos Narew, Vístula e San. [...]
3. En relación co sueste europeo, a parte soviética chama a atención sobre o seu interese en Besarabia. A parte alemá declara o seu completo desinterese político nesas áreas.
4. Este protocolo deberá ser tratado por ambas as partes en estrito segredo.

Moscova, 23 de agosto de 1939. Polo Goberno do Reich alemán, J. von RIBBENTROP Plenipotenciario do Goberno da URSS, V. MOLOTOV



3. Caricatura do pacto xermano-soviético.

a. Que é o Pacto de non agresión de 1939?

Quen o firma? Quen son os líderes de Alemaña e a URSS nese momento?

b. Que relación ten este pacto con Polonia?


Que outros territorios se ven afectados?

c. Como o xustifica Alemaña?

E a URSS?

4. a. Fai unha liña do tempo cos datos seguintes. Causas e detonantes

1931	Alemaña anexiona Austria (Anschluss)
1935	Alemaña invade Polonia-Comeza a 2ª GM.
1935	Alemania anexiona os Sudetes (Chec.)
1938	Italia invade Etiopía
1938	Xapón ocupa Manchuria
1939	Alemaña anexiona o resto de Checoslovaquia
1939	Alemaña incorpora o Sarre



b. Indica na seguinte mapa mudo as sucesivas incorporacións de Alemaña antes da guerra. Pinta as zonas e indica o ano e a orden de incorporación de cada territorio.



5. Completa o cadro sobre as fases da IIª GM poñendo os conceptos en orde cronolóxica.

Unha vez feito cos conceptos do bloque a) complétaos cos do bloque b).

A guerra antes da guerra (1931-39), A ofensiva do eixo (1939-41), A vitoria aliada (1942-45).

a) A guerra lostrego, Frente do Pacífico, A invasión da URSS, A expansión fascista, Frente Leste, Ofensiva final aliada, Fracaso da política de contención, Detonante da guerra, A entrada dos EEUU, Frente Sur.


b) Batalla de Kursk, Ocupación de Berlín, Pacto de non agresión Ruso-alemán, A retirada de Dunkerque, Alemaña incorpora o Sarre, Ofensiva N de África (África Korps), Batalla de Inglaterra, Italia invadiu Etiopía, Batalla de El Alamein, Bombas atómicas (Hiroshima e Nagasaki), Batalla de Midway, Xapón ocupou Manchuria, Eixe Berlín-Roma-Toquio, Alemaña invade Austria-Sudetes-Chequia, Pearl Harbor, Batalla de Guadalcanal-”Saltos de ra”, Alemaña invade Polonia, Francia ocupada e dividida, Desembarco de Normandía, Invasión de Italia por el sur, Batalla de Stalingrado, o inverno Ruso.

Fases	Subfases (a)	Fitos (b)
A guerra antes da guerra (1931-39)		
A ofensiva do eixo (1939-41)		
A vitoria aliada (1942-45)		

- Indica os dous bloques que se formaron na guerra e os seus principais protagonistas.

6. Ordena os feitos de cada bloque e fai as seguinte liñas do tempo.

abril de 1940	Alemaña invade a URSS
maio de 1940	Alemaña ataca os Países Baixos e Bélxica
xuño de 1940	Alemaña ataca Dinamarca e Noruega
xullo de 1940	Batalla de Inglaterra
xuño de 1941	Pearl Harbor – EEUU entra na guerra
decembro de 1941	Alemaña ocupa Francia - Vichy
xuño de 1942	Batalla de Guadalcanal
outubro de 1942	Batalla de Midway
febreiro de 1943	Batalla de El Alamein
agosto de 1943	Invasión de Italia
xullo de 1943	Batalla de Kursk
febreiro de 1943	Batalla de Stalingrado
xuño de 1944	Hiroshima e Nagasaki
abril de 1945	Desembarco de Normandía
agosto de 1945	Xapón asinou a rendición incondicional
Setembro de 1945	Os aliados ocupan Berlín



7. a. Analiza o mapa e indica:



6. EUROPA EN 1942

- Que países forman parte do Eixe en Europa?
- Que países son aliados ou teñen gobernos “títeres”?
- Que países foron conquistados por Alemaña?
- Que países son aliados contra o Eixe?

8. Lee o texto e contesta

- Cales foron as dúas conferencias de paz mais importantes da IIª GM?

Quen foron os protagonistas?

TEXTOS HISTÓRICOS FUNDAMENTAIS

Conferencia de Ialta

O Reino Unido, os Estados Unidos de América e a Unión de Repúblicas Socialistas Soviéticas terán suprema autoridade con respecto a Alemaña. No exercicio de tal autoridade, tomarán as medidas –incluíndo o total desarmamento, a desmilitarización e o desmembramento de Alemaña– que estimen necesarias para a futura paz e seguridade. [...]

Protocolo do 11 de febreiro de 1945



20. Churchill, Roosevelt e Stalin en Ialta.

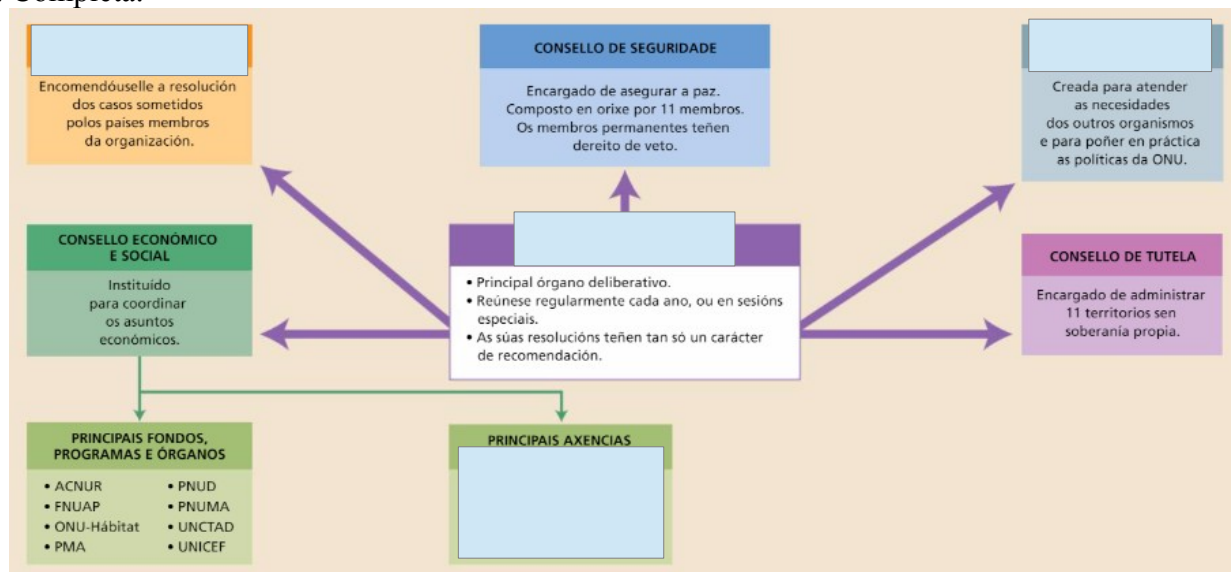
- Que líderes asistiron a esta conferencia?
- Que medidas se citan no texto?

- Que decisións se adoptaron en cada unha delas?

9. Contesta e completa

a. Que é a ONU? Cando se creou?

b. Completa.



10. Contesta e completa.

a. Explica o que foi o Holocausto. A que colectivos afectou?

b. Completa.

- As primeiras medidas contra os _____ adoptáronse en 1933 e consistiron en eliminalos da vida pública e minguar a súa capacidade económica.

O Reich promulgou en 1935 as _____, que excluiron os xudeus da cidadanía alemá e prohibiron os _____ entre cidadáns alemáns e xudeus.

En 1938 comezaron as campañas de " _____ ", que tiñan como obxectivo apropiarse dos seus negocios e das propiedades. Moitos víronse obrigados a vender os seus bens.

- A noite do 9 ao 10 de novembro dese mesmo ano produciuse en Alemaña e Austria a " _____ ", os nazis saquearon sinagogas, vivendas e establecementos xudeus.

En setembro de 1939, a invasión de _____, país que contaba cuns tres millóns de xudeus, marcou unha nova escalada na violencia antisemita. As autoridades nazis promoveron unha nova forma de reclusión e crearon os _____, que eran os barrios das cidades onde se obrigaba a concentrarse á poboación xudía, someténdoa a unhas condicións extremas de pobreza e desabastecemento.

No verán de 1941, coa invasión alemá da _____, onde vivían millóns de xudeus, entrouse na fase máis brutal do _____.

Adoptouse a chamada _____, que provocou a eliminación masiva e planificada dos xudeus en _____ e a súa desaparición nos _____ dos campos de exterminio.

c. Indica un par de campos de exterminio.

11. Contesta

a) Enumera e explica brevemente as 4 principais consecuencias da IIª GM?

b. Observa o mapa dos cambios territoriais dos apuntes e sinala:

- Os territorios ocupados pola URSS:

- Territorios que pasan de Alemaña a Polonia:

- Que sucede en Alemana?

c. Enlaza estes cambios territoriais cas consecuencias demográficas.

12. Contesta.

a) Que foron os xuízos de Nuremberg?

b) Que foi o colaboracionismo?

Que razóns había para colaborar?

Pon un par de exemplos.

c) Que foi a resistencia?

Pon 2 exemplos.

Cal foi a “cidade da liberdade” para a resistencia?