
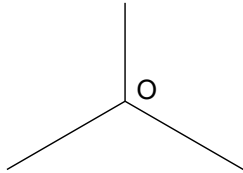
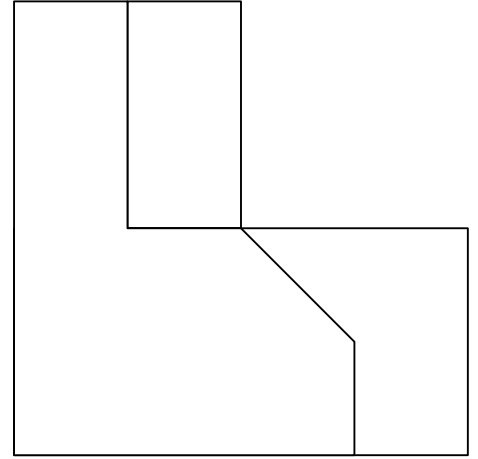
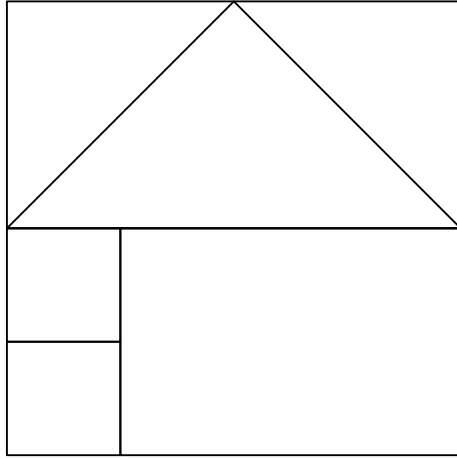


A3.- SISTEMA AXONOMÉTRICO

Cualificación: 3,50 puntos

Dadas las proyecciones diédricas de la figura, dibuja una isometría sin coeficientes de reducción a escala E 1/1.

Dadas as proxeccións diédricas da figura, debuxa unha isometría sen coeficientes de redución a escala E 1/1.

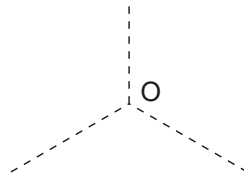
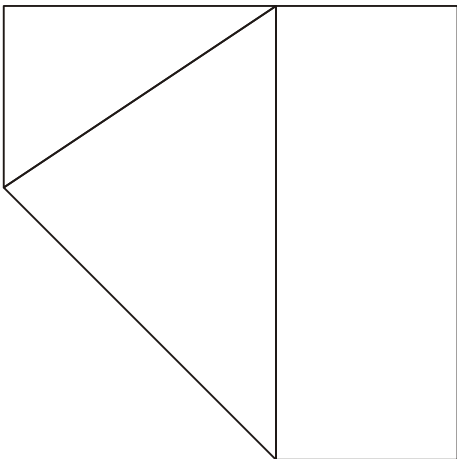
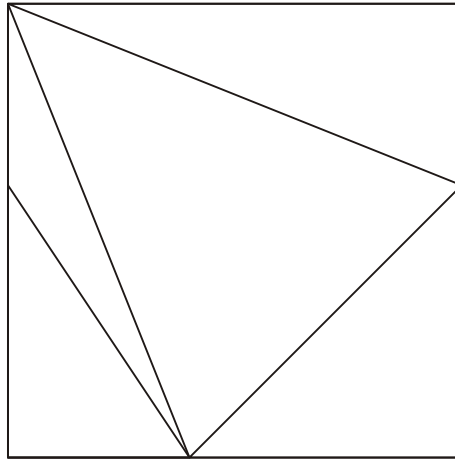
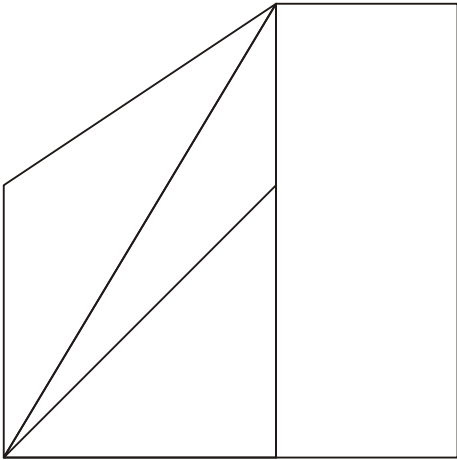


A3.- SISTEMA AXONOMÉTRICO

Cualificación: 3,50 puntos

Dadas las proyecciones diédricas de la figura, dibuja una isometría sin coeficientes de reducción a escala E 1/1.

Dadas as proxeccións diédricas da figura, debuxa unha isometría sen coeficientes de reducción a escala E 1/1.



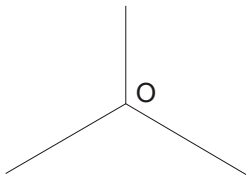
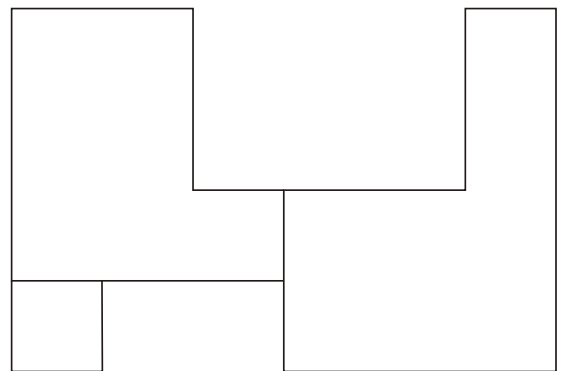
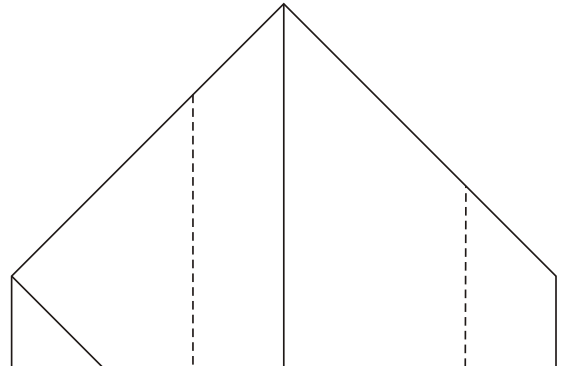
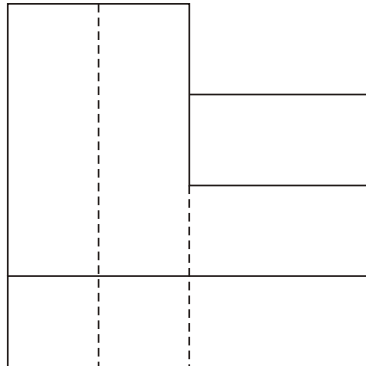
SETEMBRO 2018

A3.- SISTEMA AXONOMÉTRICO

Calificación: 3,50 puntos

Dadas las proyecciones diédricas de la figura, dibuja una isometría sin coeficientes de reducción a escala E 1/1.

Dadas as proxeccións diédricas da figura, debuxa unha isometría sen coeficientes de redución a escala E 1/1.

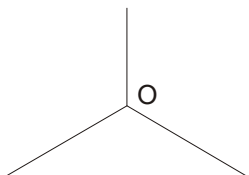
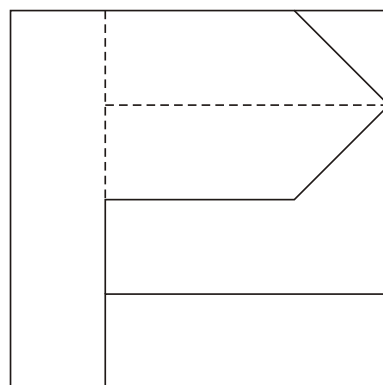
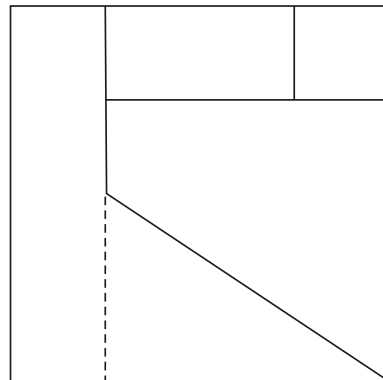
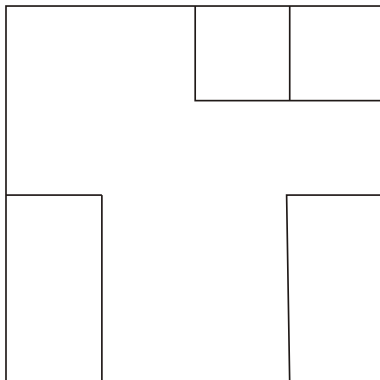


B3.- SISTEMA AXONOMÉTRICO

Calificación: 3,5 puntos

Dadas las proyecciones diédricas de la figura, dibuja una isometría sin coeficientes de reducción a escala E 1/1.

Dadas as proxeccións diédricas da figura, debuxa unha isometría sen coeficientes de reducción a escala E 1/1.



PREGUNTA 5. Resuelva este ejercicio de S. DIÉDRICO/S. AXONOMÉTRICO

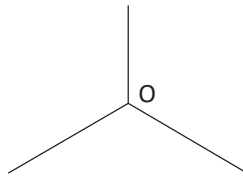
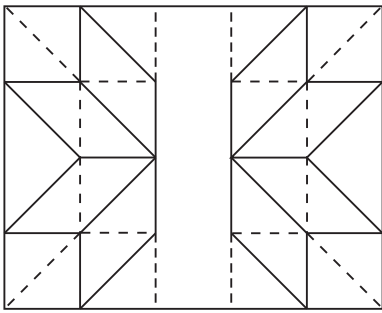
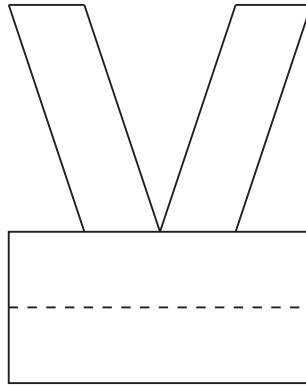
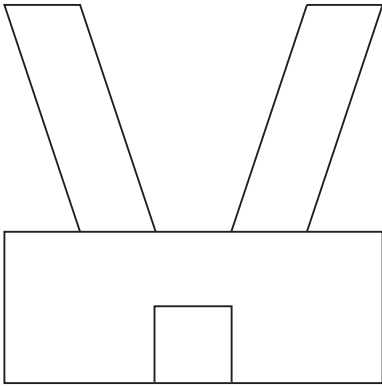
(3 puntos)

Dadas as proxeccións diédricas da figura, debuxe unha isometría sen coeficientes de redución a escala E 1/1

PREGUNTA 5. Resuelva este ejercicio de S. DIÉDRICO/S. AXONOMÉTRICO

(3 puntos)

Dadas las proyecciones diédricas de la figura, dibuje una isometría sin coeficientes de reducción a escala E 1/1.

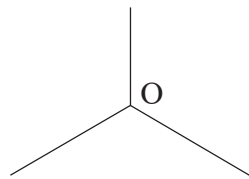
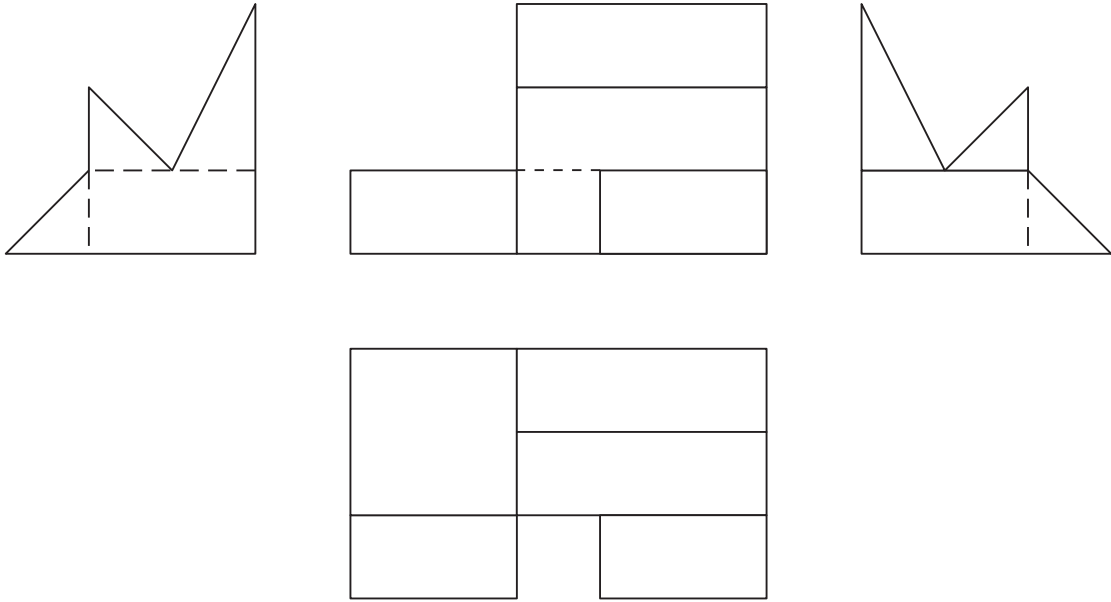


PREGUNTA 5. Resuelva este ejercicio de **S. DIÉDRICO/ S. AXONOMÉTRICO** (3 puntos)

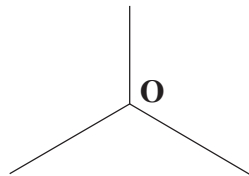

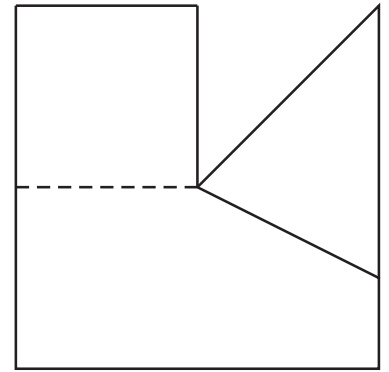
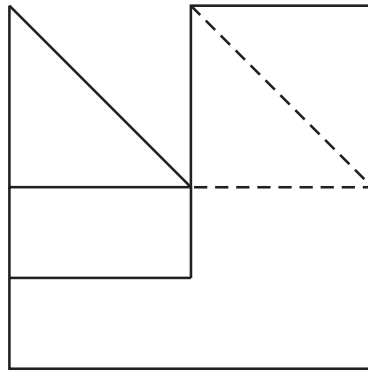
Dadas as proxeccións diédricas da figura, debuxa unha isometría sen coeficientes de redución a escala E 1/1

PREGUNTA 5. Resuelva **este** ejercicio de **S. DIÉDRICO/ S. AXONOMÉTRICO** (3 puntos)

Dadas las proyecciones diédricas de la figura, dibuja una isometría sin coeficientes de reducción a escala E 1/1.



PREGUNTA 5. Resuelva este ejercicio de **S. DIÉDRICO/ S. AXONOMÉTRICO. (3,00 puntos)**
Dadas as proxeccións diédricas da figura, debuxe unha isometría sen coeficientes de redución a escala E 1/1
PREGUNTA 5. Resuelva este ejercicio de **S. DIÉDRICO/ S. AXONOMÉTRICO. (3,00 puntos)**
Dadas las proyecciones diédricas de la figura, dibuje una isometría sin coeficientes de reducción a escala E 1/1.



PREGUNTA 5. Resuelva este ejercicio de **S. DIÉDRICO/ S. AXONOMÉTRICO. (3,00 puntos)**
 Dadas as proxeccións diédricas da figura, debuxa unha isometría sen coeficientes de redución a escala E 1/1

PREGUNTA 5. Resuelva este ejercicio de **S. DIÉDRICO/ S. AXONOMÉTRICO. (3,00 puntos)**
 Dadas las proyecciones diédricas de la figura, dibuja una isometría sin coeficientes de reducción a escala E 1/1.

