

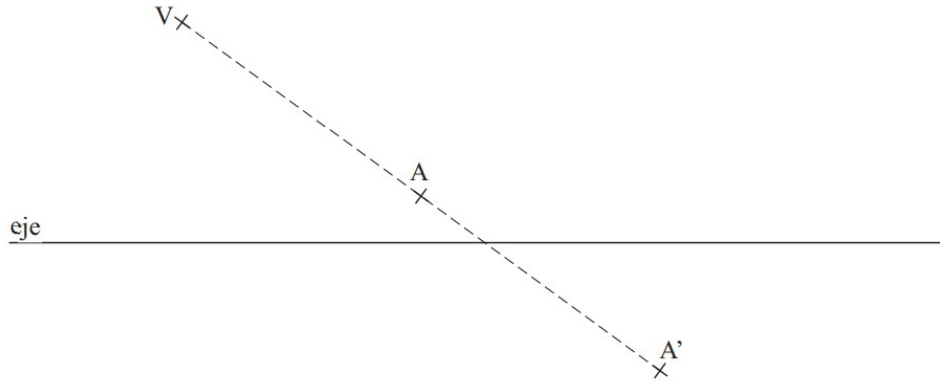
DEBUXO TÉCNICO

PREGUNTA 1. Resuelva este ejercicio de **GEOMETRÍA PLANA**. (3,00 puntos)

Debuxe as rectas límite da homoloxía dada polo eixo, o vértice V e un par de puntos homólogos A e A' .

PREGUNTA 1. Resuelva este ejercicio de **GEOMETRÍA PLANA**. (3,00 puntos)

Dibuje las rectas límite de la homología dada por el eje, el vértice V y un par de puntos homólogos A y A' .



PREGUNTA 2. Resuelva este ejercicio de **GEOMETRÍA PLANA**

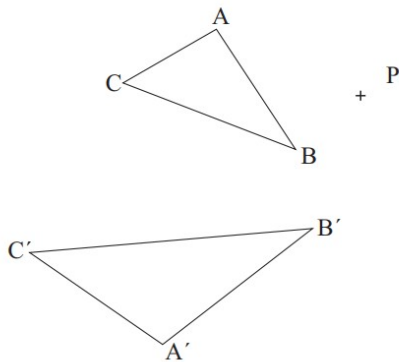
Debuxe o homólogo do punto P , coñecendo as figuras homólogas ABC y $A'B'C'$.

(3 puntos)

PREGUNTA 2. Resuelva este ejercicio de **GEOMETRÍA PLANA**

Dibuje el homólogo del punto P , conociendo las figuras homólogas ABC y $A'B'C'$.

(3 puntos)



PREGUNTA 2. Resuelva este ejercicio de GEOMETRÍA PLANA. (3,00 puntos)

Debuxe o homólogo do punto P, coñecidas as dúas rectas límites RL e RL' e o vértice V

PREGUNTA 2. Resuelva este ejercicio de GEOMETRÍA PLANA. (3,00 puntos)

Dibuja el homólogo del punto P, conocidas las dos rectas límites RL y RL' y el vértice V.

+ V

RL



RL'



+ P

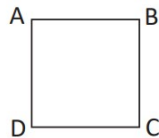
PREGUNTA 2 Resuelva este ejercicio de GEOMETRÍA PLANA (3 PUNTOS)

Debuxe a figura homóloga do cadrado ABCD, coñecendo o eixe e, o centro O, e un par de puntos homólogos, A A'.

PREGUNTA 2 Resuelva este ejercicio de GEOMETRÍA PLANA (3 PUNTOS)

Dibuje la figura homóloga del cuadrado ABCD, conociendo el eje e, el centro O, y un par de puntos homólogos, A A'.

+O



e



A' +

PREGUNTA 2 Resuelva este ejercicio de **GEOMETRÍA PLANA (3 PUNTOS)**

Debuxe a homóloga da figura, coñecendo o centro de homoloxía **O**, a recta límite **RL** e o eixe **e**.

PREGUNTA 2 Resuelva este ejercicio de **GEOMETRÍA PLANA (3 PUNTOS)**

Dibuje la homóloga de la figura, conociendo el centro de homología **O**, la recta límite **RL** y el eje **e**.

