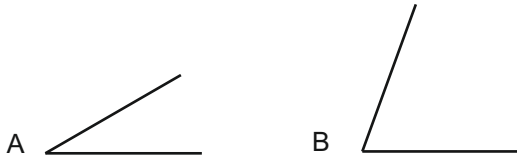
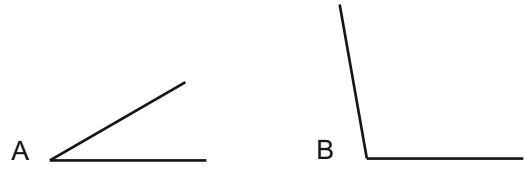


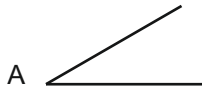
Sumar los ángulos A y B.



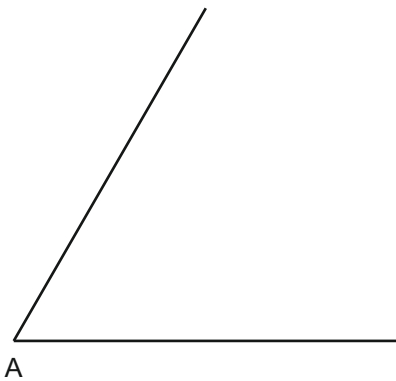
Restar el ángulo A del ángulo B.




Multiplicar el ángulo A por cuatro.



Dividir el ángulo A en dos partes iguales (bisectriz).



Dividir el ángulo recto B en tres partes iguales.



OPERACIONES CON ÁNGULOS

Grupo:

Nota:

Nombre y apellidos:

Fecha: