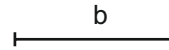
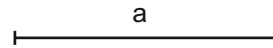
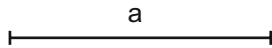



Sumar los segmentos a y b sobre una línea horizontal.



Restar el segmento b del segmento a sobre una línea horizontal.




Multiplicar el segmento a por cuatro sobre una línea horizontal.



Dividir el segmento AB en dos partes iguales mediante su mediatriz.

Dividir el segmento AB en cinco partes iguales utilizando el teorema de Tales.



OPERACIONES CON SEGMENTOS

Grupo:

Nota:

Nombre y apellidos:

Fecha: