

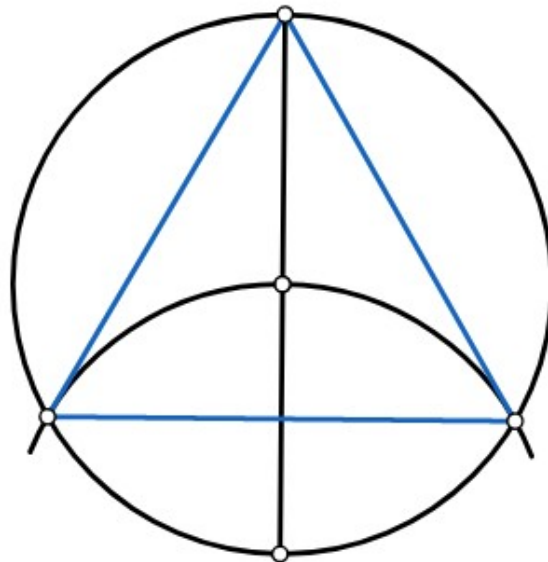
DIVISIÓN DE LA CIRCUNFERENCIA

A continuación, tenéis unas imágenes de cómo se divide una circunferencia en 3, 4, 6 y 8 partes iguales.

Debajo de cada imagen tenéis un enlace que os llevará a una página www.mongge.com dónde os he puesto paso a paso cómo se hacen los ejercicios, aunque los iremos viendo en clase.

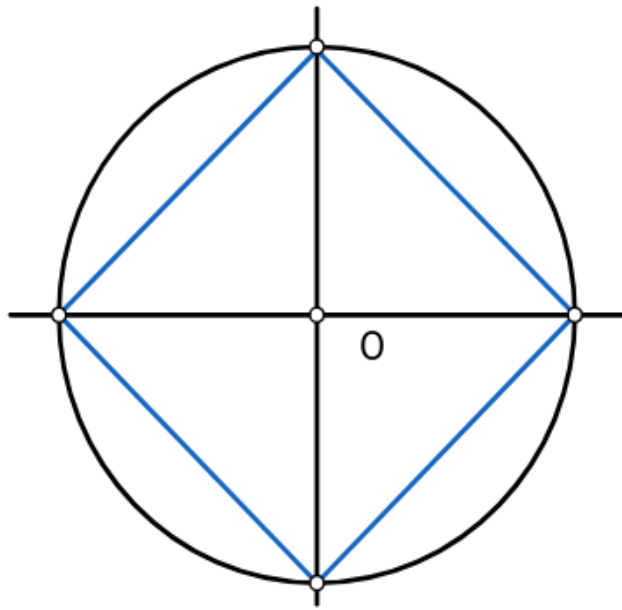
En esta página también podéis practicar vosotros mismos, teneis miles de ejercicios para el que tenga curiosidad.

DIVISIÓN DE LA CIRCUNFERENCIA EN TRES PARTES IGUALES



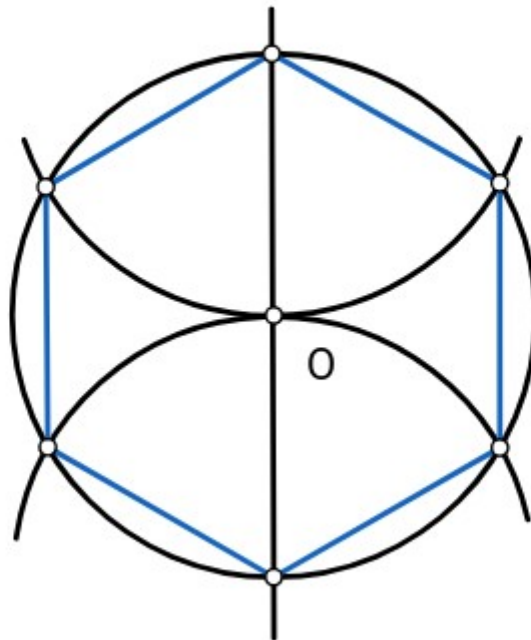
<https://www.mongge.com/ejercicios/50716>

DIVISIÓN DE UNA CIRCUNFERENCIA EN 4 PARTES IGUALES



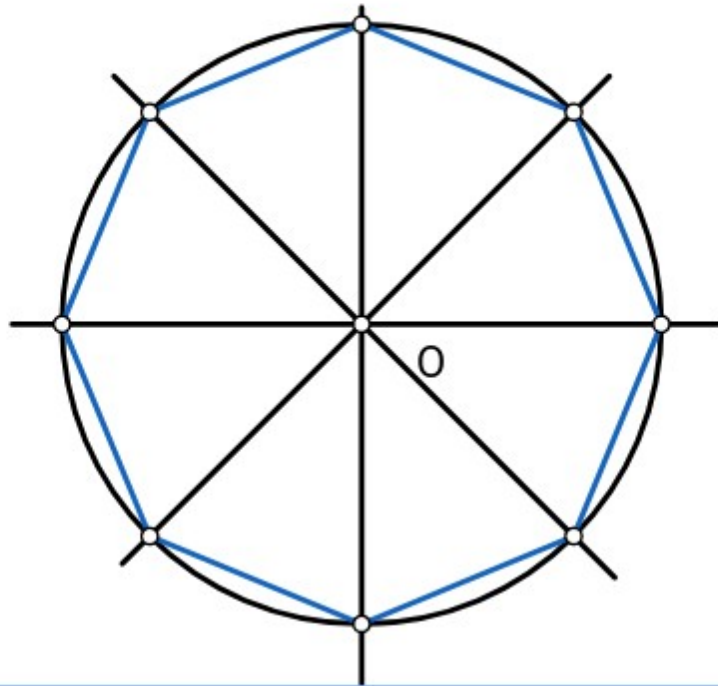
<https://www.mongge.com/ejercicios/50719>

DIVISIÓN DE UNA CIRCUNFERENCIA EN 6 PARTES IGUALES



<https://www.mongge.com/ejercicios/50721>

DIVISIÓN DE UNA CIRCUNFERENCIA EN 8 PARTES IGUALES



<https://www.mongge.com/ejercicios/50722>