

UNIDAD 13 : PROBABILIDAD Y ESTADÍSTICA



- 1 Piensa y responde.
- a) Escribe dos números que tengan de media 6.
  - b) Dos números tienen como media 8. Uno de ellos es 7. ¿Cuál es el otro número?

- 2 María en dos controles de matemáticas sacó de notas 8 y 6. Fran obtuvo 7 y 9. ¿Quién de los dos va a tener mejor nota media?



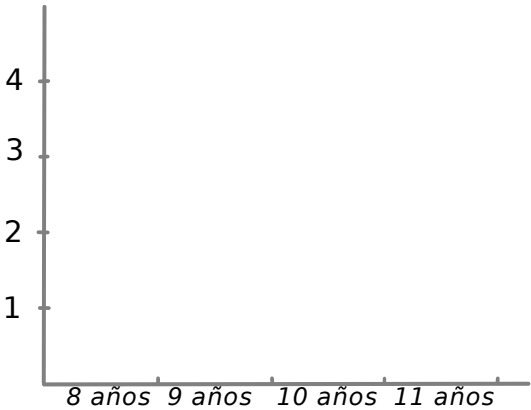
- 3 Agrupa los datos, completa la tabla y responde.
- Las edades de mis compañeros de balonmano son:

9, 10, 8, 11, 10, 9, 8, 10, 9, 9, 11 y 8

Edad				
Frecuencia				

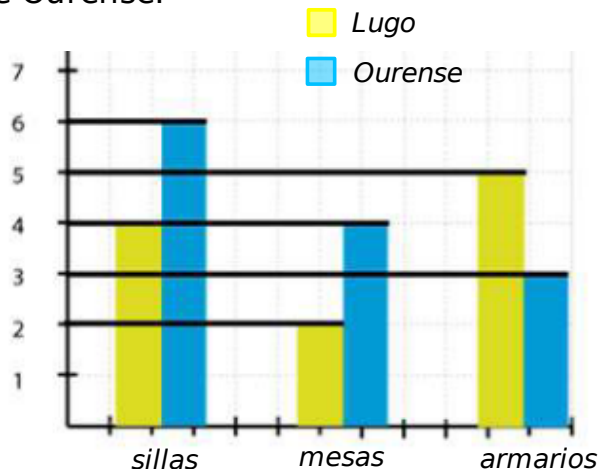
- a)¿Cuántos compañeros tienen 9 años?
- b)¿Cuántos compañeros tienen 10 años o más?
- c)¿De qué edad tengo más compañeros (moda)?

Traslada estos datos a un gráfico de barras.





- ④ El gráfico representa los muebles que fabrican en dos fábricas, una de Lugo y otra de Ourense.

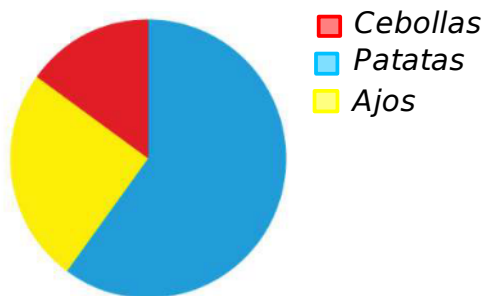


a) ¿En qué fábrica se hacen más muebles?

b) ¿Cuántas mesas se fabrican en total entre las dos fábricas?

c) ¿Cuántas sillas más se fabrican en Ourense que en Lugo?

- ⑤ Este gráfico representa la proporción de hortalizas plantadas en la huerta de mi abuelo.



a) ¿Cuál es la hortaliza más plantada?

a) ¿Cuál es la hortaliza menos plantada?

a) Si juntamos los ajos con las cebollas, ¿superan a las patatas plantadas?

- ⑥ Observa la tabla y completa el gráfico lineal.

DÍAS	Temp. °C
Lunes	9
Martes	6
Miércoles	3
Jueves	7

