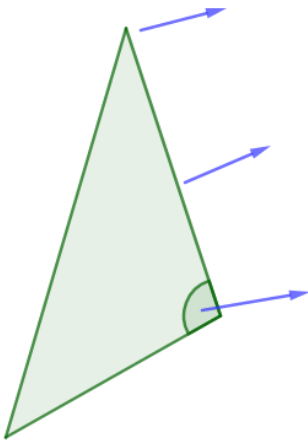


UNIDAD 11: FIGURAS PLANAS: POLÍGONOS Y CÍRCULOS

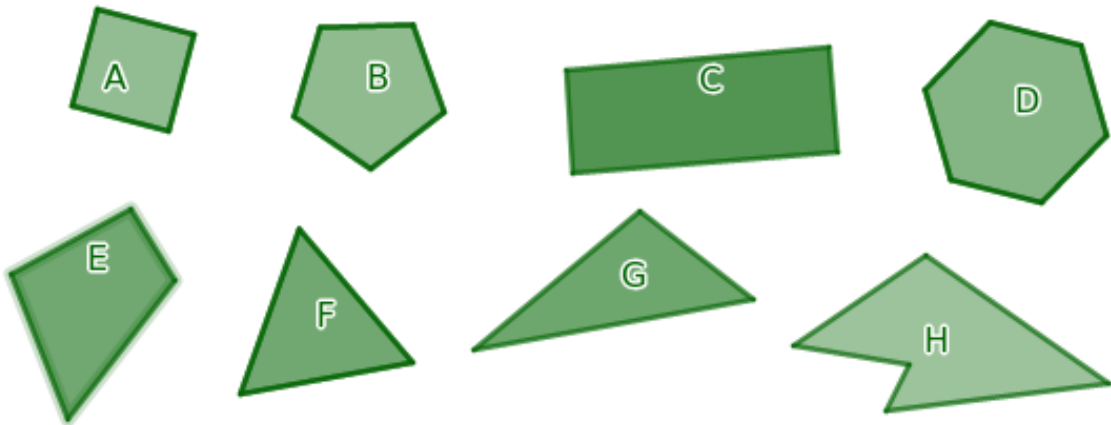


1 Nombra cuatro objetos de tu entorno que sean polígonos y di de qué tipo son según el número de lados:

2 Escribe los nombres de los elementos de un polígono.



3 Clasifica estos polígonos en regulares - irregulares.



Políg. regulares	Polígono A,
Políg. irregulares	

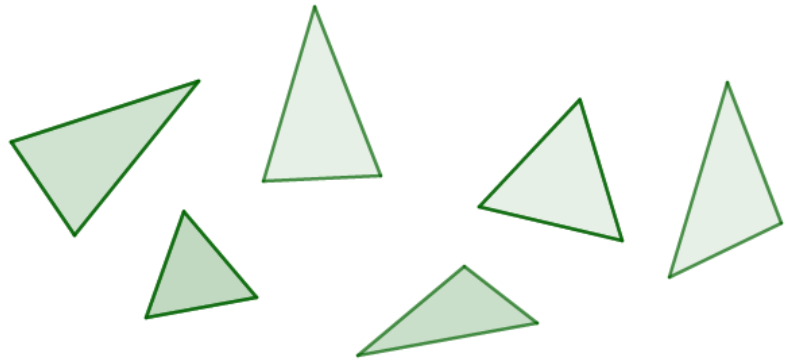


- ④ Colorea estos triángulos según el código:

azul: triáng. equilátero

verde: triáng. isósceles

naranja: triáng. escaleno



- ⑤ Dibuja un triángulo rectángulo, otro acutángulo y por último uno obtusángulo.

- ⑥ Completa:

Los triángulos son aquellos que sus tres lados miden igual.

En los triángulos isósceles lados miden lo mismo.

En los triángulos cada lado mide diferente.

- ⑦ Clasifica estos triángulos según sus lados y según sus ángulos.

