

UNIDAD 7 : TIEMPO Y DINERO



① Completa:

- 6 siglos = años
- 21 días = semanas
- 4 semestres = meses
- 200 años = siglos
- 3 lustros = años
- 24 meses = años
- 2 meses = días
- 50 años = décadas

② Indica una actividad que pueda durar:

Segundos :

Días :

Décadas :

Minutos :

Meses:

Lustros:

Siglos :

Horas :

③ Sara tiene que tomar unas pastillas para la tos. ¿Cuántas pastillas tomará al final del tratamiento?



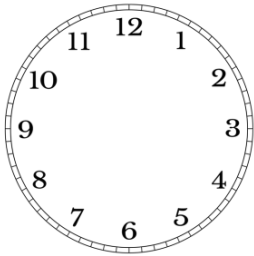
*1 pastilla cada 8 horas
durante 3 días*

④ Tengo 8 años y dentro de dos décadas tendré la mitad de edad de mi padre.
¿Cuántos años tiene mi padre ahora?

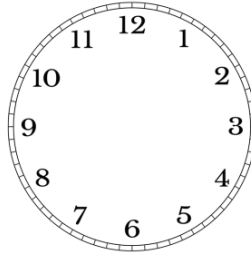
⑤ Diego compró un teléfono a plazos. Tiene que pagar 24 cuotas mensuales de 30 €. Si empieza a pagar este mes, ¿Cuándo acabará de pagarlo?



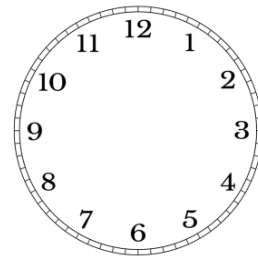
6 Completa los relojes con las horas que se indican:



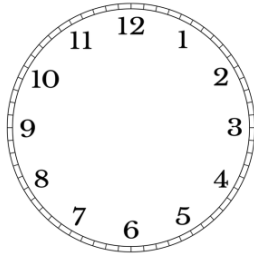
Las cinco y veinte



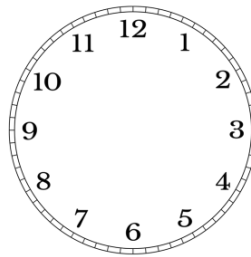
Las ocho menos cuarto



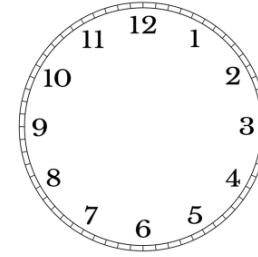
Las once y diez



Las cuatro menos veinticinco

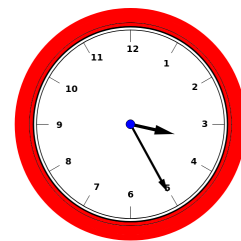


Las dos y media



Las siete y diez

7 Indica la hora que marcan estos relojes:



8 Sabela y Raquel habían quedado en el parque a las 5 menos cuarto. Raquel se retraso veinte minutos. ¿A qué hora llegó?