



¿Analógico o digital? Aprendiendo a leer el tiempo: Opción C

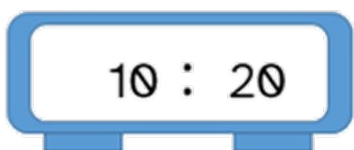
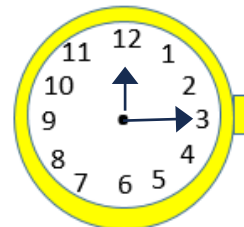
Expresa la hora correspondiente tanto en el reloj digital como en el reloj analógico.



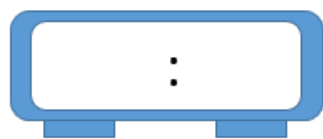
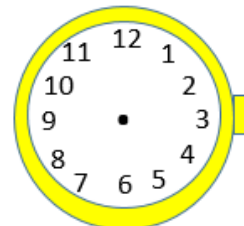
2 horas y 30 minutos después



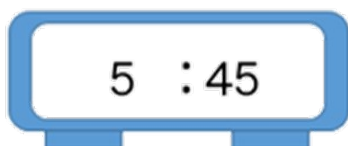
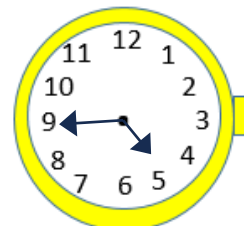
6 horas y 50 minutos antes



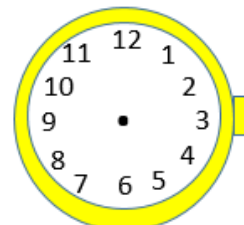
1 hora y 15 minutos después



3 horas y 20 minutos antes



5 horas y 40 minutos antes



“¿Analógico o digital? Aprendiendo a leer el tiempo: Opción C”, do proxecto cREAgal, publícase coa [Licenza Creative Commons Recoñecemento Non-comercial Compartir igual 4.0](https://creativecommons.org/licenses/by-nc-sa/4.0/)