
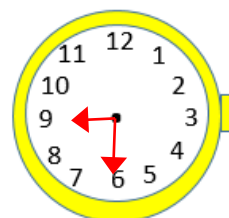


¿Analógico o digital? Aprendiendo a leer el tiempo: Opción B-Solución

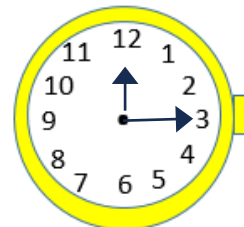
Expresa la hora correspondiente tanto en el reloj digital como en el reloj analógico.



30 minutos después



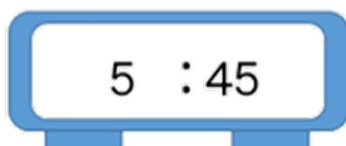
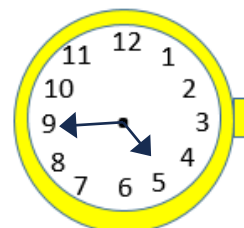
15 minutos antes



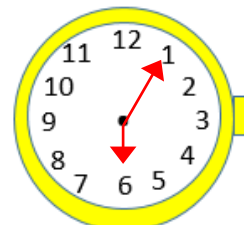
1 hora después



30 minutos antes



20 minutos después



“¿Analógico o digital? Aprendiendo a leer el tiempo: Opción B_Solución”, do proxecto cREAgal, publícase coa [Licenza Creative Commons Recoñecemento Non-comercial Compartir igual 4.0](https://creativecommons.org/licenses/by-nc-sa/4.0/)