



¿Analógico o digital? Aprendiendo a leer el tiempo: Opción B

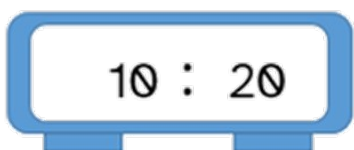
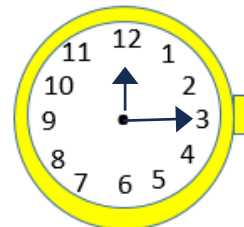

Expresa la hora correspondiente tanto en el reloj digital como en el reloj analógico.



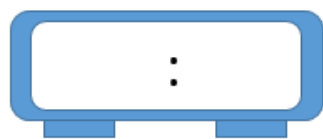
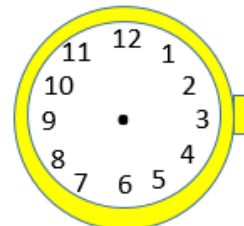
30 minutos después



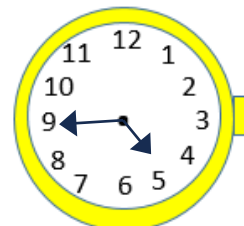
15 minutos antes



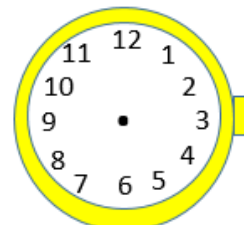
1 hora después



30 minutos antes



20 minutos después



“¿Analógico o digital? Aprendiendo a leer el tiempo: Opción B”, do proxecto cREAgal, publícase coa [Licenza Creative Commons Reconecemento Non-comercial Compartir igual 4.0](https://creativecommons.org/licenses/by-nc-sa/4.0/)