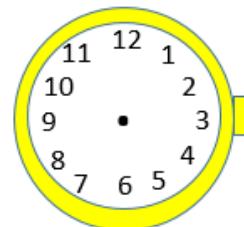
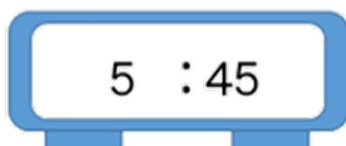
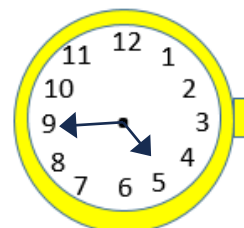
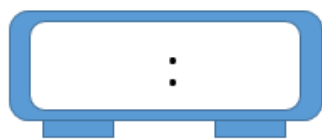

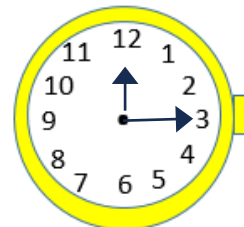




# ¿Analógico o digital? Aprendiendo a leer el tiempo: Opción A

Expresa la hora correspondiente tanto en el reloj digital como en el reloj analógico.



“¿Analógico o digital? Aprendiendo a leer el tiempo: Opción A”, do proxecto cREAgal, publícase coa [Licenza Creative Commons Recoñecemento Non-comercial Compartir igual 4.0](https://creativecommons.org/licenses/by-nc-sa/4.0/)