





Observa, analiza y contesta.

Observa y analiza el siguiente cuadro y las cantidades que en él aparecen. Realiza en tu cuaderno las actividades que se piden debajo de la tabla.

ANIMAL				
kilogramos (kg)	5	0,02	28	2
hectogramos (hg)	50	0,32	280	20
decagramos (dag)	500	2	2800	200
gramos (g)	5000	20	28.000	2000

- Inventa un problema en el que haya que realizar una suma.
- Inventa un problema en el que haya que realizar una resta y una multiplicación,
- En el cuadro hay un error. ¿Cuál es? ¿ Por qué ?
- Si comenzamos a convertir las unidades del perro desde los kilogramos, explica que hemos tenido que hacer y el porqué.
- Todos los animales pesan 36,02kg. Explica si es cierto o no esta afirmación. De ser incorrecta, explica que has hecho para demostrarlo y cuál sería el resultado final correcto.



“Observa, analiza y contesta”, do proxecto *cREAgal*, publícase coa [Licenza Creative Commons Recoñecemento Non-comercial Compartir igual 4.0](#)