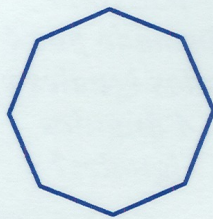



6 cm.



Octógono



Triángulo acutángulo

16

1

15

29

26

31

*¿Quién tiene
el número
que señala el
perímetro de
mi
pentágono?*



*¿Quién tiene el
polígono
formado por 4
lados iguales y
4 ángulos
iguales?*



*¿Quién tiene
un triángulo
obtusángulo?*



*¿Quién tiene
el siguiente
número par?*

16

1

*¿Quién tiene
un pentágono
regular?*

15

*¿Quién
tiene la
tercera parte
de mi
número más
3 unidades*

29

*¿Quién
tiene mi
número
menos el
cuádruple
de 7?*

26

*¿Quién tiene
mi número
más el triple
de 1?*

31

*¿Quién tiene mi
número menos
el número de
lados de un
pentágono?*

27

28

30

23

24

32

20

21

22

*¿Quién tiene
mi número
dividido
entre 9 y el
resultado
multiplicado
por 7?*

27

*¿Quién
tiene mi
número
menos el
doble de 3?*

28

*¿Quién tiene
un
cuadrilátero
cuyos lados
son iguales y
los ángulos
iguales dos a
dos?*

30

*¿Quién
tiene mi
número
menos la
tercera
parte de 9?*

23

*¿Quién tiene
una
circunferencia?*

24

*¿Quién tiene
mi número
disminuido
en 12
unidades y
aumentado
en 11?*

32

*¿Quién tiene
el polígono
formado por el
número de
lados que
indica la mitad
de mi número
menos 4?*

20

*¿Quién tiene
la tercera
parte de mi
número más
una docena?*

21

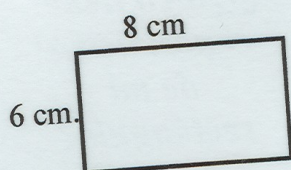
*¿Quién tiene
mi número
más la mitad
de 10?*

22

9

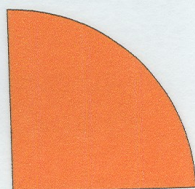

18

19

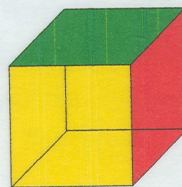


6

8



Ángulo recto



*¿Quién
tiene un
ángulo
agudo*

9

*¿Quién tiene
la mitad de
mi número?*

18

*¿Quién tiene 5
unidades más
que el
consecutivo
anterior?*

19

*¿Quién tiene
el perímetro
de mi
rectángulo?*



*¿Quién tiene
el cuádruplo
de mi
número?*

6

*¿Quién tiene
un polígono
regular de 8
lados?*

8

*¿Quién tiene
un polígono
formado por
tres ángulos
agudos?*




*¿Quién tiene
los minutos
de un cuarto
de hora?*




*¿Quién tiene
el número de
caras de mi
figura?*



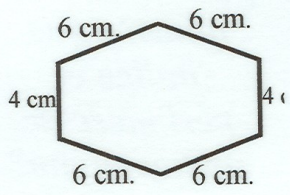
4 cm.




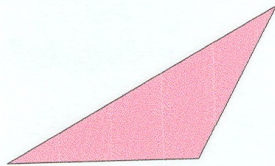
Cuadrado



Rombo



Hexágono



*¿Quién tiene
el número
del perímetro
de mi
cuadrado?*



*¿Quién tiene
un cubo?*



*¿Quién tiene el
número que
indica el
perímetro de
mi hexágono?*



*¿Quién tiene
un
rectángulo?*



*¿Quién tiene la
figura que
resulta al
dividir la
circunferencia
en 4 partes
iguales?*

