


**Averigua que columpio del parque tiene más visitas. Haz los problemas y el resultado te dirá cuantos se han subido.**

**En todo el mes se han subido veintitres mil cuatrocientas cincuenta y seis veces en éste tobogán.**

¿Cuántas veces son esa cantidad repartida en las semanas del mes?



**RESPUESTA:**

[illegible]

**Todos los columpios del parque costaron treinta y ocho mil seiscientos cuarenta y seis euros. Si se pagaron en tres plazos.**

**¿Cuánto se pago en cada plazo?**


**RESPUESTA:**

[illegible]

**En éste se han subido durante un mes cuarenta y ocho mil setecientos cuarenta y ocho veces. Si de esa cantidad de ve-**

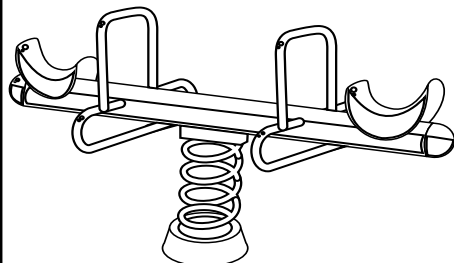
**¿Cuántas veces se han subido las mismas en los dos columpios. ¿Cuántas veces de esas han sido en cada uno de ellos?**

**RESPUESTA:**

[illegible]

**El fabricante de este modelo de balancín hizo ochenta mil quinientas sesenta y ocho unidades. Si las envió a nueve países distintos. ¿Cuántos envió a cada uno de esos países?**

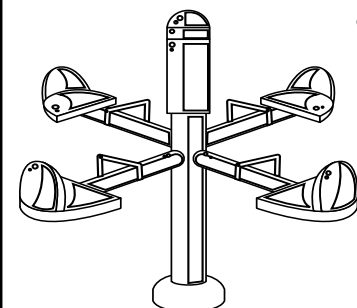
**RESPUESTA:**

[illegible]

**De éste otro modelo, fabricaron cincuenta mil seiscientas dieciseis unidades y las enviaron a ocho países distintos.**

**¿Cuántos enviaron a cada uno?**

**RESPUESTA:**

[illegible]