

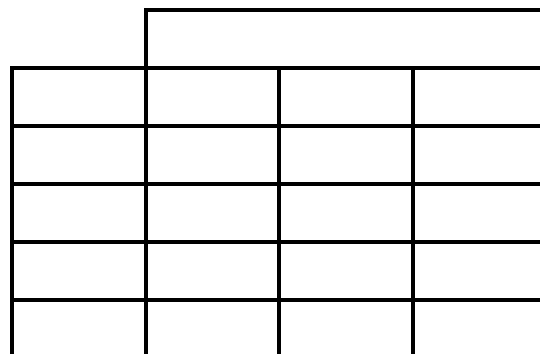
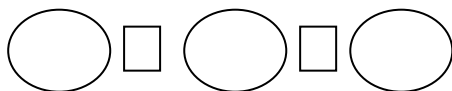


Nombre: _____

Fecha: _____

RESOLVEMOS UN PROBLEMA.

Antonio y sus amigos buscan pilas para reciclar. Antonio recogió 34 pilas, Carmen recogió 26, y Pedro, solo 9. ¿Cuántas pilas depositaron en el contenedor?

Datos.Operación.

Solución: _____.

ESCRIBIMOS LOS NÚMEROS.

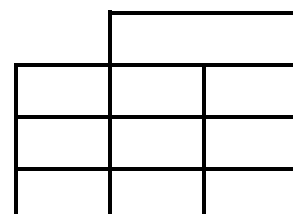
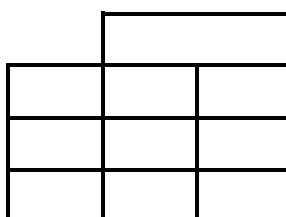
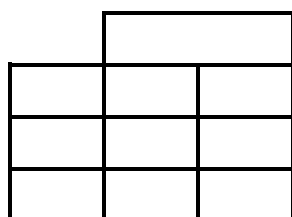
- 8 decenas y 16 unidades. 96
- 6 decenas y 29 unidades.
- 9 unidades.
- 1 decena y 4 unidades.
- 23 unidades
- 3 decenas y 35 unidades.
- 1 decena y 22 unidades.

COLOCA Y REALIZA.

$25 + 46$

$67 + 8$

$43 + 52$



actiludis.com

