





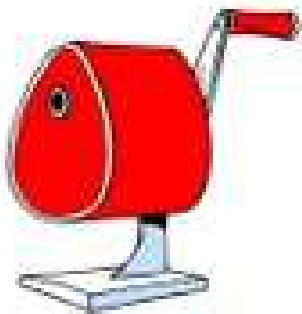

Dibuja el camino empezando por el 3 y acabando por el 300, contando de tres en tres.

189	192	213	216	219	294	297			
186	195	210	207	222	291	300			
183	198	201	204	225	288				
180	177	234	231	228	285	282	279	276	273
171	174	237	240	243	246	249	258	261	270
168	165	162	159	120	117	252	255	264	267
147	150	153	156	123	114	111	108	105	102
144	135	132	129	126	57	60	63	96	99
141	138		18	21	54	51	66	93	90
			15	24	27	48	69	72	87
			12	9	30	45	42	75	84
			3	6	33	36	39	78	81


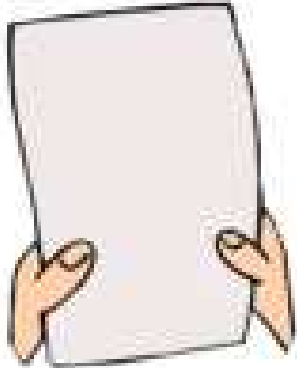
Dibuja el camino empezando por el 3 y acabando por el 300, contando de tres en tres.

21	18	9	6					195	198
24	15	12	3				189	192	201
27	30	57	60				186	183	204
36	33	54	63	66	159	162	177	180	207
39	48	51	72	69	156	165	174	213	210
42	45	78	75	150	153	168	171	216	219
99	96	81	84	147	246	243	240	237	222
102	93	90	87	144	249	252	255	234	225
105	108	135	138	141	300	297	258	231	228
114	111	132				294	261	270	273
117	126	129				291	264	267	276
120	123					288	285	282	279

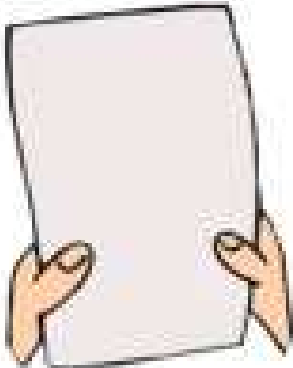

Dibuja el camino empezando por el 3 y acabando por el 300, contando de tres en tres.

			3	6	9	72	75	78	
			30	27	12	69	66	81	84
			33	24	15	60	63	90	87
147	144	141	36	21	18	57	54	93	96
150	153	138	39	42	45	48	51	102	99
159	156	135	132	129	126	123	120	105	108
162	165	168	267	270	273	276	117	114	111
189	186	171	264	261	258	279	288	291	294
192	183	174	249	252	255	282	285	300	297
195	180	177	246	243	234	231			
198	201	210	213	240	237	228			
	204	207	216	219	222	225			



Dibuja el camino empezando por el 3 y acabando por el 300, contando de tres en tres.

			3	6	9	12	27	30	
			102	99	96	15	24	33	36
			105	108	93	18	21	42	39
171	168	117	114	111	90	63	60	45	48
174	165	120	123	126	87	66	57	54	51
177	162	159	156	129	84	69	72	285	288
180	189	192	153	132	81	78	75	282	291
183	186	195	150	135	264	267	276	279	294
210	207	198	147	138	261	270	273	300	297
213	204	201	144	141	258	255			
216	219	228	231	240	243	252			
	222	225	234	237	246	249			



Dibuja el camino empezando por el 3 y acabando por el 300, contando de tres en tres.

189	192	213	216	219	294	297			
186	195	210	207	222	291	300			
183	198	201	204	225	288				
180	177	234	231	228	285	282	279	276	273
171	174	237	240	243	246	249	258	261	270
168	165	162	159	120	117	252	255	264	267
147	150	153	156	123	114	111	108	105	102
144	135	132	129	126	57	60	63	96	99
141	138		18	21	54	51	66	93	90
			15	24	27	48	69	72	87
			12	9	30	45	42	75	84
			3	6	33	36	39	78	81



Dibuja el camino empezando por el 3 y acabando por el 300, contando de tres en tres.

21	18	9	6					195	198
24	15	12	3				189	192	201
27	30	57	60				186	183	204
36	33	54	63	66	159	162	177	180	207
39	48	51	72	69	156	165	174	213	210
42	45	78	75	150	153	168	171	216	219
99	96	81	84	147	246	243	240	237	222
102	93	90	87	144	249	252	255	234	225
105	108	135	138	141	300	297	258	231	228
114	111	132				294	261	270	273
117	126	129				291	264	267	276
120	123					288	285	282	279



Dibuja el camino empezando por el 3 y acabando por el 300, contando de tres en tres.

			3	6	9	12	27	30	
			102	99	96	15	24	33	36
			105	108	93	18	21	42	39
171	168	117	114	111	90	63	60	45	48
174	165	120	123	126	87	66	57	54	51
177	162	159	156	129	84	69	72	285	288
180	189	192	153	132	81	78	75	282	291
183	186	195	150	135	264	267	276	279	294
210	207	198	147	138	261	270	273	300	297
213	204	201	144	141	258	255			
216	219	228	231	240	243	252			
	222	225	234	237	246	249			



Dibuja el camino empezando por el 3 y acabando por el 300, contando de tres en tres.

			9	12	15	246	249	252	
			6	21	18	243	240	255	258
			3	24	219	222	237	264	261
57	54	39	36	27	216	225	234	267	270
60	51	42	33	30	213	228	231	276	273
63	48	45	84	87	210	195	192	279	282
66	75	78	81	90	207	198	189	288	285
69	72	111	108	93	204	201	186	291	294
126	123	114	105	96	177	180	183	300	297
129	120	117	102	99	174	171			
132	135	144	147	156	159	168			
	138	141	150	153	162	165			

Dibuja el camino empezando por el 3 y acabando por el 300, contando de tres en tres.

			3	6	9	12	27	30	
			78	75	72	15	24	33	36
			81	84	69	18	21	42	39
153	150	99	96	87	66	63	60	45	48
156	147	102	93	90	117	120	57	54	51
159	144	105	108	111	114	123	282	285	288
162	141	138	135	132	129	126	279	276	291
165	168	171	246	249	258	261	270	273	294
186	183	174	243	252	255	264	267	300	297
189	180	177	240	237	228	225			
192	195	204	207	234	231	222			
	198	201	210	213	216	219			



Dibuja el camino empezando por el 3 y acabando por el 300, contando de tres en tres.

261	264	267	276	279	294	297			
258	255	270	273	282	291	300			
249	252	237	234	285	288				
246	243	240	231	228	225	222	219	210	207
165	168	171	180	183	186	189	216	213	204
162	159	174	177	126	123	192	195	198	201
153	156	135	132	129	120	117	108	105	102
150	141	138	27	30	33	114	111	96	99
147	144		24	39	36	51	54	93	90
			21	42	45	48	57	84	87
			18	15	12	63	60	81	78
			3	6	9	66	69	72	75



Dibuja el camino empezando por el 3 y acabando por el 300, contando de tres en tres.

36	33	24	21					132	135
39	30	27	18				126	129	138
42	45	48	15				123	120	141
63	60	51	12	3	108	111	114	117	144
66	57	54	9	6	105	174	171	150	147
69	90	93	96	99	102	177	168	153	156
72	87	84	261	258	255	180	165	162	159
75	78	81	264	249	252	183	186	195	198
282	279	270	267	246	243	240	189	192	201
285	276	273				237	234	231	204
288	297	300				222	225	228	207
291	294					219	216	213	210



Dibuja el camino empezando por el 3 y acabando por el 300, contando de tres en tres.

261	264	267	276	279	294	297						
258	255	270	273	282	291	300						
249	252	237	234	285	288							
246	243	240	231	228	225	222	219	210	207			
165	168	171	180	183	186	189	216	213	204			
162	159	174	177	126	123	192	195	198	201			
153	156	135	132	129	120	117	108	105	102			
150	141	138	27	30	33	114	111	96	99			
147	144		24	39	36	51	54	93	90			
			21	42	45	48	57	84	87			
			18	15	12	63	60	81	78			
			3	6	9	66	69	72	75			



Dibuja el camino empezando por el 3 y acabando por el 300, contando de tres en tres.

			3	6	9	12	27	30	
			78	75	72	15	24	33	36
			81	84	69	18	21	42	39
153	150	99	96	87	66	63	60	45	48
156	147	102	93	90	117	120	57	54	51
159	144	105	108	111	114	123	282	285	288
162	141	138	135	132	129	126	279	276	291
165	168	171	246	249	258	261	270	273	294
186	183	174	243	252	255	264	267	300	297
189	180	177	240	237	228	225			
192	195	204	207	234	231	222			
	198	201	210	213	216	219			



Dibuja el camino empezando por el 3 y acabando por el 300, contando de tres en tres.

36	33	24	21					132	135
39	30	27	18				126	129	138
42	45	48	15				123	120	141
63	60	51	12	3	108	111	114	117	144
66	57	54	9	6	105	174	171	150	147
69	90	93	96	99	102	177	168	153	156
72	87	84	261	258	255	180	165	162	159
75	78	81	264	249	252	183	186	195	198
282	279	270	267	246	243	240	189	192	201
285	276	273				237	234	231	204
288	297	300				222	225	228	207
291	294					219	216	213	210



Dibuja el camino empezando por el 3 y acabando por el 300, contando de tres en tres.

			3	6	9	12	27	30	
			102	99	96	15	24	33	36
			105	108	93	18	21	42	39
171	168	117	114	111	90	63	60	45	48
174	165	120	123	126	87	66	57	54	51
177	162	159	156	129	84	69	72	285	288
180	189	192	153	132	81	78	75	282	291
183	186	195	150	135	264	267	276	279	294
210	207	198	147	138	261	270	273	300	297
213	204	201	144	141	258	255			
216	219	228	231	240	243	252			
	222	225	234	237	246	249			



Dibuja el camino empezando por el 3 y acabando por el 300, contando de tres en tres.

264	267	276	279	288	291	300			
261	270	273	282	285	294	297			
258	249	246	243	240	237				
255	252	45	48	231	234	213	210	201	198
36	39	42	51	228	219	216	207	204	195
33	30	27	54	225	222	87	90	189	192
12	15	24	57	78	81	84	93	186	183
9	18	21	60	75	72	99	96	177	180
6	3		63	66	69	102	105	174	171
			120	117	114	111	108	165	168
			123	132	135	144	147	162	159
			126	129	138	141	150	153	156



Dibuja el camino empezando por el 3 y acabando por el 300, contando de tres en tres.

			9	12	15	246	249	252	
			6	21	18	243	240	255	258
			3	24	219	222	237	264	261
57	54	39	36	27	216	225	234	267	270
60	51	42	33	30	213	228	231	276	273
63	48	45	84	87	210	195	192	279	282
66	75	78	81	90	207	198	189	288	285
69	72	111	108	93	204	201	186	291	294
126	123	114	105	96	177	180	183	300	297
129	120	117	102	99	174	171			
132	135	144	147	156	159	168			
	138	141	150	153	162	165			



Dibuja el camino empezando por el 3 y acabando por el 300, contando de tres en tres.

249	252	255	258	291	294	297			
246	267	264	261	288	285	300			
243	270	273	276	279	282				
240	237	216	213	210	189	186	183	162	159
231	234	219	204	207	192	177	180	165	156
228	225	222	201	198	195	174	171	168	153
15	18	21	30	33	36	135	138	141	150
12	9	24	27	42	39	132	129	144	147
3	6		48	45	72	75	126	123	120
			51	66	69	78	99	102	117
			54	63	84	81	96	105	114
			57	60	87	90	93	108	111

Dibuja el camino empezando por el 3 y acabando por el 300, contando de tres en tres.

36	33	24	21					132	135
39	30	27	18				126	129	138
42	45	48	15				123	120	141
63	60	51	12	3	108	111	114	117	144
66	57	54	9	6	105	174	171	150	147
69	90	93	96	99	102	177	168	153	156
72	87	84	261	258	255	180	165	162	159
75	78	81	264	249	252	183	186	195	198
282	279	270	267	246	243	240	189	192	201
285	276	273				237	234	231	204
288	297	300				222	225	228	207
291	294					219	216	213	210

Dibuja el camino empezando por el 3 y acabando por el 300, contando de tres en tres.

192	189	180	177					24	27
195	186	183	174				18	21	30
198	201	168	171				15	12	33
207	204	165	162	159	156	3	6	9	36
210	213	216	219	222	153	48	45	42	39
255	252	231	228	225	150	51	66	69	72
258	249	234	237	144	147	54	63	78	75
261	246	243	240	141	138	57	60	81	84
264	267	294	297	300	135	132	129	126	87
273	270	291				117	120	123	90
276	285	288				114	105	102	93
279	282					111	108	99	96