







Dibuja el camino empezando por el 1 y acabando por el 100, contando de uno en uno.

			1	2	3	24	25	26	
			10	9	4	23	22	27	28
			11	8	5	20	21	30	29
49	48	47	12	7	6	19	18	31	32
50	51	46	13	14	15	16	17	34	33
53	52	45	44	43	42	41	40	35	36
54	55	56	89	90	91	92	39	38	37
63	62	57	88	87	86	93	96	97	98
64	61	58	83	84	85	94	95	100	99
65	60	59	82	81	78	77			
66	67	70	71	80	79	76			
	68	69	72	73	74	75			

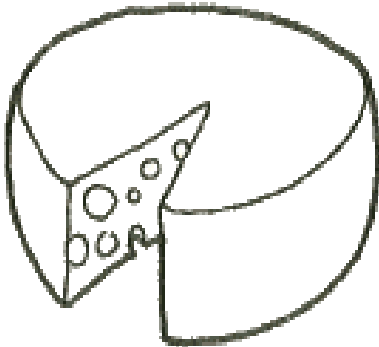

Dibuja el camino empezando por el 1 y acabando por el 100, contando de uno en uno.

60	59	58	57					8	9
61	62	63	56				6	7	10
70	69	64	55				5	4	11
71	68	65	54	51	50	1	2	3	12
72	67	66	53	52	49	16	15	14	13
73	74	75	78	79	48	17	18	21	22
86	85	76	77	80	47	46	19	20	23
87	84	83	82	81	44	45	26	25	24
88	89	98	99	100	43	42	27	28	29
91	90	97				41	40	31	30
92	95	96				38	39	32	33
93	94					37	36	35	34

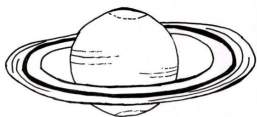
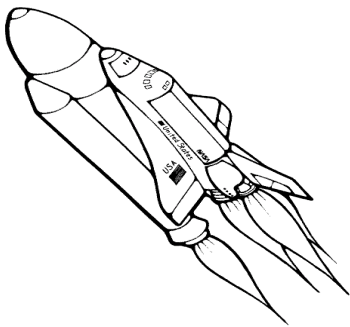
Dibuja el camino empezando por el 1 y acabando por el 100, contando de uno en uno.

			1	2	3	4	9	10	
			34	33	32	5	8	11	12
			35	36	31	6	7	14	13
57	56	39	38	37	30	21	20	15	16
58	55	40	41	42	29	22	19	18	17
59	54	53	52	43	28	23	24	95	96
60	63	64	51	44	27	26	25	94	97
61	62	65	50	45	88	89	92	93	98
70	69	66	49	46	87	90	91	100	99
71	68	67	48	47	86	85			
72	73	76	77	80	81	84			
	74	75	78	79	82	83			



Dibuja el camino empezando por el 1 y acabando por el 100, contando de uno en uno.

7	6	3	2					65	66	
8	5	4	1				63	64	67	
9	10	19	20				62	61	68	
12	11	18	21	22	53	54	59	60	69	
13	16	17	24	23	52	55	58	71	70	
14	15	26	25	50	51	56	57	72	73	
33	32	27	28	49	82	81	80	79	74	
34	31	30	29	48	83	84	85	78	75	
35	36	45	46	47	100	99	86	77	76	
38	37	44					98	87	90	91
39	42	43					97	88	89	92
40	41						96	95	94	93



Dibuja el camino empezando por el 1 y acabando por el 100, contando de uno en uno.

			1	2	3	4	9	10	
			26	25	24	5	8	11	12
			27	28	23	6	7	14	13
51	50	33	32	29	22	21	20	15	16
52	49	34	31	30	39	40	19	18	17
53	48	35	36	37	38	41	94	95	96
54	47	46	45	44	43	42	93	92	97
55	56	57	82	83	86	87	90	91	98
62	61	58	81	84	85	88	89	100	99
63	60	59	80	79	76	75			
64	65	68	69	78	77	74			
	66	67	70	71	72	73			



Dibuja el camino empezando por el 1 y acabando por el 100, contando de uno en uno.

63	64	71	72	73	98	99						
62	65	70	69	74	97	100						
61	66	67	68	75	96							
60	59	78	77	76	95	94	93	92	91			
57	58	79	80	81	82	83	86	87	90			
56	55	54	53	40	39	84	85	88	89			
49	50	51	52	41	38	37	36	35	34			
48	45	44	43	42	19	20	21	32	33			
47	46		6	7	18	17	22	31	30			
			5	8	9	16	23	24	29			
			4	3	10	15	14	25	28			
			1	2	11	12	13	26	27			


Dibuja el camino empezando por el 1 y acabando por el 100, contando de uno en uno.

88	89	92	93	96	97	100			
87	90	91	94	95	98	99			
86	83	82	81	80	79				
85	84	15	16	77	78	71	70	67	66
12	13	14	17	76	73	72	69	68	65
11	10	9	18	75	74	29	30	63	64
4	5	8	19	26	27	28	31	62	61
3	6	7	20	25	24	33	32	59	60
2	1		21	22	23	34	35	58	57
			40	39	38	37	36	55	56
			41	44	45	48	49	54	53
			42	43	46	47	50	51	52



Dibuja el camino empezando por el 1 y acabando por el 100, contando de uno en uno.

88	89	92	93	96	97	100			
87	90	91	94	95	98	99			
86	83	82	81	80	79				
85	84	15	16	77	78	71	70	67	66
12	13	14	17	76	73	72	69	68	65
11	10	9	18	75	74	29	30	63	64
4	5	8	19	26	27	28	31	62	61
3	6	7	20	25	24	33	32	59	60
2	1		21	22	23	34	35	58	57
			40	39	38	37	36	55	56
			41	44	45	48	49	54	53
			42	43	46	47	50	51	52


Dibuja el camino empezando por el 1 y acabando por el 100, contando de uno en uno.

Aa			1	2	3	4	9	10	
			34	33	32	5	8	11	12
			35	36	31	6	7	14	13
57	56	39	38	37	30	21	20	15	16
58	55	40	41	42	29	22	19	18	17
59	54	53	52	43	28	23	24	95	96
60	63	64	51	44	27	26	25	94	97
61	62	65	50	45	88	89	92	93	98
70	69	66	49	46	87	90	91	100	99
71	68	67	48	47	86	85			
72	73	76	77	80	81	84			
	74	75	78	79	82	83			

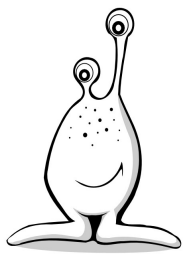

Dibuja el camino empezando por el 1 y acabando por el 100, contando de uno en uno.

7	6	3	2					65	66
8	5	4	1				63	64	67
9	10	19	20				62	61	68
12	11	18	21	22	53	54	59	60	69
13	16	17	24	23	52	55	58	71	70
14	15	26	25	50	51	56	57	72	73
33	32	27	28	49	82	81	80	79	74
34	31	30	29	48	83	84	85	78	75
35	36	45	46	47	100	99	86	77	76
38	37	44				98	87	90	91
39	42	43				97	88	89	92
40	41					96	95	94	93


Dibuja el camino empezando por el 1 y acabando por el 100, contando de uno en uno.

87	88	89	92	93	98	99	Bb		
86	85	90	91	94	97	100			
83	84	79	78	95	96				
82	81	80	77	76	75	74	73	70	69
55	56	57	60	61	62	63	72	71	68
54	53	58	59	42	41	64	65	66	67
51	52	45	44	43	40	39	36	35	34
50	47	46	9	10	11	38	37	32	33
49	48		8	13	12	17	18	31	30
			7	14	15	16	19	28	29
			6	5	4	21	20	27	26
			1	2	3	22	23	24	25



Dibuja el camino empezando por el 1 y acabando por el 100, contando de uno en uno.

87	88	89	90	97	98	99			
86	85	84	91	96	95	100			
79	80	83	92	93	94				
78	81	82	71	70	69	62	61	58	57
77	76	75	72	67	68	63	60	59	56
10	11	74	73	66	65	64	53	54	55
9	12	13	14	15	16	51	52	47	46
8	5	4	3	18	17	50	49	48	45
7	6		2	19	28	29	30	31	44
			1	20	27	36	35	32	43
			22	21	26	37	34	33	42
			23	24	25	38	39	40	41



Dibuja el camino empezando por el 1 y acabando por el 100, contando de uno en uno.

83	84	85	86	97	98	99	Ff		
82	89	88	87	96	95	100			
81	90	91	92	93	94				
80	79	72	71	70	63	62	61	54	53
77	78	73	68	69	64	59	60	55	52
76	75	74	67	66	65	58	57	56	51
5	6	7	10	11	12	45	46	47	50
4	3	8	9	14	13	44	43	48	49
1	2		16	15	24	25	42	41	40
			17	22	23	26	33	34	39
			18	21	28	27	32	35	38
			19	20	29	30	31	36	37



Dibuja el camino empezando por el 1 y acabando por el 100, contando de uno en uno.

12	11	8	7					44	45
13	10	9	6				42	43	46
14	15	16	5				41	40	47
21	20	17	4	1	36	37	38	39	48
22	19	18	3	2	35	58	57	50	49
23	30	31	32	33	34	59	56	51	52
24	29	28	87	86	85	60	55	54	53
25	26	27	88	83	84	61	62	65	66
94	93	90	89	82	81	80	63	64	67
95	92	91				79	78	77	68
96	99	100				74	75	76	69
97	98					73	72	71	70



Dibuja el camino empezando por el 1 y acabando por el 100, contando de uno en uno.

88	89	92	93	96	97	100			
87	90	91	94	95	98	99			
86	83	82	81	80	79				
85	84	15	16	77	78	71	70	67	66
12	13	14	17	76	73	72	69	68	65
11	10	9	18	75	74	29	30	63	64
4	5	8	19	26	27	28	31	62	61
3	6	7	20	25	24	33	32	59	60
2	1		21	22	23	34	35	58	57
			40	39	38	37	36	55	56
			41	44	45	48	49	54	53
			42	43	46	47	50	51	52



Dibuja el camino empezando por el 1 y acabando por el 100, contando de uno en uno.

			1	2	3	24	25	26	
			10	9	4	23	22	27	28
			11	8	5	20	21	30	29
49	48	47	12	7	6	19	18	31	32
50	51	46	13	14	15	16	17	34	33
53	52	45	44	43	42	41	40	35	36
54	55	56	89	90	91	92	39	38	37
63	62	57	88	87	86	93	96	97	98
64	61	58	83	84	85	94	95	100	99
65	60	59	82	81	78	77			
66	67	70	71	80	79	76			
	68	69	72	73	74	75			



Dibuja el camino empezando por el 1 y acabando por el 100, contando de uno en uno.

12	11	8	7					44	45
13	10	9	6				42	43	46
14	15	16	5				41	40	47
21	20	17	4	1	36	37	38	39	48
22	19	18	3	2	35	58	57	50	49
23	30	31	32	33	34	59	56	51	52
24	29	28	87	86	85	60	55	54	53
25	26	27	88	83	84	61	62	65	66
94	93	90	89	82	81	80	63	64	67
95	92	91				79	78	77	68
96	99	100				74	75	76	69
97	98					73	72	71	70



Dibuja el camino empezando por el 1 y acabando por el 100, contando de uno en uno.

			1	2	3	4	9	10	
			26	25	24	5	8	11	12
			27	28	23	6	7	14	13
51	50	33	32	29	22	21	20	15	16
52	49	34	31	30	39	40	19	18	17
53	48	35	36	37	38	41	94	95	96
54	47	46	45	44	43	42	93	92	97
55	56	57	82	83	86	87	90	91	98
62	61	58	81	84	85	88	89	100	99
63	60	59	80	79	76	75			
64	65	68	69	78	77	74			
	66	67	70	71	72	73			

Dibuja el camino empezando por el 1 y acabando por el 100, contando de uno en uno.

			3	4	5	82	83	84	
			2	7	6	81	80	85	86
			1	8	73	74	79	88	87
19	18	13	12	9	72	75	78	89	90
20	17	14	11	10	71	76	77	92	91
21	16	15	28	29	70	65	64	93	94
22	25	26	27	30	69	66	63	96	95
23	24	37	36	31	68	67	62	97	98
42	41	38	35	32	59	60	61	100	99
43	40	39	34	33	58	57			
44	45	48	49	52	53	56			
	46	47	50	51	54	55			

Dibuja el camino empezando por el 1 y acabando por el 100, contando de uno en uno.

83	84	85	86	97	98	99			
82	89	88	87	96	95	100			
81	90	91	92	93	94				
80	79	72	71	70	63	62	61	54	53
77	78	73	68	69	64	59	60	55	52
76	75	74	67	66	65	58	57	56	51
5	6	7	10	11	12	45	46	47	50
4	3	8	9	14	13	44	43	48	49
1	2		16	15	24	25	42	41	40
			17	22	23	26	33	34	39
			18	21	28	27	32	35	38
			19	20	29	30	31	36	37