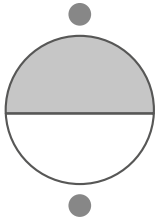


## 1 Une.

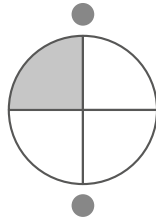
un cuarto

un medio

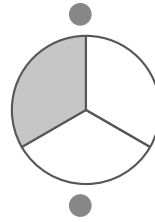
un tercio



$$\frac{1}{2}$$



$$\frac{1}{3}$$



$$\frac{1}{4}$$

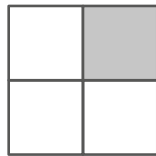

## 2 Escribe las palabras donde corresponda.

mayor

igual

menor

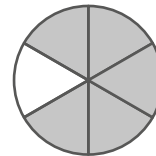
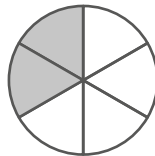
igual

a)  $\frac{1}{2}$  es ..... que la unidad.c)  $\frac{5}{4}$  es ..... que la unidad.b)  $\frac{5}{5}$  es ..... que la unidad.d)  $\frac{8}{8}$  es ..... que la unidad.3 Compara las fracciones. Escribe los signos  $>$  o  $<$ .

$$\frac{3}{4}$$



$$\frac{1}{4}$$



$$\frac{2}{6}$$



$$\frac{5}{6}$$

## 4 Escribe las divisiones en forma de fracción. ¡Fíjate en el ejemplo!

$$1 : 2 = \frac{1}{2}$$

$$3 : 4 = \boxed{\phantom{00}}$$

$$1 : 10 = \boxed{\phantom{00}}$$

$$4 : 5 = \boxed{\phantom{00}}$$

## 5 Calcula el resultado. Ayúdate del dibujo si lo necesitas.

$$\frac{1}{2} \text{ de } 12 = \dots\dots\dots$$

$$\frac{3}{4} \text{ de } 20 = \dots\dots\dots$$

$$\frac{2}{3} \text{ de } 18 = \dots\dots\dots$$

$$\frac{1}{5} \text{ de } 10 = \dots\dots\dots$$

