

Cuaderno de actividades

ACTIVIDADES DE MATEMÁTICAS

11



Ejercicios con monedas (€)

.....
Este cuaderno es gratuito, consigue más en www.edufichas.com
.....

gracias

Nombre: Fecha: Curso:

Fichas con monedas



Marca la opción correcta (puede haber más de una).

0,84 €

☐☐☐

www.edufichas.com

2,35 €

☐☐☐

www.edufichas.com

Nombre: Fecha: Curso:

Fichas con monedas



Rodea con un círculo las monedas que necesitas.



4,56 €



www.edufichas.com



2,87 €



www.edufichas.com

Nombre: Fecha: Curso:


Fichas con monedas



-----€



-----€



-----€



-----€

www.edufichas.com



-----€



-----€

Problemas de matemáticas



23. Una hamburguesa cuesta 3.65 €, y un refresco cuesta 1,50€. ¿Cuánto me he gastado en total?

datos

operaciones




solución:

www.edufichas.com

24. Mario tiene 50€ en su hucha. Se ha comprado un robot de juguete que cuesta 35,62 €. ¿Cuánto dinero le queda?

datos

operaciones



solución:

Nombre: Fecha: Curso:

Fichas con monedas



Marca la opción correcta (puede haber más de una).

1,26 €

☐☐☐

www.edufichas.com

3,04 €

☐☐☐

www.edufichas.com

Nombre: Fecha: Curso:

Fichas con monedas



Rodea con un círculo las monedas que necesitas.



4,56 €



www.edufichas.com



2,87 €



Nombre: Fecha: Curso:


Fichas con monedas



-----€



-----€



-----€



-----€

www.edufichas.com



-----€



-----€

Problemas de matemáticas



21. Un caramelo cuesta 5 céntimos, y una piruleta cuesta 7. He comprado 6 caramelos y 3 piruletas. ¿Cuánto dinero me ha costado?

datos

operaciones



solución:

www.edufichas.com

22. Un trozo de tarta cuesta 0,50€. Si la tarta entera tiene 8 trozos, ¿Cuánto cuesta la tarta?

datos

operaciones



solución:

Nombre: Fecha: Curso:

Fichas con monedas



Marca la opción correcta (puede haber más de una).

2,07 €

☐☐☐

www.edufichas.com

1,56 €

☐☐☐

www.edufichas.com

Nombre: Fecha: Curso:

Fichas con monedas



Rodea con un círculo las monedas que necesitas.



www.edufichas.com




www.edufichas.com

Nombre: Fecha: Curso:

Fichas con monedas



-----€



-----€



-----€



-----€

www.edufichas.com



-----€



-----€

Problemas de matemáticas



21. Un caramelo cuesta 5 céntimos, y una piruleta cuesta 7. He comprado 6 caramelos y 3 piruletas. ¿Cuánto dinero me ha costado?

datos

operaciones



solución:

www.edufichas.com

22. Un trozo de tarta cuesta 0,50€. Si la tarta entera tiene 8 trozos, ¿Cuánto cuesta la tarta?

datos

operaciones



solución:

Nombre: Fecha: Curso:

Fichas con monedas



Marca la opción correcta (puede haber más de una).

0,76 €

☐☐☐

www.edufichas.com

2,23 €

☐☐☐

www.edufichas.com

Nombre: Fecha: Curso:

Fichas con monedas



Rodea con un círculo las monedas que necesitas.



3,35 €



www.edufichas.com



2,27 €




www.edufichas.com

Nombre: Fecha: Curso:

Fichas con monedas




-----€



-----€



-----€



-----€

www.edufichas.com



-----€



-----€

Problemas de matemáticas



17. Pablo ha comprado una camiseta que le ha costado 6,57€, y una sudadera que le ha costado 11.50€, ¿Cuánto dinero se ha gastado?

datos

operaciones



solución:

www.edufichas.com

18. Marta y su prima han ido a una heladería. Si un helado cuesta 2,85 € y se han comido uno cada una, ¿Cuánto les ha costado?

datos

operaciones



solución:



Descarga más cuadernos de matemáticas
para niños:

<https://www.edufichas.com/cuadernos-imprimir/pdf-matematicas/>

También puedes descargar fichas de problemas:

<https://www.edufichas.com/matematicas/problemas/>