	Prueba de Matemáticas		EVALUACIÓN
	Evaluación: _____		Grupo: _____
	Nombre: _____		Fecha: _____

1)


¿Cuál es el número mayor? Escríbelo:

43 33 38 47 40 46 35

2)

Escribe los números que corresponden a cada representación. ¿Cuál es el mayor?





3)





Escribe los lápices que tienen la niña y el niño. ¿Quién tiene más?



Tiene más lápices

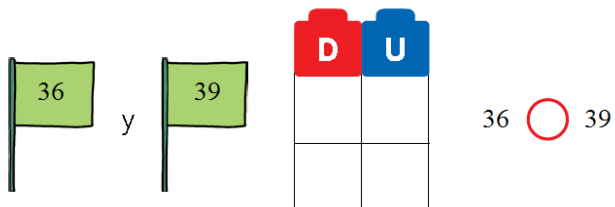
4)

Completa la tabla:

45	4D y 5U	
	4D y 7U	
40		
46		

5)

Compara estos números utilizando los signos $<$ o $>$.



6)

Compara y escribe < o >.

24 ○ 30 36 ○ 32 39 ○ 37

7)

¿Cuántas tazas hay? Cuenta y suma.

