



Nombre:

1. Una furgoneta transporta 84 cajas con 300 huevos cada una. Calcula el valor de la carga sabiendo que una docena de huevos cuesta dos euros.

Datos

Operaciones

Resultado

El valor es de

..... euros.



2. Una fuente ha tardado 10 minutos en llenar un bidón de 300 litros. ¿Cuánto tardará en llenar una cisterna de 12.000 litros?


Datos

Operaciones

Resultado

Tardará

..... minutos.



3. Un yogur y una chocolatina cuestan 1,25 €. Un yogur y un pastel 1€; y una chocolatina y un pastel 1,75 €. ¿Cuánto cuesta cada artículo por separado?

Datos

Operaciones


Resultado

Chocolatina: euros

Yogur: euros

Pastel: euros





4. Un mayorista compra 50 sacos de patatas de 40 kilos a 10 euros el saco. Después envasa la mercancía en bolsas de 4 kg y la vende a 1,4 euros la bolsa. ¿Cuánto gana?

Datos

Operaciones

Resultado

Gana

..... euros.



5. Alberto ha dado cinco vueltas al polideportivo en 12 minutos. ¿Cuánto ha tardado en cada vuelta?


Datos

Operaciones

Resultado

Quedan

..... euros.



6. Un coche gasta 6,5 litros de gasolina cada 100 kilómetros. ¿Cuánto gasta en céntimos en un kilómetro?

Datos

Operaciones

Resultado

Gasta

..... céntimos.



7. Víctor ha comprado 600 gramos de sardinas que le han costado 2,16 €. ¿A cómo está el kilo de sardinas?

Datos

Operaciones

Resultado

El kilo de sardinas

cuesta

..... euros.

