


Matemáticas:

1 Lee y resuelve.


- Teo y Pepa son granjeros.
Teo tiene 67 pavos y Pepa 102.
¿Cuántos pavos tiene Teo menos que Pepa?



Datos Teo ► pavos

Pepa ► pavos

Operación



Solución

Teo tiene

- En la mesa hay dos fruteros. Cada frutero tiene 5 manzanas.
¿Cuántas manzanas hay en la mesa?



Datos Manzanas en cada frutero ►

Fruteros ►

Operación ○ =

Solución

Hay

- En la mesa hay dos fruteros. Un frutero tiene 4 peras y el otro 9.
¿Cuántas peras hay en la mesa?



Datos Peras en un frutero ►

Peras en el otro frutero ►

Operación ○ =

Solución

Hay

Completa.

• $2 \times 3 = \square$

• $5 \times 1 = \square$

• $2 \times 5 = \square$

• $5 \times 2 = \square$

• $2 \times 8 = \square$

• $5 \times 4 = \square$

• $2 \times 9 = \square$

• $5 \times 7 = \square$

Si no recuerdas alguna, mira las tablas.



¿Cuántas flores hay de cada tipo? Observa y calcula.

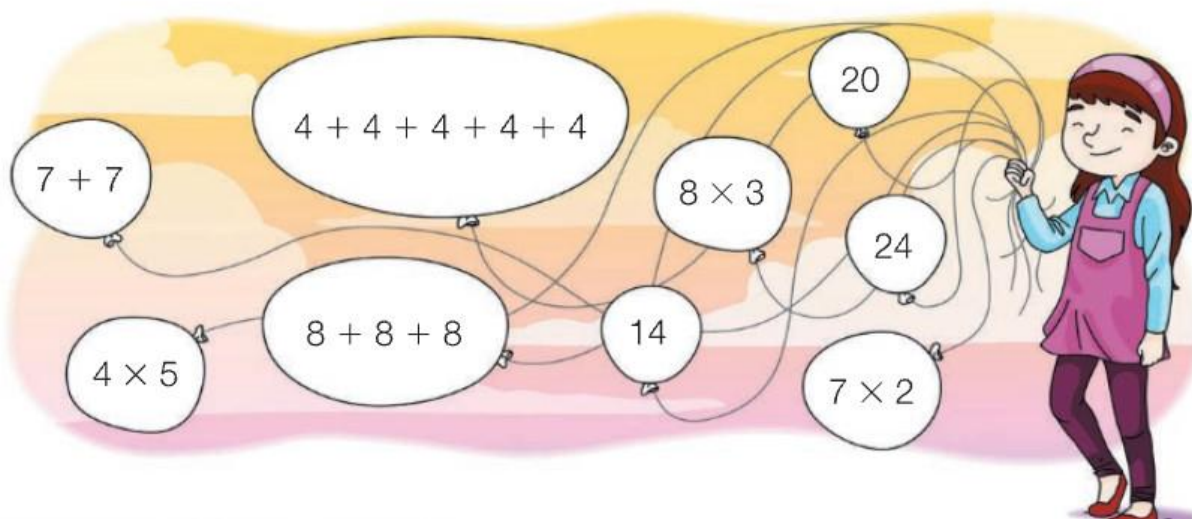


 $\triangleright \square + \square = \square \times \square = \square$

 $\triangleright \square + \square + \square + \square + \square = \square \times \square = \square$


 $\triangleright \square + \square + \square + \square + \square + \square = \square \times \square = \square$

Colorea igual los globos que indican el mismo número.




Calcula las siguientes operaciones:


$475 + 359 =$




$827 + 184 =$



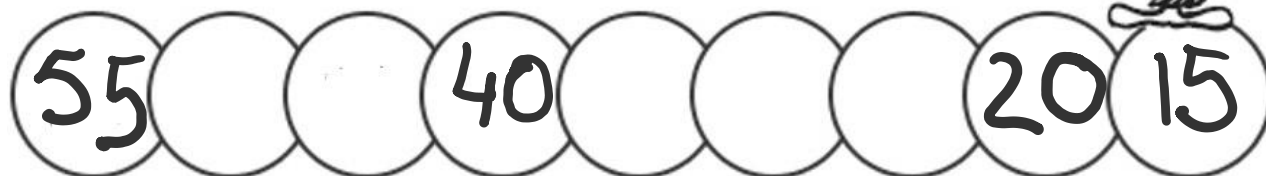

$571 - 253 =$



$635 - 476 =$



Completa las siguientes series:



Completa la tabla.

Número	Descomposición	Lectura
506		
	7 C + 2 D + 4 U	
613		
	6 C + 7 D	
790		

¡Manos a la obra!



1 ¿Dónde ocurre esta historia? ¿En qué estación del año?

2 Colorea los nombres de los animales que aparecen en el cómic.

oso	ciervo	lobo	conejo	búho
ardilla	hormiga	pájaro	castor	jabalí

3 Contesta.

- ¿Qué sucedió en el bosque?
- ¿Quién dio aviso del incendio?
- ¿Qué decidieron hacer los animales? ¿Con qué problema se encontraron?
- ¿Quiénes construyeron la presa? ¿Cómo la construyeron?

4 ¿En qué orden ocurrió? Escribe 1, 2 y 3.

- ☐ Entre todos los animales consiguieron acabar con el incendio.
- ☐ Los animales se bañaron juntos en la charca para celebrarlo.
- ☐ Un día de verano hubo un gran incendio en el bosque.

5 VOCABULARIO. Forma palabras terminadas en oso.

peligro ▶ <input type="text"/>	ruido ▶ <input type="text"/>
miedo ▶ <input type="text"/>	silencio ▶ <input type="text"/>
cuidado ▶ <input type="text"/>	misterio ▶ <input type="text"/>

SABER FACER

Describo un lugar

7

1 Observa esta imaxe da vila de Beiramar e responde.



- Beiramar é unha vila de montaña ou de costa?
- É grande ou pequena?
- Onde ten a praia, á dereita ou á esquerda?
- E o porto, onde se atopa?
- Onde está a ermida?

2 Imaxina que estiveches en Beiramar e anota unha cousa que che gustou facer.

3 Describe Beiramar a partir das respostas anteriores.

A vila de Beiramar

Beiramar é unha vila .

Ten

.

hai unha ermida.

Gústame moito ir a Beiramar e

1 Observa esta imaxe da vila de Beiramar e responde.



- Beiramar é unha vila de montaña ou de costa?
- É grande ou pequena?
- Onde ten a praia, á dereita ou á esquerda?
- E o porto, onde se atopa?
- Onde está a ermida?

2 Imaxina que estiveches en Beiramar e anota unha cousa que che gustou facer.

3 Describe Beiramar a partir das respostas anteriores.

A vila de Beiramar

Beiramar é unha vila .

Ten .

.

hai unha ermida.

Gústame moito ir a Beiramar e .

.

Como son as plantas?

Todas as plantas teñen **raíz**, **talo** e **follas**. Moitas plantas teñen tamén flores e froitos nalgunhas épocas.

Follas

Adoitan ser de cor verde.
Captan a luz do sol.

Talo

Serve de soporte
á planta e divídese
en ramas.

Raíz


Suxeita a planta á terra
e absorbe a auga e as
substancias da terra.

Flores

Saen só nalgunhas
épocas. Transfórmanse
en froitos.

Froitos

Conteñen
as sementes.



COMPARA E CONTRASTA


Risca o que non necesite cada ser vivo para vivir.
Despois, contesta.


PLANTAS luz - aire - auga - alimentos - substancias da terra

ANIMAIS luz - aire - auga - alimentos - substancias da terra


- En que se parecen as plantas e os animais?
- En que se diferencian?

1 Debuxa unha planta e coloréaa seguindo o código.

 Parte da planta que absorbe a auga e as substancias da terra.

 Parte da planta que capta a luz do sol.

 Parte que sostén a planta.



2 Une as dúas columnas.

- | | | |
|------------------|---|----------------------------|
| Todas as plantas | • | teñen flores e froitos. |
| Algunhas plantas | • | teñen raíz, talo e follas. |



3 Que parte comemos de cada planta? Escribe.

raíz

talo

flor

froito

espárrago



ravo



pemento



alcachofa



As plantas teñen raíz, talo e follas. Algunhas tamén teñen flores e froitos.