

## Trabajo para o martes 21 de abril

### Matemáticas:

5 Colorea igual las dos expresiones de la misma medida.

1 m y 75 cm

2 m y 6 cm

348 cm

175 cm

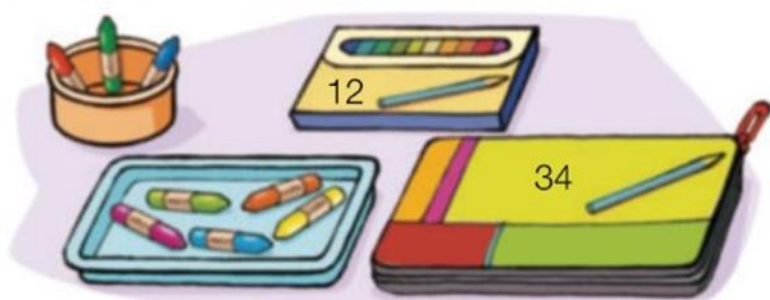
206 cm

260 cm

2 m y 60 cm

3 m y 48 cm

6 Observa el dibujo y resuelve.




En la clase de Plástica hay:


- 32 botes con ceras.
- 20 bandejas con ceras.
- 4 cajas de pinturas.
- 2 estuches de pinturas.

• ¿Dónde hay más ceras?

En los  
botes



En las  
bandejas




>




Hay más en

• ¿Dónde hay menos pinturas?

En las  
cajas



En los  
estuches



<



Hay menos en

5 ¿Cuántos hay en total? Completa las sumas y las multiplicaciones.



$$\begin{array}{r} \square 1 \quad \square 1 \quad \square 5 \quad \square \\ \square 3 \quad \square 5 \quad \square \end{array}$$



$$\begin{array}{r} \square 1 \quad \square 1 \quad \square + \square = \square \\ \square \times \square = \square \end{array}$$

6 Completa las multiplicaciones.

$2 \times 5 = \square$	$3 \times 4 = \square$	$4 \times 6 = \square$	$5 \times 3 = \square$
$2 \times 6 = \square$	$3 \times 5 = \square$	$4 \times 7 = \square$	$5 \times 6 = \square$
$2 \times 8 = \square$	$3 \times 7 = \square$	$4 \times 9 = \square$	$5 \times 8 = \square$

7 Dibuja con una regla.

 Una recta de 3 cm.

 Una recta de 10 cm.

8 Calcula cuántos centímetros mide cada deportista.



Tania  
1 m y 56 cm

Carlos  
1 m y 80 cm

Ramón  
2 m y 3 cm

Tania  $\rightarrow \square \text{ cm} + \square \text{ cm} = \square \text{ cm}$

Carlos  $\rightarrow \square \text{ cm} + \square \text{ cm} = \square \text{ cm}$

Ramón  $\rightarrow \square \text{ cm} + \square \text{ cm} = \square \text{ cm}$

11 Calcula mentalmente y completa.




- En 6 cestas hay
- En 7 platos hay

12 Observa y resuelve.




- ¿Cuántos kilos pesan 4 cajas verdes?



Pesan

- ¿Cuántos kilos pesan en total las cajas roja y verde?


- ¿Cuántos kilos pesa la caja roja más que la verde?


DEMUESTRA TU TALENTO

13 ¿Qué número hay debajo de cada mancha? Piensa y completa.

$$\begin{array}{r} 4 \text{ ● } 9 \\ + 2 \text{ ● } 6 \text{ ● } \\ \hline 7 \text{ ● } 0 \text{ ● } 4 \end{array}$$

● ►  ● ►

$$\begin{array}{r} \text{● } 2 \text{ ● } 5 \\ 2 \text{ ● } 7 \\ \hline 7 \text{ ● } 0 \text{ ● } 8 \end{array}$$

● ►  ● ►

$$\begin{array}{r} \text{● } 1 \\ \times 3 \\ \hline 1 \text{ ● } 8 \text{ ● } 3 \end{array}$$

● ►





Amparo y Alberto son primos hermanos y tienen la misma edad. Pero sus familias tuvieron que mudarse y ahora viven muy lejos la una del otro. Sin embargo, siguen queriéndose mucho y, en cuanto llegaron a sus nuevas casas, Amparo llamó a su primo por teléfono.

—Amparo, ¿cómo estás? —preguntó Alberto nada más reconocerla.

—Muy bien. Esta ciudad es costera y el sitio donde está mi nueva casa es muy bonito.

—¿Ah, sí? Cuéntame cómo es.





—Puedo mandarte una foto por correo electrónico.

—No, prefiero que me describas el paisaje que ves desde tu ventana —dijo Alberto, a quien le gustaba más oír hablar a su prima que enviarse correos electrónicos con ella.

—Está bien —accedió ella—. Ahora mismo, desde mi ventana, veo el mar. Está de color azul claro y muy tranquilo. Por el cielo, de vez en cuando, pasa alguna nube, tan blanca que parece hecha de algodón.

—¿Y hay playa?

—Sí que hay, justo bajo mi ventana. Es una playa de arena rubia, amarilla como el trigo. Cuando llegue el verano y vengas a verme, iremos a esa playa a jugar con la arena y a bañarnos.

—Será estupendo —dijo Alberto—. Pero también podrías venir a verme tú a mí. El pueblo al que nos hemos mudado es muy bonito. Desde donde estoy ahora, veo la plaza, con el edificio del Ayuntamiento, que es muy antiguo y está hecho todo de piedra. Y, más allá, detrás de las últimas casas del pueblo, hay una enorme montaña, toda llena de vegetación.

—¡Qué envidia! Aquí hay menos plantas. Cactus y palmeras, sobre todo.

—Pues aquí todo es muy verde. La montaña está cubierta de bosque casi hasta la cima. Y las nubes que pasan se quedan un rato allá arriba, como si hicieran una parada para descansar entre los árboles.

—Pues sí que debe de ser hermoso ahí el paisaje.

—Sí. Si vienes a verme, iremos al monte, a coger moras. Aquí hay muchas moreras.

En ese momento, al otro lado del teléfono, Alberto oyó el sonido de una sirena.

—¿Y ese ruido? —preguntó.

—Bueno, ese es el defecto de esta casa —dijo Amparo—. Está justo al lado del hospital de la ciudad y siempre se oye pasar a las ambulancias.



# Comprendo la lectura

1 Escribe el nombre de cada protagonista donde corresponda.



2 Marca la opción correcta.

Desde su ventana, Amparo ve...

☐

...un mar azul y una playa de piedras.

☐

...un mar azul y una playa de arena amarilla.

Desde donde está, Alberto ve...

☐

...la plaza y, más allá, una gran montaña verde.

☐


...la plaza y, más allá, una pequeña montaña gris.



## Inteligencia lingüística: Adquirir vocabulario

3 Lee y marca el dibujo que muestre lo que es una pinacoteca.

Una **pinacoteca** es un museo donde se cuidan y exponen cuadros de muchos pintores.

☐☐☐



# Aprendo palabras

## 1 Escribe o nome destes medios de comunicación.



O **xornal dixital** é un periódico  
que se publica en Internet.

Sabías que... o primeiro xornal escrito en galego foi:  
O TÍO MARCOS DA PORTELA

## 2 Une.

xornalista

Persoa que grava os programas coa cámara.

guionista

Persoa que presenta os programas de radio.

presentador

Persoa que presenta os programas de televisión.

locutor

Persoa que escribe as noticias.

cámara

Persoa que escribe o guión do que se vai dicir  
no programa.

## 3 Infórmate e escribe con maiúscula o nome dun xornal galego.

4 Le e observa as seguintes comparacións.

Esta mochila é **tan** alta **coma** a túa.



A mochila amarela é **máis** alta **ca** a verde.



A mochila vermella é **menos** alta **ca** a azul.



5 Compara e completa con:

tan.... coma

máis.... ca

menos.... ca



O edificio amarelo é  alto  o verde.

O edificio azul é  alto  o rosa.

O edificio rosa é  alto  o verde.



## Ciencias Sociais:

O tema 7 “A paisaxe” xa o vimos con outra editorial, así que o saltaremos e, mais adiante verémolo tema 6 “A auga”, que quedou pendente do segundo trimestre.



## O coidado da natureza e a orientación



Don Benito, o alcalde, propúxonos a todos os veciños celebrar o día da árbore. Todo o mundo se alegrou moito, pois nos gusta coidar a natureza.

Hai uns meses houbo un grande incendio no bosque e queimáronse moitas árbores. Desde entón, quedan poucos animais alí.

Hoxe imos plantar novas árbores, que aínda son pequenas. Cando crezan, o bosque volverá estar igual de bonito que antes e os animais volverán facer as súas casas.

Algúns nenos están recollendo o lixo do chan, pois non queremos que a paisaxe e a auga se contaminen.

# Que sabemos

- 1 Explica que pasou no bosque hai uns meses.

- 2 Como coida o pobo a natureza? Subliña.

Fan cacharelas e barbacoas no bosque.

Plantan novas árbores.

Limpan o campo de lixo.

- 3 Que pode pasar no río se non recollen o lixo? Escribe.



## Intelixencia lóxico-matemática: Seguir pistas lóxicas

- 4 Le todas as pistas e, despois, escribe o nome de cada planta.

O ficus e a orquídea son as máis altas.

A fita ten as follas máis longas.

A orquídea ten flores.

A violeta está entre o ficus e a fita.

