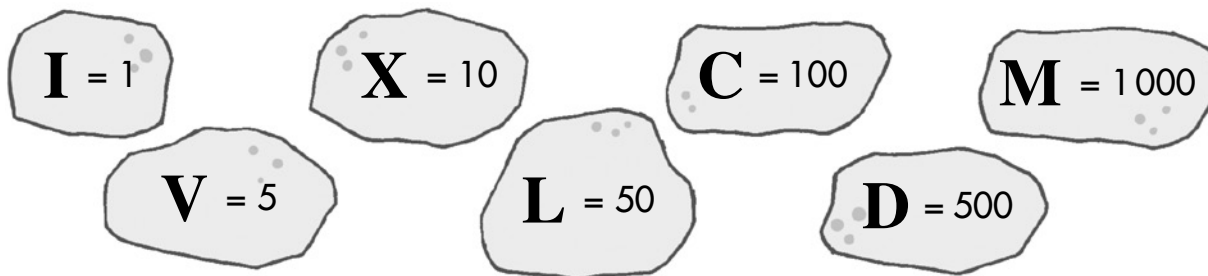


Los números romanos

Utilizamos letras para escribir números

El antiguo sistema de numeración romana utilizaba siete letras con estos valores:



Para escribir números, seguían estas reglas:

1.ª Si una letra se escribe a la derecha de otra de igual o mayor valor, se suman sus valores.

$$XV = 10 + 5 = 15$$

$$LX = 50 + 10 = 60$$

2.ª Si una letra se escribe a la izquierda de otra de mayor valor, se restan sus valores.

$$IX = 10 - 1 = 9$$

$$XC = 100 - 10 = 90$$

3.ª Las letras I, X, C y M se pueden repetir dos o tres veces, y las letras V, L y D no se pueden repetir ni escribir a la izquierda de otra de mayor valor.

$$III = 3$$

$$XX = 20$$

4.ª La letra I solo se puede escribir delante de V y de X. La letra X solo se puede escribir delante de L y de C; y la C, solo delante de D y M.

$$CD = 500 - 100 = 400$$

$$XL = 50 - 10 = 40$$

Actividades

Aplico lo aprendido

1 Escribe los valores de estos números romanos:

$$XIV = \dots\dots\dots$$

$$XXXVIII = \dots\dots\dots$$

$$XLIX = \dots\dots\dots$$

$$CLXXX = \dots\dots\dots$$

$$CDVI = \dots\dots\dots$$

$$MMXIII = \dots\dots\dots$$

2 Escribe con números romanos.

86 =

99 =

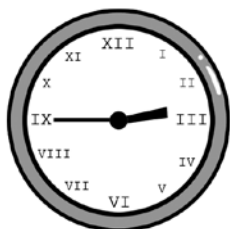
990 =

548 =

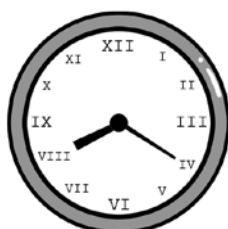
1 942 =

2015 =

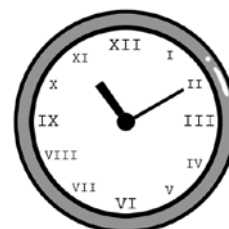
3 Indica la hora que marcan estos relojes:



.....
.....



.....
.....




.....
.....

4 ¿En qué año se construyeron estos monumentos?




MCDLVI

.....



MCMX

.....



MMIX

.....

5 Escribe con números romanos el año actual.

.....

6 Continúa las series.

I - III - V - VII - - - - - XIX

I - V - IX - XIII - - - - - XXXVII

I - III - VI - X - XV - - - - - LV

7 Realiza estas operaciones:

XVIII + LIX = + =

CDXXVI - XCIX = - =