









Completa las siguientes tablas:

EXPRESIÓN GRÁFICA	PIENSO	EXPRESIÓN NUMÉRICA
		
		$\frac{2}{3}$
		
	10 partes iguales 6 coloreadas	
		$\frac{1}{5}$
	4 partes iguales 3 coloreadas	$\frac{3}{4}$


A




B




C



D



E



F




Figura	Denominador	Numerador	Fracción

Completa la tabla:

DIBUJO	NUMERADOR	DENOMINADOR	FRACCIÓN
			
			$\frac{3}{5}$
	5	6	
			
	2		$\frac{\square}{4}$

Une mediante flechas

Dos quintos

Cuatro séptimos

Un tercio

Tres cuartos

Cinco sextos

Siete octavos

Tres décimos

Ocho novenos

$\frac{1}{3}$
$\frac{5}{6}$
$\frac{8}{9}$
$\frac{2}{5}$
$\frac{3}{10}$
$\frac{7}{8}$
$\frac{3}{4}$
$\frac{4}{7}$

