

Unidad 11. Día de cine

Nombre: _____ Curso: _____ Fecha: _____

Iniciación a las tablas de multiplicar

1. Tacha las multiplicaciones incorrectas.

$3 \times 2 = 9$

$6 \times 2 = 12$

$5 \times 2 = 10$

$9 \times 2 = 18$

$1 \times 2 = 1$

$3 \times 2 = 6$

$4 \times 2 = 10$

$7 \times 2 = 14$

$2 \times 2 = 4$

Unidad 11. Día de cine

Nombre: _____ Curso: _____ Fecha: _____

El calendario

2. Une cada mes con la estación del año correspondiente.

enero

octubre

abril

agosto

julio

febrero

noviembre

mayo

primavera

otoño

invierno

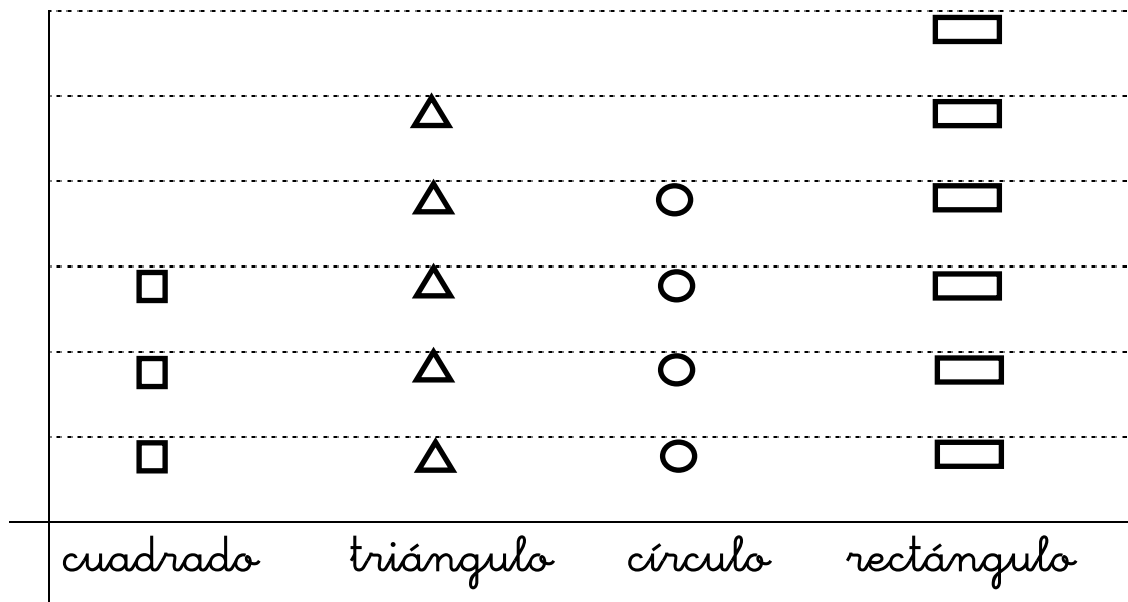
verano





Unidad 11. Día de cine

Nombre: _____ Curso: _____ Fecha: _____

Gráficos de barras y pictogramas

3. Completa la tabla a partir del pictograma.



Unidad 11. Día de cine

Nombre: _____ Curso: _____ Fecha: _____

¿Te acuerdas?

4. Colorea el camino que lleva a Samuel hasta el balón sabiendo que solo puede pisar sobre números pares.



12	11	15	13	47
24	13	17	25	59
48	16	62	4	49
7	49	23	16	65
51	3	75	88	90



- Rellena los datos según el camino que haya seguido Samuel.

