

## Unidad 9. Clase de dibujo

Nombre: \_\_\_\_\_ Curso: \_\_\_\_\_ Fecha: \_\_\_\_\_

### Números ordinales

1. Descubre el orden de estos 10 niños en la fila y completa.

- Juan está entre Olivia y Óscar.
- Olivia es la décima.
- Carla va delante de Óscar.
- María está delante del quinto.
- Eusebio va detrás de María.



Olivia es la , Juan es el

Óscar está el , Carla va la

Eusebio es el  y María, la

## Unidad 9. Clase de dibujo

Nombre: \_\_\_\_\_ Curso: \_\_\_\_\_ Fecha: \_\_\_\_\_

### Resta de números de dos cifras

2. Calcula la siguiente operación.

El juego tiene 60 casillas. He recorrido 20, ¿cuántas me faltan para terminar?



Me faltan  casillas.

### Resta de números de dos cifras

3. Completa estas restas.

$\begin{array}{r} \boxed{89} \\ - \boxed{\phantom{00}} \\ \hline \boxed{36} \end{array}$	$\begin{array}{r} \boxed{78} \\ - \boxed{\phantom{00}} \\ \hline \boxed{42} \end{array}$	$\begin{array}{r} \boxed{86} \\ - \boxed{\phantom{00}} \\ \hline \boxed{21} \end{array}$	$\begin{array}{r} \boxed{\phantom{00}} \\ - \boxed{58} \\ \hline \boxed{30} \end{array}$
--	--	--	--

## Unidad 9. Clase de dibujo

Nombre: \_\_\_\_\_ Curso: \_\_\_\_\_ Fecha: \_\_\_\_\_

### Suma de dos números con llevadas

4. Recuerda la propiedad conmutativa y completa las sumas.

$$\begin{array}{r} \square \\ + 19 \\ \hline 84 \end{array} \quad \begin{array}{r} \square \\ + 65 \\ \hline \square \end{array}$$

$$\begin{array}{r} 48 \\ + \square \\ \hline 80 \end{array} \quad \begin{array}{r} \square \\ + 48 \\ \hline \square \end{array}$$

### Suma de tres números con llevadas

5. Completa estas sumas.

$$\begin{array}{r} 16 \\ 34 \\ + \square \\ \hline 56 \end{array}$$

$$\begin{array}{r} 18 \\ \square \\ + 33 \\ \hline 87 \end{array}$$

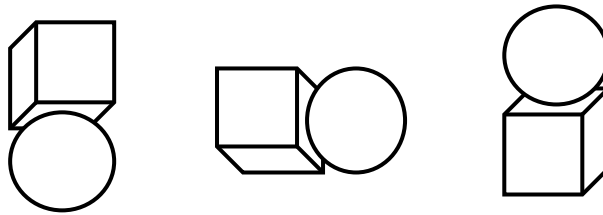
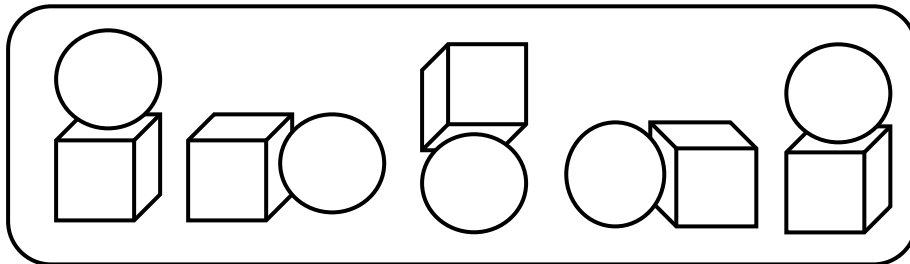
$$\begin{array}{r} \square \\ 35 \\ + 35 \\ \hline 99 \end{array}$$

## Unidad 9. Clase de dibujo

Nombre: \_\_\_\_\_ Curso: \_\_\_\_\_ Fecha: \_\_\_\_\_

### Cubo y esfera

6. ¿Qué pieza continúa la serie? Rodéala.



## Unidad 9. Clase de dibujo


Nombre: \_\_\_\_\_ Curso: \_\_\_\_\_ Fecha: \_\_\_\_\_

¿Te acuerdas?

7. Calcula estas operaciones y colorea según las indicaciones.

62: azul

50: marrón



41: verde

83: amarillo