



# Unidad 1. ¡No te muevas!

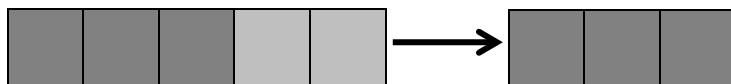

Nombre: \_\_\_\_\_ Curso: \_\_\_\_\_ Fecha: \_\_\_\_\_

## Números del 0 al 5

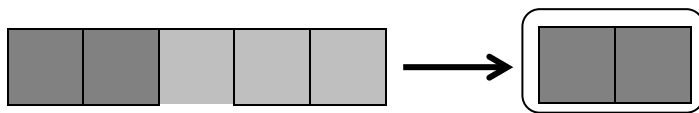
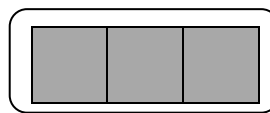
1. Cuenta, completa y dibuja.

y

y

y

## Unidad 1. ¡No te muevas!

Nombre: \_\_\_\_\_ Curso: \_\_\_\_\_ Fecha: \_\_\_\_\_

### Suma en horizontal y en vertical

2. Rodea solo las sumas correctas.

$1 + 4 = 5$

$2 + 3 = 5$

$3 + 1 = 4$

$1 + 1 = 3$

$1 + 2 = 2$

$0 + 1 = 1$


$2 + 2 = 4$


$5 + 0 = 5$

$4 + 0 = 4$

### Muchos y pocos

3. Escribe *muchos* o *pocos* según corresponda.





# Unidad 1. ¡No te muevas!


Nombre: \_\_\_\_\_ Curso: \_\_\_\_\_ Fecha: \_\_\_\_\_

## Todos, alguno y ninguno

4. Observa las ilustraciones y escribe *todos*, *alguno* o *ninguno* según los bolos que se hayan caído.








# Unidad 1. ¡No te muevas!

Nombre: \_\_\_\_\_ Curso: \_\_\_\_\_ Fecha: \_\_\_\_\_

## Dentro de y fuera de

5. Observa el dibujo y completa las oraciones.



• Hay   dentro de la .

• Hay   fuera de la .

• Hay   dentro de la .

# Unidad 1. ¡No te muevas!

Nombre: \_\_\_\_\_ Curso: \_\_\_\_\_ Fecha: \_\_\_\_\_

## Delante de y detrás de

6. Con ayuda de las siguientes pistas, escribe el nombre de los niños que están en la fila.

- Olivia es la última de la fila.
- Juan está delante de Olivia y detrás de Óscar.
- Carla está delante de Óscar.
- Luis está detrás de María y delante de Carla.





## Unidad 1. ¡No te muevas!

Nombre: \_\_\_\_\_ Curso: \_\_\_\_\_ Fecha: \_\_\_\_\_

### Conquista PISApolis

7. ¿Cuántos animales hay delante del conejo? Rodea la respuesta correcta.



- todos
- ninguno
- alguno

# Unidad 1. ¡No te muevas!

Nombre: \_\_\_\_\_ Curso: \_\_\_\_\_ Fecha: \_\_\_\_\_

**¿Te acuerdas?**

8. Ahora, completa estas sumas.

$$\begin{array}{r} \boxed{1} \\ + \boxed{\phantom{0}} \\ \hline \boxed{3} \end{array}$$

$$\begin{array}{r} \boxed{\phantom{0}} \\ + \boxed{2} \\ \hline \boxed{4} \end{array}$$

$$\begin{array}{r} \boxed{5} \\ + \boxed{\phantom{0}} \\ \hline \boxed{5} \end{array}$$

# Unidad 1. ¡No te muevas!

Nombre: \_\_\_\_\_ Curso: \_\_\_\_\_ Fecha: \_\_\_\_\_

## ¿Te acuerdas?

9. Colorea el dibujo siguiendo este código.

- Con azul  $\longrightarrow$  1
- Con rojo  $\longrightarrow$  2
- Con amarillo  $\longrightarrow$  3
- Con verde  $\longrightarrow$  4

