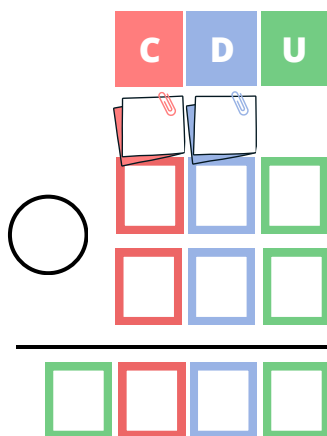




1. Ana tiene 2 manzanas y su hermana le da 3 más.
¿Cuántas manzanas tiene Ana ahora?

DATOS

OPERACIÓN



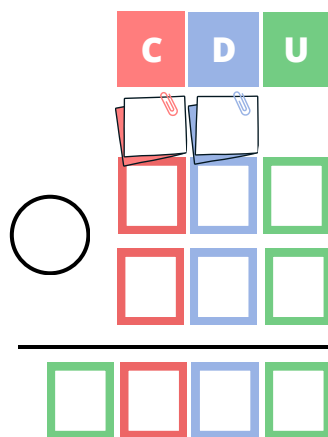
SOLUCIÓN



2. Luis tiene 5 globos. Se le pincha 1. ¿Cuántos globos le quedan?

DATOS

OPERACIÓN



SOLUCIÓN

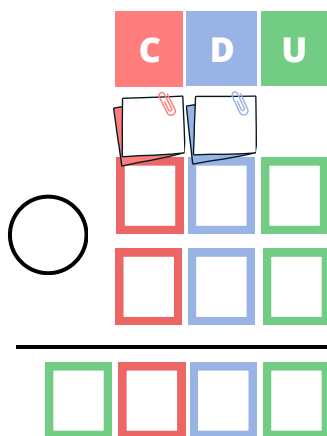




3. Marta tiene 3 lápices y su amigo le regala 4 más. ¿Cuántos lápices tiene ahora?

DATOS

OPERACIÓN



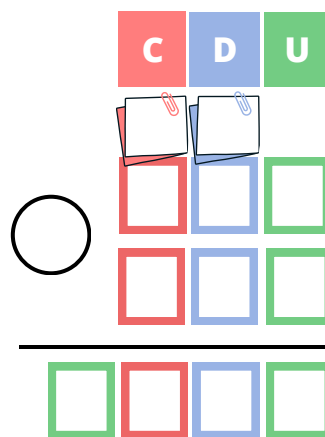
SOLUCIÓN



4. En una caja hay 10 juguetes. Se llevan 3. ¿Cuántos juguetes quedan en la caja?

DATOS

OPERACIÓN



SOLUCIÓN

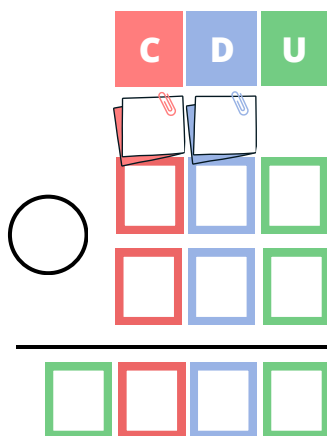




5. En un parque hay 7 patos y 5 gansos. ¿Cuántos animales hay en total?

DATOS

OPERACIÓN



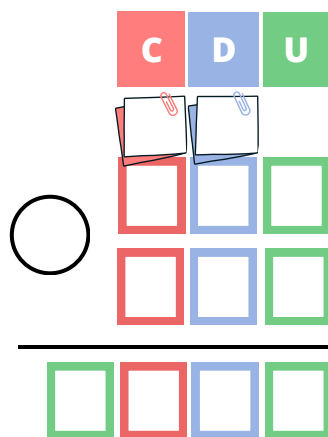
SOLUCIÓN



6. Un grupo de 6 amigos va al cine y se encuentran con 4 más. ¿Cuántos amigos van al cine?

DATOS

OPERACIÓN



SOLUCIÓN

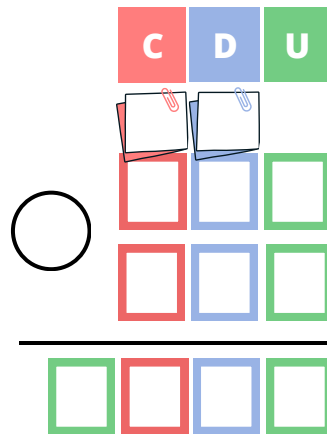




7. En un tren hay 28 pasajeros. Se bajan 7 en la siguiente estación. ¿Cuántos pasajeros quedan?

DATOS

OPERACIÓN



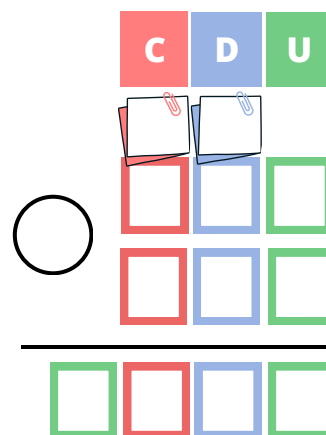
SOLUCIÓN



8. En una granja hay 64 gallinas. Si 12 se venden, ¿cuántas quedan en la granja?

DATOS

OPERACIÓN



SOLUCIÓN

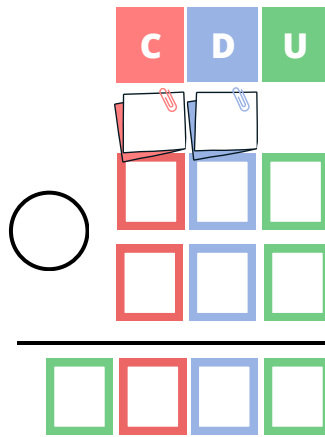




9. En un estante hay 125 libros y se añaden 75 más. ¿Cuántos libros hay en total?

DATOS

OPERACIÓN



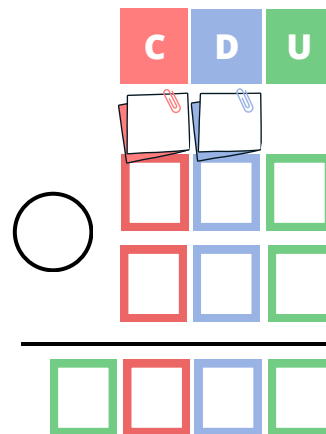
SOLUCIÓN



10. En una clase hay 180 alumnos y se inscriben 60 más. ¿Cuántos alumnos hay en total?

DATOS

OPERACIÓN



SOLUCIÓN

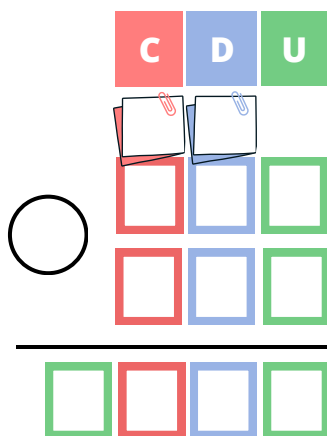




11. Un tren puede llevar 250 pasajeros. Si viajan 140, ¿cuántos asientos quedan libres?

DATOS

OPERACIÓN



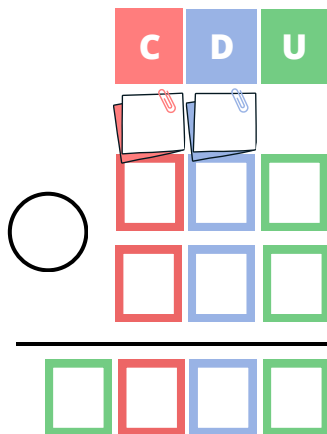
SOLUCIÓN



12. En una tienda hay 400 juguetes. Si se venden 200, ¿cuántos juguetes quedan?

DATOS

OPERACIÓN



SOLUCIÓN

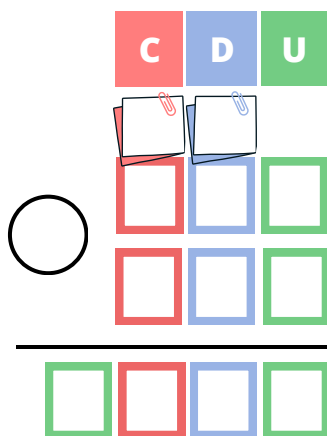




13. Juan tiene 98 canicas y su amigo Pedro le regala 125.
¿Cuántas canicas tiene Juan ahora?

DATOS

OPERACIÓN



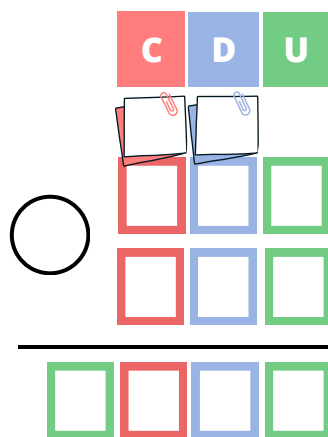
SOLUCIÓN



14. Un lazo mide 150 centímetros y otro 85 centímetros.
¿Cuántos centímetros miden los dos lazos juntos?

DATOS

OPERACIÓN



SOLUCIÓN

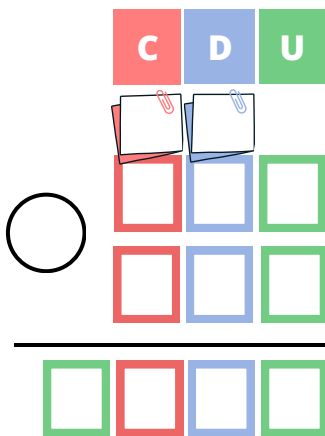




15. Para la fiesta de cumpleaños de Sofía, su mamá compró un pastel grande que pesaba 150 gramos y una torta de chocolate que pesaba 850 gramos. ¿Cuánto pesaba todo el postre en total?

DATOS

OPERACIÓN



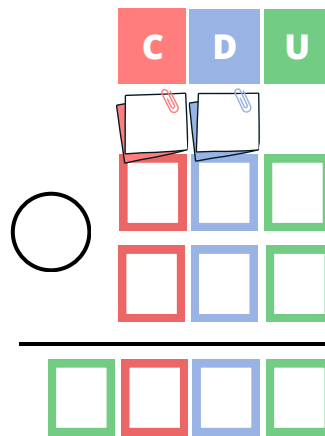
SOLUCIÓN



16. Juan tiene una colección de 132 cromos de fútbol. Si su amigo Pedro le regala 98 cromos que ya no quiere, ¿cuántos cromos tendrá Juan en total?

DATOS

OPERACIÓN



SOLUCIÓN

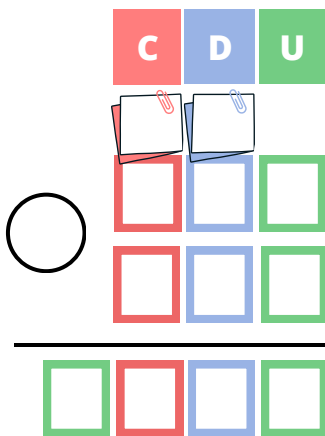




17. Sofía ha estado ahorrando dinero para comprar una bicicleta. Tiene 85 euros en su hucha y sus abuelos le regalaron 115 euros por su cumpleaños. ¿Cuánto dinero tiene ahora Sofía para comprar la bicicleta?

DATOS

OPERACIÓN



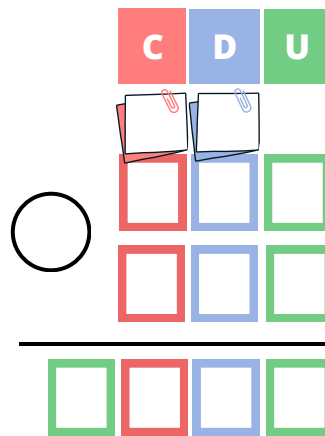
SOLUCIÓN



18. Tenía 250 canicas. Le presté a mi hermano 120 canicas para que jugara con sus amigos. ¿Cuántas canicas me quedaron?

DATOS

OPERACIÓN



SOLUCIÓN

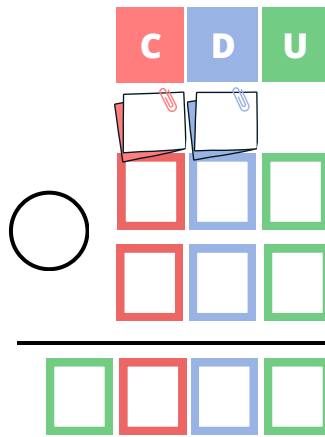




19. En un juego de mesa tenía 226 puntos. Si perdí 115 puntos en la última ronda, ¿con cuántos puntos me quedé?

DATOS

OPERACIÓN



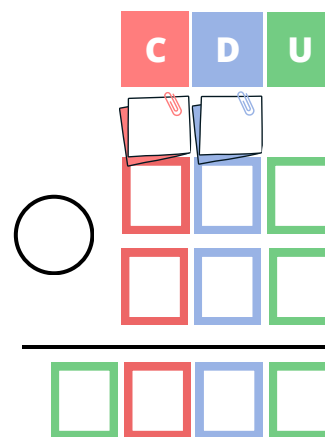
SOLUCIÓN



20. Ana y María han estado jugando a su juego de mesa favorito. Ana ha conseguido 120 puntos mientras que María ha alcanzado los 180 puntos ¿Cuántos puntos han conseguido juntas las dos?

DATOS

OPERACIÓN




SOLUCIÓN




1

5




2

4




3

7




4

7




5

12




6

10




7

21




8

52




9

200



10

240



11

110



12

200



13

223



14

235



15

1000



16

230



17

200



18

130



19

111



20

300

