






Nombre  Fecha


# PROBLEMA

Hoy he estado en el zoológico. Había 12 monos, 15 patos y 2 puercoespines. También había otros animales más, pero no los conté.

Cada cuadro representa a un animal. Colorea los cuadros según la cantidad que hay en el zoo de cada uno.



--	--	--	--	--	--	--	--	--	--	--	--	--	--	--	--	--	--	--	--



--	--	--	--	--	--	--	--	--	--	--	--	--	--	--	--	--	--	--	--



--	--	--	--	--	--	--	--	--	--	--	--	--	--	--	--	--	--	--	--

¿Qué animales hay más? 


¿Qué animales hay menos? 






Los patos han ido a merendar a la jaula de los monos.

¿Cuántos animales hay ahora en la jaula de los monos?


Hay  animales en la jaula.

## LABERINTOS SECRETOS.

Averigua que fruta comerá hoy Pepe. Sigue las instrucciones coloreando los cuadritos.



### INSTRUCCIONES

Tres abajo.

Cinco izquierda.

Dos abajo

Cuatro derecha.


Uno abajo.

Cinco derecha.

Dos abajo

Une los puntos

NOMBRE: \_\_\_\_\_



Nombre \_\_\_\_\_

Fecha \_\_\_\_\_



$$\begin{array}{r} 38 \\ - 14 \\ \hline \end{array}$$

$$\begin{array}{r} 19 \\ - 7 \\ \hline \end{array}$$

$$\begin{array}{r} 31 \\ - 11 \\ \hline \end{array}$$

$$\begin{array}{r} 15 \\ - 14 \\ \hline \end{array}$$

$$\begin{array}{r} 38 \\ - 25 \\ \hline \end{array}$$

$$\begin{array}{r} 59 \\ - 34 \\ \hline \end{array}$$

$$\begin{array}{r} 69 \\ - 29 \\ \hline \end{array}$$

$$\begin{array}{r} 34 \\ - 10 \\ \hline \end{array}$$

$$\begin{array}{r} 95 \\ - 24 \\ \hline \end{array}$$

$$\begin{array}{r} 38 \\ - 36 \\ \hline \end{array}$$

$$\begin{array}{r} 77 \\ - 34 \\ \hline \end{array}$$

$$\begin{array}{r} 29 \\ - 36 \\ \hline \end{array}$$

$$\begin{array}{r} 45 \\ - 24 \\ \hline \end{array}$$

$$\begin{array}{r} 25 \\ - 22 \\ \hline \end{array}$$

$$\begin{array}{r} 96 \\ + 83 \\ \hline \end{array}$$

$$\begin{array}{r} 98 \\ - 4 \\ \hline \end{array}$$

$$\begin{array}{r} 24 \\ - 10 \\ \hline \end{array}$$

$$\begin{array}{r} 37 \\ - 16 \\ \hline \end{array}$$

$$\begin{array}{r} 85 \\ - 55 \\ \hline \end{array}$$

$$\begin{array}{r} 76 \\ - 35 \\ \hline \end{array}$$

$$\begin{array}{r} 88 \\ - 64 \\ \hline \end{array}$$

$$\begin{array}{r} 49 \\ - 19 \\ \hline \end{array}$$

$$\begin{array}{r} 56 \\ - 26 \\ \hline \end{array}$$

$$\begin{array}{r} 99 \\ - 35 \\ \hline \end{array}$$

$$\begin{array}{r} 67 \\ - 53 \\ \hline \end{array}$$