

Apellidos:

Nombre:

1. Escribe con letra los siguientes números.

1.458 →


2.351 →

7.072 →

2. Completa esta tabla.


número	DM	UM	C	D	U	se descompone
5.873						
	1	2	3	4	5	
						90.000 + 300 + 80 + 5
81.364						

3. Indica el lugar (DM, UM, C, D, U) que ocupa la cifra 3 en cada uno de estos números.




↓

.....




↓

.....




↓

.....



↓

.....



↓

.....

4. Completa la tabla siguiente.

número	se encuentra entre...	el millar más próximo es...
2.875	2.000 y 3.000	
57.469		
27.899		

5. Compara estos números y escribe el signo > o < según corresponde.

54.561  54.651

87.999  88.989

12.115  12.015