



## ACTIVIDADES DENDE A AULA DE PEDAGOXÍA TERAPÉUTICA

### PARA 3º DE PRIMARIA

Esta semana comeza o mes de maio. En moitas das actividades  
as FLORES terán protagonismo.

INTENTA ADIVIÑAR.

Amarilla en el centro,  
blanca por fuera,  
crece solita en la  
primavera.  
¿Qué flor es?

La Rosa



Es una planta  
con una flor  
que gira y gira  
buscando el sol.  
¿Qué flor es?

El Girasol




Es la reina de las flores,  
con variados colores,  
alegra en la primavera  
los parques y salones.  
¿Qué flor es?

La Margarita





# MANDALAS



**Mellora a ATENCIÓN e a MOTRICIDADE FINA**

<https://www.cokitos.com/pintar-mandala-online/play/>



## RAZOAMENTO VERBAL

Escribe una pregunta para cada respuesta.

0)

.....  
.....

- Patatas con mayonesa.

2)

.....  
.....

- Sí, aunque llegaremos un poco más tarde.

3)

.....  
.....

- Porque quiero hacer un pastel de nueces.

4)

.....  
.....

- El lunes a las cinco.

5)

.....  
.....

- No puedo, tengo que estudiar.

6)

.....  
.....

- Trece euros.



4. Marta y su padre han ido a comprar folios de colores a la librería. Como estaban de oferta las cajas de 1 000 folios han decidido comprar 4 cajas.

¿Cuántos folios han comprado en total?

*Datos*

*Operaciones*

*Resultado*

Compraron

..... folios.



5. Andrea hace 4 viajes al día en autobús. Si un billete cuesta 75 céntimos, ¿cuánto gasta en 5 días? *Calcula primero lo que te gastas en un día.*

*Datos*

*Operaciones*

*Resultado*



6. Emilio compra un disco de música que le cuesta 8 € 45 céntimos y una flauta que le cuesta 31 € 35 céntimos. ¿Cuánto gasta en total?

*Datos*

*Operaciones*

*Resultado*

Gasta en total

.....

7. Pedro tiene 13 años menos que Marta, y Marta 11 años menos que Ramón. Si Ramón tiene 45 años, ¿cuántos años tiene Pedro?

*Datos*

*Operaciones*

*Resultado*

Pedro tiene

..... años.





XUNTA DE GALICIA

CONSELLERÍA DE CULTURA, EDUCACIÓN  
E ORDENACIÓN UNIVERSITARIA

CEIP *plurilingüe* DE CASTRELO

A Bouza 96, Castrelo - Cambados C.P. 36639 (Pontevedra)  
Teléfono: 886 151 171 Fax: 886 151 175 E-mail: [ceip.castrelo@edu.xunta.es](mailto:ceip.castrelo@edu.xunta.es)  
<http://www.edu.xunta.gal/centros/ceipdecastrelo/>



5. La edad de Luis está comprendida entre 30 y 40 años. La cifra de las unidades es doble de la cifra de las decenas. ¿Qué edad tiene Luis?

Operaciones				Resultado
32	33	34	35	El número es el.....
36	37	38	39	

6. Pablo tiene 305 sellos más que Leo. Leo tiene 219 sellos menos que Rafa. Si Rafa tiene 600 sellos, ¿cuántos sellos tiene Leo? ¿Y Pablo?

Datos	Operaciones	Resultado
		Leo: ..... sellos
		Pablo: ..... sellos.
		

7. Elena pesa 29 kilos y Fernando siete kilos y medio menos. ¿Cuánto pesa Fernando?

Datos	Operaciones	Resultado
		Fernando pesa ..... kg y medio.

8. Tengo nueve años, mi padre 33 y mi abuela el doble de mi padre.  
¿Cuántos años tenemos entre los tres?



Datos	Operaciones	Resultado
		Entre los tres tienen ..... años.





## Traballa ATENCIÓN e PERCEPCIÓN VISUAL

Encuentra las 8 diferencias pueden ser de tamaño, color y orientación





## ENIGMA

Intenta resolver este enigma.



Agardo que todas estas propostas foran interesantes.  
Están pensadas para que sigas avanzando na túa  
aprendizaxe e para que desenvolvas as túas capacidades.

Fainas tranquilamente, sen agobios, xa que desde a titoría  
tamén terás que traballar.

Unha aperta.

A túa profesora de PT.