



ASÍ SE HACE



Observa cómo se resuelve este problema.

★ Mi hermano tenía 268 canicas en una bolsa. Le ha regalado algunas a su amigo y ahora sólo le quedan 150. ¿Cuántas canicas le ha regalado a su amigo?

Tenía      Se quedó con...

268	150

Si hubiera regalado...

268	150
-100	

268	150
-100	168

Se hubiera quedado con...



Si hubiera regalado 10 canicas más...

268	150
-100	168
-10	

268	150
-100	168
-10	158

Se hubiera quedado con...

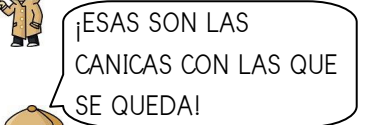


Si hubiera regalado 8 canicas más...

268	150
-100	168
-10	158
-8	

268	150
-100	168
-10	158
-8	150

Se hubiera quedado con...



268	150
-100	168
-10	158
-8	150

100 + 10 + 8 = 118

■ SOLUCIÓN

- Mi hermano le ha regalado a su amigo 118 canicas.

Resuelve los siguientes problemas de la misma forma.

★ En un autobús viajan 46 personas. En una parada bajan algunas y quedan dentro del autobús 25 pasajeros, ¿cuántas personas han bajado en esa parada?




■ SOLUCIÓN



★ Un frutero cogió una caja donde había 375 ciruelas, pero tuvo que tirar algunas que estaban en mal estado. Si al final quedaron en la caja 268, ¿cuántas ciruelas tiró el frutero?



■ SOLUCIÓN

---

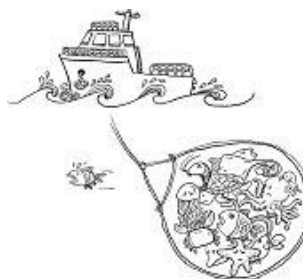
★ Salí de casa con mi padre para hacer la compra. Mi padre llevaba 300 euros y regresó con 128 ¿Cuánto dinero se gastó en la compra?



■ SOLUCIÓN

---

★ Un barco atrapó en sus redes a 562 peces, pero los pescadores tuvieron que devolver al mar muchos que eran pequeños. Al final consiguieron una captura de 379 ¿Cuántos peces devolvieron al mar por ser pequeños?



■ SOLUCIÓN

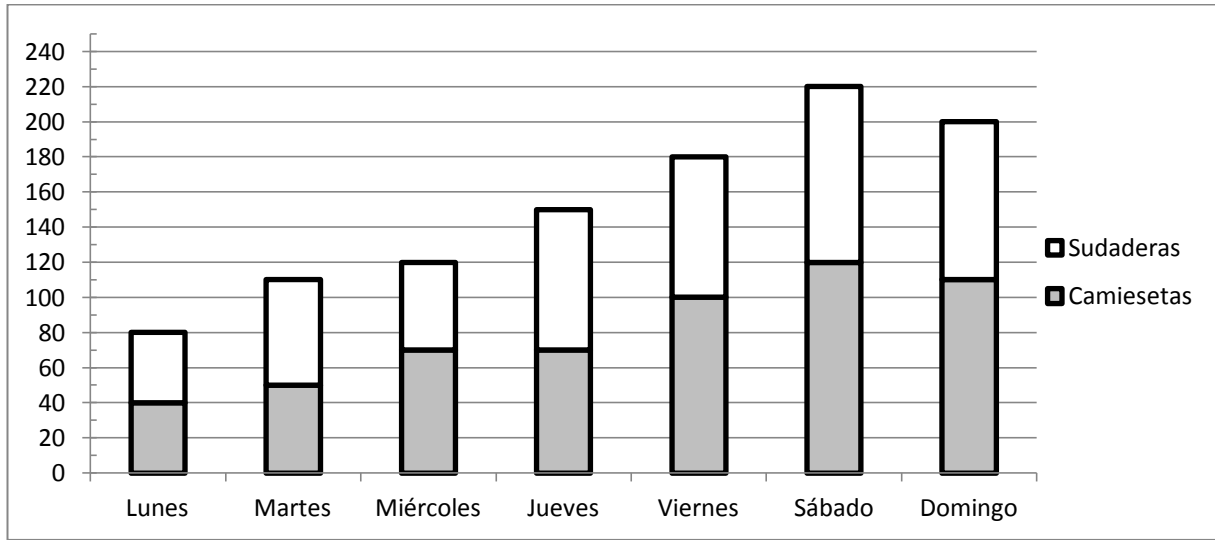
---



TABLAS Y GRÁFICAS



En la gráfica siguiente aparecen las camisetas y sudaderas que se vendieron en la tienda del Atlético de Madrid, durante una semana.



Señala los enunciados correctos.

- El martes se vendieron 50 camisetas.
- El viernes se vendieron las mismas sudaderas que el jueves.
- El sábado fue el día que más prendas se vendieron.
- El domingo se vendieron 80 prendas más que el miércoles.



Resuelve los siguientes problemas.

De las prendas que se vendieron el viernes, 120 las compraron por la mañana y el resto por la tarde ¿cuántas prendas compraron por la tarde?

SOLUCIÓN: \_\_\_\_\_

\_\_\_\_\_

\_\_\_\_\_

El viernes se pusieron a la venta 130 camisetas, pero algunas no las compraron, ¿cuántas camisetas se quedaron sin vender?

SOLUCIÓN: \_\_\_\_\_

\_\_\_\_\_

\_\_\_\_\_



MÁS PROBLEMAS



Rodea los datos y subraya las preguntas:



En una bolsa había 683 caramelos, pero separé unos cuantos para dárselos a mi hermano. Al final sólo quedaron 485, ¿cuántos caramelos separé?



**SOLUCIÓN:** \_\_\_\_\_



Fui a coger caracoles con mi prima y atrapamos 684. Cuando llegamos a casa comprobamos que algunos se habían escapado de la bolsa donde los metimos. Contamos los que quedaban que eran 479 ¿Cuántos caracoles se habían escapado?



**SOLUCIÓN:** \_\_\_\_\_



Mi madre puso su colección de sellos sobre la mesa. Había 700, pero una ráfaga de viento se llevó muchos. Mi madre contó los que quedaban que eran 453, ¿cuántos sellos se llevó el viento?



**SOLUCIÓN:** \_\_\_\_\_